

Series ZZY1/1



SET-1

प्रश्न-पत्र कोड
Q.P. Code 32/1/1

रोल नं.

Roll No.

--	--	--	--	--	--	--	--

परीक्षार्थी प्रश्न-पत्र कोड को उत्तर-पुस्तिका के मुख-पृष्ठ पर अवश्य लिखें।

Candidates must write the Q.P. Code on the title page of the answer-book.

सामाजिक विज्ञान SOCIAL SCIENCE

निर्धारित समय : 3 घण्टे

Time allowed : 3 hours

अधिकतम अंक : 80

Maximum Marks : 80

- कृपया जाँच कर लें कि इस प्रश्न-पत्र में मुद्रित पृष्ठ 32 (मानचित्र सहित) है।
- प्रश्न-पत्र में दाहिने हाथ की ओर दिए गए प्रश्न-पत्र कोड को परीक्षार्थी उत्तर-पुस्तिका के मुख-पृष्ठ पर लिखें।
- कृपया जाँच कर लें कि इस प्रश्न-पत्र में 37 प्रश्न हैं।
- कृपया प्रश्न का उत्तर लिखना शुरू करने से पहले, उत्तर-पुस्तिका में प्रश्न का क्रमांक अवश्य लिखें।
- इस प्रश्न-पत्र को पढ़ने के लिए 15 मिनट का समय दिया गया है। प्रश्न-पत्र का वितरण पूर्वाह्न में 10.15 बजे किया जाएगा। 10.15 बजे से 10.30 बजे तक परीक्षार्थी केवल प्रश्न-पत्र को पढ़ेंगे और इस अवधि के दौरान वे उत्तर-पुस्तिका पर कोई उत्तर नहीं लिखेंगे।
- Please check that this question paper contains 32 printed pages (Including Map).
- Q.P. Code given on the right hand side of the question paper should be written on the title page of the answer-book by the candidate.
- Please check that this question paper contains 37 questions.
- Please write down the serial number of the question in the answer-book before attempting it.
- 15 minute time has been allotted to read this question paper. The question paper will be distributed at 10.15 a.m. From 10.15 a.m. to 10.30 a.m., the candidates will read the question paper only and will not write any answer on the answer-book during this period.

^



32/1/1

138 A

1



P.T.O.

सामान्य निर्देश :

- (i) इस प्रश्न-पत्र में कुल 37 प्रश्न हैं। सभी प्रश्न अनिवार्य हैं।
यह प्रश्न-पत्र छः खण्डों में विभाजित है – खण्ड-क, खण्ड-ख, खण्ड-ग, खण्ड-घ, खण्ड-ङ और खण्ड-च।
- (ii) खण्ड – क में प्रश्न संख्या 1 से 20 तक बहुविकल्पीय प्रश्न हैं। प्रत्येक प्रश्न 1 अंक का है।
- (iii) खण्ड – ख में प्रश्न संख्या 21 से 24 तक अति लघु-उत्तरीय प्रश्न हैं। प्रत्येक प्रश्न 2 अंकों के हैं। प्रत्येक प्रश्न का उत्तर 40 शब्दों से अधिक का नहीं होना चाहिए।
- (iv) खण्ड – ग में प्रश्न संख्या 25 से 29 तक लघु उत्तरीय-प्रश्न हैं। प्रत्येक प्रश्न 3 अंकों के हैं। प्रत्येक प्रश्न का उत्तर 60 शब्दों से अधिक का नहीं होना चाहिए।
- (v) खण्ड – घ में प्रश्न संख्या 30 से 33 तक दीर्घ उत्तरीय प्रश्न हैं। प्रत्येक प्रश्न 5 अंकों के हैं। प्रत्येक प्रश्न का उत्तर 120 शब्दों से अधिक का नहीं होना चाहिए।
- (vi) खण्ड – ङ में प्रश्न संख्या 34 से 36 तक केस आधारित हैं। प्रत्येक प्रश्न के साथ 3-3 उपप्रश्न हैं। प्रत्येक प्रश्न 4 अंकों के हैं।
- (vii) खण्ड – च में प्रश्न संख्या 37 मानचित्र आधारित है। यह प्रश्न 5 अंकों के हैं 37 (a) (इतिहास से 2 अंक) और 37 (b) (भूगोल के 3 अंक)।
- (viii) इस प्रश्न-पत्र में समग्ररूप से विकल्प का प्रावधान नहीं है। फिर भी उपप्रश्नों में विकल्प का प्रावधान है। ऐसे प्रश्नों में से केवल एक विकल्पीय प्रश्न का उत्तर लिखना है।
- (ix) इसके अतिरिक्त प्रत्येक खण्ड और प्रश्न के साथ जहाँ भी आवश्यक है, पृथक से निर्देश दिए गए हैं।



General Instructions :

- (i) *Question paper contains 37 questions. All questions are compulsory. Question paper comprises six Sections – A, B, C, D, E and F.*
- (ii) *Section A – Question Nos. 1 to 20 are MCQs of 1 mark each.*
- (iii) *Section B – Question Nos. 21 to 24 are Very Short Answer Type Questions, carrying 2 marks each. Answer to each question should not exceed 40 words.*
- (iv) *Section C – Question Nos. 25 to 29 are Short Answer Type Questions, carrying 3 marks each. Answer to each question should not exceed 60 words.*
- (v) *Section D – Question Nos. 30 to 33 are Long Answer Type Questions, carrying 5 marks each. Answer to each question should not exceed 120 words.*
- (vi) *Section E – Question Nos. from 34 to 36 are Case Based Questions with three sub questions and are of 4 marks each.*
- (vii) *Section F – Question no. 37 is Map based, carrying 5 marks with two parts, 37(a) from History (2 marks) and 37(b) from Geography (3 marks).*
- (viii) *There is no overall choice in the question paper. However, an internal choice has been provided in a few questions. Only one of the choices in such questions have to be attempted.*
- (ix) *In addition to this, separate instructions are given with each section and question, wherever necessary.*



खण्ड – क
(बहुविकल्पीय प्रश्न)

(20 × 1 = 20)

1. जर्मैनिया के रूपक की निम्नलिखित विशेषताओं का उनके महत्त्व के साथ मिलान कीजिए और सही विकल्प का चयन कीजिए :

1

विशेषता	महत्त्व
a. टूटी हुई जंजीर	I. बहादुरी
b. बाज-छाप कवच	II. मुकाबले की तैयारी
c. वसूल पत्तियों का ताज	III. शक्ति
d. तलवार	IV. आज़ादी मिलना

विकल्प :

	a	b	c	d
(A)	I	II	III	IV
(B)	IV	III	I	II
(C)	II	I	IV	III
(D)	III	IV	II	I

2. निम्नलिखित में से कौन सा पहलू बी.आर. अम्बेडकर और ई.वी. रामास्वामी नायकर के लेखन में समान था ?

1

- (A) भारत में जाति-व्यवस्था पर लेख लिखना ।
(B) महिलाओं के अनुभवों पर प्रकाश डालना ।
(C) सांस्कृतिक विरासत के बारे में जागरूकता बढ़ाना ।
(D) भारतीयों को उनकी राष्ट्रीय स्वतंत्रता के लिए प्रेरित करना ।

3. निम्नलिखित में से किसने भारत में पहले लोहा और इस्पात उद्योग की स्थापना की ?

1

- (A) जे.आर.डी. टाटा
(B) पुरुषोत्तम दास
(C) आर.जी. सरैया
(D) ठाकुर दास



SECTION – A

(Multiple Choice Questions)

(20 × 1 = 20)

1. Match the following attributes of allegory of Germania with its significance and choose the correct option : 1

Attributes	Significance
a. Broken Chains	I. Heroism
b. Breast-Plate with eagle	II. Readiness to fight
c. Crown of oak leaves	III. Strength
d. Sword	IV. Being free

Options :

	a	b	c	d
(A)	I	II	III	IV
(B)	IV	III	I	II
(C)	II	I	IV	III
(D)	III	IV	II	I

2. Which one of the following aspects was common between the writings of B.R. Ambedkar and E.V. Ramaswamy Naicker ? 1
- (A) Wrote on the caste system in India
(B) Highlighted the experiences of women
(C) Raised awareness about cultural heritage
(D) Motivated Indians for their national freedom.
3. Who of the following set up the first Iron and Steel industry in India ? 1
- (A) J.R.D. Tata
(B) Purushotam Das
(C) R.G. Saraiya
(D) Thakur Das



4. निम्नलिखित को कालानुक्रमिक क्रम में व्यवस्थित कीजिए और सही विकल्प का चयन कीजिए : 1

- I. ब्रेटन वुड्स सम्मेलन में अन्तर्राष्ट्रीय मुद्राकोष की स्थापना ।
- II. केन्द्रीय शक्तियाँ और मित्र राष्ट्रों के बीच द्वितीय विश्वयुद्ध छिड़ा ।
- III. कार निर्माता हेनरी फोर्ड ने, उत्पादन के लिए 'असेम्बली लाइन पद्धति' को अपनाया ।
- IV. पश्चिमी अर्थव्यवस्थाओं ने खुद को 'G-77 समूह' के रूप में संगठित किया ।

विकल्प :

- (A) III, II, I और IV
- (B) I, II, III और IV
- (C) IV, III, II और I
- (D) IV, II, III और I

5. निम्नलिखित जानकारी की सहायता से फसल की पहचान कीजिए और सही विकल्प का चयन कीजिए : 1

- यह दूसरी सबसे महत्वपूर्ण अनाज की फसल है ।
- यह रबी की फसल है ।
- इसे उगने के लिए ठंडे मौसम और पकने के लिये खिली धूप की आवश्यकता होती है ।
- इसके लिए 50 से 75 cm वार्षिक वर्षा की आवश्यकता होती है ।

विकल्प :

- (A) गेहूँ
- (B) मक्का
- (C) चावल
- (D) गन्ना



4. Arrange the following in chronological order and choose the correct option : 1

- I. The Bretton Woods conference established the International Monetary Fund.
- II. The Second World War broke out between the Axis and Allied groups.
- III. A car manufacturer Henry Ford adopted the 'Assembly Line Method' for production.
- IV. The Western economies organized themselves as a group – 'The Group of 77'.

Options :

- (A) III, II, I and IV
- (B) I, II, III and IV
- (C) IV, III, II and I
- (D) IV, II, III and I

5. Identify the crop with the help of the following information and choose the correct option. 1

- This is the second most important Cereal Crop.
- This is a Rabi crop.
- It requires a cool growing season and bright sunshine at the time of ripening.
- It requires 50 to 75 cm annual rainfall.

Options :

- (A) Wheat
- (B) Maize
- (C) Rice
- (D) Sugarcane



6. निम्नलिखित राज्यों में से किसमें तुंगभद्रा बाँध स्थित है ? 1
- (A) तमिलनाडु
(B) केरल
(C) आंध्र प्रदेश
(D) कर्नाटक
7. निम्नलिखित में से कौन सा युग्म सुमेलित है ? 1
- (A) जलोढ़ मृदा – गंगा का मैदान
(B) काली मृदा – हिमालय क्षेत्र
(C) शुष्क मृदा – पश्चिमी घाट
(D) लैटेराइट मृदा – मरुस्थलीय क्षेत्र
8. निम्नलिखित देशों में से किसकी 'जन्म के समय संभावित आयु' सर्वाधिक है ? 1
- (A) नेपाल
(B) बांग्लादेश
(C) भारत
(D) पाकिस्तान
9. निम्नलिखित संस्थानों में से कौन सा भारत में रोजगार संबंधी आँकड़े उपलब्ध कराता है ? 1
- (A) राष्ट्रीय सांख्यिकी कार्यालय
(B) नीति आयोग
(C) राष्ट्रीय सूचना केन्द्र
(D) लोक सेवा आयोग



-
6. In which of the following States Tungabhadra Dam is located ? 1
- (A) Tamil Nadu
(B) Kerala
(C) Andhra Pradesh
(D) Karnataka
7. Which of the following pair is correctly matched ? 1
- (A) Alluvial Soil – Gangetic Plain
(B) Black Soil – Himalayan Region
(C) Arid Soil – Western Ghats
(D) Laterite Soil – Desert Area
8. Which of the following countries has the highest 'Life Expectancy' at the birth ? 1
- (A) Nepal (B) Bangladesh
(C) India (D) Pakistan
9. Which one of the following organization is providing data regarding employment in India ? 1
- (A) National Statistical Office
(B) Niti Ayog
(C) National Informatics Centre
(D) Public Service Commission



10. निम्नलिखित में से कौन सा बहुराष्ट्रीय कंपनी के लिए एक प्रमुख लाभ है, जब वह एक स्थानीय कंपनी के साथ संयुक्त उत्पादन पर काम करती है ? 1
- (A) बहुराष्ट्रीय कंपनी, स्थानीय कंपनी के साथ नवीनतम तकनीक साझा करती है ।
- (B) बहुराष्ट्रीय कंपनी उत्पादन के सभी मानदंडों और कीमत तय करती है ।
- (C) बहुराष्ट्रीय कंपनी अपनी संस्थागत नीति को स्थानीय कंपनी के साथ साझा करती है ।
- (D) बहुराष्ट्रीय कंपनी स्थानीय कंपनियों के साथ अच्छे और पारिवारिक संबंध बनाती है ।
11. निम्नलिखित में से कौन सा जोड़ा सुमेलित है ? 1
- (A) प्राथमिक क्षेत्रक - मछुआरा
- (B) द्वितीयक क्षेत्रक - पुजारी
- (C) तृतीयक क्षेत्रक - टोकरी बुनकर
- (D) चतुर्थक क्षेत्रक - माली
12. मान लीजिए कि एक क्षेत्र में चार परिवार हैं और इनकी मासिक आय ₹ 10,000, ₹ 20,000, ₹ 30,000 और ₹ 40,000 हैं तो क्षेत्र की औसत आय कितनी होगी ? निम्न में से सही विकल्प चुनिए : 1
- (A) ₹ 25,000
- (B) ₹ 30,000
- (C) ₹ 20,000
- (D) ₹ 10,000



-
10. Which one of the following is a major benefit to an MNC when it works on joint production with a local company ? 1
- (A) MNC shares its latest technology with the local company.
- (B) MNC decides all parameters and prices of the product.
- (C) MNC shares its institutional policy with local company.
- (D) MNC built good and familial relations with the local company.
11. Which one of the following pair is correctly matched ? 1
- (A) Primary Sector – Fishermen
- (B) Secondary Sector – Priest
- (C) Tertiary Sector – Basket Weaver
- (D) Quaternary Sector – Gardener
12. Assume there are four families in a locality. If the monthly income of each family is ₹ 10,000, ₹ 20,000, ₹ 30,000 and ₹ 40,000, then what is the average income of the locality ? Choose the correct option from the following : 1
- (A) ₹ 25,000
- (B) ₹ 30,000
- (C) ₹ 20,000
- (D) ₹ 10,000



13. कांता एक कार्यालय में कार्य करती है। वह नियमित रूप से महीने के अंत में वेतन प्राप्त करती है। वेतन के अलावा उसे सरकार द्वारा निर्धारित नियमों के अनुसार सुविधाएँ मिलती हैं। 1

कांता निम्नलिखित में से किस क्षेत्रक में कार्य कर रही है ?

- (A) संगठित क्षेत्रक
- (B) असंगठित क्षेत्रक
- (C) प्राथमिक क्षेत्रक
- (D) चतुर्थक क्षेत्रक

14. निम्नलिखित में से कौन सा ऋण का औपचारिक स्रोत है ? 1

- (A) रिश्तेदार
- (B) व्यापारी
- (C) साहूकार
- (D) सहकारी समिति

15. सत्ता के बंटवारे पर निम्नलिखित कथनों पर विचार कीजिए और सही विकल्प का चयन कीजिए : 1

- I. यह लोकतंत्र को मजबूत करता है।
- II. यह सामाजिक समूहों के बीच संघर्ष को कम करता है।
- III. यह राजनीतिक स्थिरता को सुनिश्चित करता है।
- IV. यह दलों के बीच सामाजिक – आर्थिक संघर्ष लाता है।

विकल्प :

- (A) I, II और III
- (B) II, III और IV
- (C) I, III और IV
- (D) I, II और IV



13. Kanta works in an office. She gets her salary regularly at the end of every month. In addition to the salary, she also gets other benefits laid down by the government.

In which of the following sector Kanta is working ?

1

- (A) Organised Sector
- (B) Unorganised Sector
- (C) Primary Sector
- (D) Quaternary Sector

14. Which one of the following is a formal source of credit ?

1

- (A) Relative
- (B) Trader
- (C) Money lender
- (D) Cooperative Society

15. Consider the following statements on Power Sharing and choose the correct option :

1

- I. It deepens democracy.
- II. It helps to reduce conflicts among social groups.
- III. It is a way to ensure political stability.
- IV. It brings socio-economic struggles.

Options :

- (A) I, II and III
- (B) II, III and IV
- (C) I, III and IV
- (D) I, II and IV



16. नीचे दो कथन, अभिकथन (A) और कारण (R) दिए गए हैं। कथनों को पढ़िए और सही विकल्प का चयन कीजिए :

1

अभिकथन (A) : चुनाव लोकतंत्र की आत्मा है।

कारण (R) : चुनाव राजनीतिक भागीदारी का विस्तार करते हैं।

विकल्प :

- (A) (A) और (R) दोनों सही हैं और (R), (A) की सही व्याख्या है।
(B) (A) और (R) दोनों सही हैं, परंतु (R), (A) की सही व्याख्या नहीं है।
(C) (A) सही है, लेकिन (R) गलत है।
(D) (R) गलत है, लेकिन (A) सही है।

17. स्तंभ-A और स्तंभ-B का मिलान कीजिए और सही विकल्प का चयन कीजिए :

1

स्तंभ – A (विषय)	स्तंभ – B (सूची/विषय)
I. रक्षा	1. समवर्ती सूची
II. पुलिस	2. संघ सूची
III. विवाह	3. राज्य सूची
IV. कम्प्यूटर सॉफ्टवेयर	4. अवशिष्ट विषय

विकल्प :

	I	II	III	IV
(A)	4	3	1	2
(B)	3	4	1	2
(C)	4	1	3	2
(D)	2	3	1	4



16. Two statements are given below as Assertion (A) and Reason (R). Read the Statements and choose the correct option : 1

Assertion (A) : Elections are the spirit of democracy.

Reason (R) : Elections expand Political participation.

Options :

- (A) Both (A) and (R) are true and (R) is the correct explanation of (A).
(B) Both (A) and (R) are true, but (R) is the not correct explanation of (A).
(C) (A) is true, but (R) is false.
(D) (A) is false, but (R) is true.

- 17 Match Column – A with Column – B and choose the correct option : 1

Column – A	Column – B
(Subjects)	(List/Subjects)
I. Defence	1. Concurrent List
II. Police	2. Union List
III. Marriage	3. State List
IV. Computer Software	4. Residuary Subjects

Options :

	I	II	III	IV
(A)	4	3	1	2
(B)	3	4	1	2
(C)	4	1	3	2
(D)	2	3	1	4



18. निम्नलिखित में से कौन सा समकालीन विश्व में सरकार का सबसे लोकप्रिय रूप है ? 1

- (A) तानाशाही सरकार
- (B) संवैधानिक राजतंत्र
- (C) सैन्य सरकार
- (D) लोकतांत्रिक सरकार

19. नीचे दो कथन, अभिकथन (A) और कारण (R) दिए गए हैं। कथनों को पढ़िए और सही विकल्प का चयन कीजिए : 1

अभिकथन (A) : दुनिया के विभिन्न हिस्सों में महिलाएँ संगठित हुईं और समान अधिकारों के लिए आंदोलन किया।

कारण (R) : महिलाओं के आंदोलनों का उद्देश्य व्यक्तिगत और पारिवारिक जीवन में भी समानता लाना है।

विकल्प :

- (A) (A) और (R) दोनों सही हैं और (R), (A) की सही व्याख्या है।
- (B) (A) और (R) दोनों सही हैं, परंतु (R), (A) की सही व्याख्या नहीं है।
- (C) (A) सही है, लेकिन (R) गलत है।
- (D) (A) गलत है, लेकिन (R) सही है।

20. निम्नलिखित में से कौन सा मामला 'पारिवारिक कानूनों' से संबंधित नहीं है ? 1

- (A) विवाह
- (B) गोद लेना
- (C) विरासत
- (D) वित्त



-
18. Which one of the following is the most popular form of government in the contemporary world ? 1
- (A) Dictatorial Government
(B) Constitutional Monarchy
(C) Military Government
(D) Democratic Government
19. Two statements are given below as Assertion (A) and Reason (R). Read the statements and choose the appropriate option : 1
- Assertion (A) :** Women in different parts of the World organized themselves and agitated for equal rights.
- Reason (R) :** Women's movement aimed at equality in personal and family life as well.
- Options :**
- (A) Both (A) and (R) are true and (R) is the correct explanation of (A).
(B) Both (A) and (R) are true, but (R) is the not correct explanation of (A).
(C) (A) is true, but (R) is false.
(D) (A) is false, but (R) is true.
20. Which one of the following matters do NOT deal with the 'Family Laws' ? 1
- (A) Marriage
(B) Adoption
(C) Inheritance
(D) Finance



खण्ड – ख

(4 × 2 = 8)

(अति लघु-उत्तरीय प्रश्न)

21. (a) यूरोप में रूमानीवाद की सांस्कृतिक आंदोलन के रूप में व्याख्या कीजिए। 2

अथवा

(b) 1848 में फ्रांस के फ्रेड्रिक सॉर्यू के सपनों की जनतांत्रिक और सामाजिक गणतंत्र के संदर्भ में व्याख्या कीजिए। 2

22. रोपण कृषि की किन्हीं दो विशेषताओं का उल्लेख कीजिए। 1 × 2 = 2

23. किन्हीं दो प्रावधानों की व्याख्या कीजिए जो भारत को एक धर्मनिरपेक्ष राज्य बनाते हैं। 1 × 2 = 2

24. कल्पना कीजिए कि आप ग्राम प्रधान हैं। किन्हीं दो गतिविधियों का सुझाव दीजिए जो आपको लगता है कि ग्रामवासियों की आय बढ़ाने के लिए किए जाने चाहिए। 2

खण्ड – ग

(5 × 3 = 15)

(लघु-उत्तरीय प्रश्न)

25. 19वीं शताब्दी के दौरान भारत में धार्मिक सुधारों पर मुद्रण संस्कृति के प्रभावों की व्याख्या कीजिए। 3

26. सूचना प्रौद्योगिकी ने इलेक्ट्रॉनिक उद्योग को किस प्रकार प्रभावित किया है ? स्पष्ट कीजिए। 1 × 3 = 3



SECTION – B

(Very Short Answer Type Questions)

(4 × 2 = 8)

21. (a) Explain Romanticism as a cultural movement in Europe. **2**

OR

- (b) Explain Frederic Sarrieu's dream in the context of democratic and social republics in France during 1848. **2**

22. Mention any two features of Plantation agriculture. **1 × 2 = 2**

23. Explain any two provisions that make India a secular state. **1 × 2 = 2**

24. Imagine that you are the village Head. Suggest any two activities that you think should be taken up to increase the income of the villagers. **2**

SECTION – C

(Short Answer Type Questions)

(5 × 3 = 15)

25. Explain the implication of print culture on the religious reforms in India during 19th century. **3**

26. How has Information Technology affected Electronic Industry ? Explain.

1 × 3 = 3



27. 'विकास की धारणीयता के प्रश्न पर प्रकृति एवं विकास की प्रक्रिया पर कई नए प्रश्न उठते हैं।' उदाहरणों सहित व्याख्या कीजिए। 3

28. राजनीतिक दल के किन्हीं तीन कार्यों की व्याख्या कीजिए। 1 × 3 = 3

29. (a) भारतीय रिजर्व बैंक के किन्हीं तीन कार्यों को स्पष्ट कीजिए। 3

अथवा

(b) लोगों से स्वीकार की गई मुद्रा के संबंध में बैंकों की भूमिका की व्याख्या कीजिए। 3

खण्ड – घ

(4 × 5 = 20)

(दीर्घ-उत्तरीय प्रश्न)

30. (a) भारत की आर्थिक और राजनीतिक स्थिति पर प्रथम विश्व युद्ध के प्रभावों का विश्लेषण कीजिए। 5

अथवा

(b) 19वीं सदी के आखिर में भारत में राष्ट्रवाद के विकास में लोककथाओं और प्रतीकों की भूमिका का विश्लेषण कीजिए। 5

31. (a) 'सक्षम परिवहन के साधन तीव्र विकास हेतु पूर्व अपेक्षित हैं।' इस कथन को न्यायसंगत ठहराइये। 5

अथवा

(b) "सड़क परिवहन रेल परिवहन की अपेक्षा अधिक सुविधाजनक है।" इस कथन को न्यायसंगत ठहराइये। 5



27. 'The question of sustainability of development raises many fundamentally new issues about the nature and process of development.' Explain it with examples. **3**

28. Explain any three functions of Political Party. **1 × 3 = 3**

29. (a) Explain any three functions of the Reserve Bank of India. **3**

OR

(b) Explain the role of banks with regard to money which they accept from the public. **3**

SECTION – D

(Long Answer Type Questions)

(4 × 5 = 20)

30. (a) Analyse the implications of First World War on the economic and Political situation of India. **5**

OR

(b) Analyse the role of folklore and symbols in the revival of nationalism in India during late 19th century. **5**

31. (a) 'Efficient means of Transport are pre-requisite for fast development.' Justify the statement. **5**

OR

(b) 'Roadways have an edge over Railways.' Justify the statement. **5**



32. (a) 'पूरी दुनिया में लोकतंत्र के विचार के लिए भारी समर्थन है।' इस कथन की उदाहरणों सहित पुष्टि कीजिए। 5

अथवा

- (b) "लोकतंत्र सभी सामाजिक-आर्थिक और राजनीतिक समस्याओं का समाधान कर सकता है।" तर्कों सहित इस कथन की पुष्टि कीजिए। 5

33. (a) भारत में वैश्वीकरण के प्रभाव का विश्लेषण कीजिए। 5

अथवा

- (b) वैश्वीकरण को निष्पक्ष बनाने के तरीकों का विश्लेषण कीजिए। 5

खण्ड – ड

(3 × 4 = 12)

(केस आधारित प्रश्न)

34. दिए गए स्रोत को पढ़िए और उसके नीचे दिए प्रश्नों का उत्तर लिखिए : 4

वस्तुओं के लिए बाज़ार

नए उपभोक्ता पैदा करने का एक तरीका विज्ञापनों का है। जैसा कि आप जानते हैं, विज्ञापन विभिन्न उत्पादों को जरूरी और वांछनीय बना देते हैं। वे लोगों की सोच बदल देते हैं और नयी जरूरतें पैदा कर देते हैं। आज हम एक ऐसी दुनिया में हैं जहाँ चारों तरफ़ विज्ञापन छाए हुए हैं। अखबारों, पत्रिकाओं, होर्डिंग्स, दीवारों, टेलीविजन के परदे पर, सब जगह विज्ञापन छाए हुए हैं। लेकिन अगर हम इतिहास में पीछे मुड़कर देखें तो पता चलता है कि औद्योगीकरण की शुरुआत से ही विज्ञापनों ने विभिन्न उत्पादों के बाज़ार को फैलाने में और एक नयी उपभोक्ता संस्कृति रचने में अपनी भूमिका निभाई है।

जब मैनचेस्टर के उद्योगपतियों ने भारत में कपड़ा बेचना शुरू किया तो वे कपड़े के बंडलों पर लेबल लगाते थे। लेबल का फ़ायदा यह होता था कि खरीदारों को कंपनी का नाम व उत्पादन की जगह पता चल जाती थी। लेबल ही चीज़ों की गुणवत्ता का प्रतीक भी था। जब किसी लेबल पर मोटे अक्षरों में 'मेड इन मैनचेस्टर' लिखा दिखाई देता तो खरीदारों को कपड़ा खरीदने में किसी तरह का डर नहीं रहता था।

- (34.1) अंग्रेज़ों द्वारा भारत में वस्तुओं का विज्ञापन किस प्रकार किया जाता था ? 1

- (34.2) औपनिवेशिक भारत के दौरान विज्ञापनों के माध्यम से नए उपभोक्ता कैसे बने ? 1

- (34.3) औद्योगीकरण के दौरान विज्ञापनों के माध्यम से दिए गए संदेशों की व्याख्या कीजिए। 2



-
32. (a) “There is an overwhelming support for the idea of democracy all over the world.” Support the statement with examples. 5

OR

- (b) “Democracy can address all socio-economic and political problems.” Support the statement with arguments. 5
33. (a) Analyse the impact of globalization in India. 5
- OR**
- (b) Analyse the ways to make globalization fair. 5

SECTION – E

(Case Based Questions)

(3 × 4 = 12)

34. Read the given case and answer the questions that follow : 4

Market for Goods

One way in which new consumers are created is through advertisements. As you know, advertisements make products appear desirable and necessary. They try to shape the minds of people and create new needs. Today we live in a world where advertisements surround us. They appear in newspapers, magazines, hoardings, street walls, television screens. But if we look back into history, we find that from the very beginning of the industrial age, advertisements have played a part in expanding the markets for products, and in shaping a new consumer culture. When Manchester industrialists began selling cloth in India, they put labels on the cloth bundles. The label was needed to make the place of manufacture and the name of the company familiar to the buyer. The label was also to be a mark of quality. When buyers saw ‘MADE IN MANCHESTER’ written in bold on the label, they were expected to feel confident about buying the cloth.

- (34.1) How was the marketing of goods done in India by the British ? 1
- (34.2) How were the new consumers created through advertisement during colonial India ? 1
- (34.3) Identify the messages conveyed through advertisements during industrialization. 2



35. दिए गए स्रोत को पढ़िए और उसके नीचे दिए गए प्रश्नों के उत्तर लिखिए :

4

ऊर्जा संसाधनों का संरक्षण

आर्थिक विकास के लिए ऊर्जा एक आधारभूत आवश्यकता है। राष्ट्रीय अर्थव्यवस्था के प्रत्येक सेक्टर – कृषि, उद्योग, परिवहन, वाणिज्य व घरेलू आवश्यकताओं की पूर्ति के लिए ऊर्जा के निवेश की आवश्यकता है। स्वतंत्रता-प्राप्ति के पश्चात् क्रियान्वित आर्थिक विकास की योजनाओं को चालू रखने के लिए ऊर्जा की बड़ी मात्रा की आवश्यकता थी। फलस्वरूप पूरे देश में ऊर्जा के सभी प्रकारों का उपयोग धीरे-धीरे बढ़ रहा है।

इस पृष्ठभूमि में ऊर्जा के विकास के सतत् पोषणीय मार्ग के विकसित करने की तुरंत आवश्यकता है। ऊर्जा संरक्षण की प्रोन्नति और नवीकरणीय ऊर्जा संसाधनों का बढ़ता प्रयोग सतत् पोषणीय ऊर्जा के दो आधार हैं।

वर्तमान में भारत विश्व के अल्पतम ऊर्जादक्ष देशों में गिना जाता है। हमें ऊर्जा के सीमित संसाधनों के न्यायसंगत उपयोग के लिए सावधानीपूर्ण उपागम अपनाना होगा। उदाहरणार्थ एक जागरूक नागरिक के रूप में हम यातायात के लिए निजी वाहन की अपेक्षा सार्वजनिक वाहन का उपयोग करके, जब प्रयोग न हो रही हो तो बिजली बन्द करके विद्युत बचत करने वाले उपकरणों के प्रयोग से तथा गैर-पारंपरिक ऊर्जा साधनों के प्रयोग से हम अपना छोटा योगदान दे सकते हैं। आखिरकार 'ऊर्जा की बचत ही ऊर्जा उत्पादन है।'

(35.1) सतत पोषणीय ऊर्जा सतत विकास की कुंजी क्यों है ?

1

(35.2) पूरे भारत में ऊर्जा की खपत क्यों बढ़ रही है ?

1

(35.3) "ऊर्जा की बचत ही ऊर्जा का उत्पादन है।" स्पष्ट कीजिए।

2



35. Read the given case and answer the questions that follow :

4

CONSERVATION OF ENERGY RESOURCES

Energy is a basic requirement for economic development. Every sector of the national economy – agriculture, industry, transport, commercial and domestic – needs inputs of energy. The economic development plans implemented since independence necessarily required increasing amounts of energy to remain operational. As a result, consumption of energy in all forms has been steadily rising all over the country. In this background, there is an urgent need to develop a sustainable path of energy development. Promotion of energy conservation and increased use of renewable energy sources are the twin planks of sustainable energy. India is presently one of the least energy efficient countries in the world. We have to adopt a cautious approach for the judicious use of our limited energy resources. For example, as concerned citizens we can do our bit by using public transport systems instead of individual vehicles; switching off electricity when not in use, using power-saving devices and using non-conventional sources of energy. At last **“Energy Saved is energy produced”**

- (35.1) Why is sustainable energy a key to sustainable development ? 1
- (35.2) Why is consumption of energy rising in all over India? 1
- (35.3) Explain ‘Energy saved is energy produced’. 2



36. दिए गए स्रोत को पढ़िए और उसके नीचे दिए गए स्रोत प्रश्नों का उत्तर लिखिए :

4

भारत में विकेंद्रीकरण

जब केंद्र और राज्य सरकार से शक्तियाँ लेकर स्थानीय सरकारों को दी जाती हैं तो इसे सत्ता का विकेंद्रीकरण कहते हैं। विकेंद्रीकरण के पीछे बुनियादी सोच यह है कि अनेक मुद्दों और समस्याओं का निपटारा स्थानीय स्तर पर ही बढ़िया ढंग से हो सकता है। लोगों को अपने इलाके की समस्याओं की बेहतर समझ होती है। लोगों को इस बात की भी अच्छी जानकारी होती है कि पैसा कहाँ खर्च किया जाए और चीजों का अधिक कुशलता से उपयोग किस तरह किया जा सकता है। इसके अलावा स्थानीय स्तर पर लोगों को फैसलों में सीधे भागीदार बनाना भी संभव हो जाता है। इससे लोकतांत्रिक भागीदारी की आदत पड़ती है। स्थानीय सरकारों की स्थापना स्व-शासन के लोकतांत्रिक सिद्धांत को वास्तविक बनाने का सबसे अच्छा तरीका है।

विकेंद्रीकरण की ज़रूरत हमारे संविधान में भी स्वीकार की गई। इसके बाद से गाँव और शहर के स्तर पर सत्ता के विकेंद्रीकरण की कई कोशिशें हुई हैं। सभी राज्यों में गाँव के स्तर पर ग्राम पंचायतों और शहरों में नगरपालिकाओं की स्थापना की गई थी। पर इन्हें राज्य सरकारों के सीधे नियंत्रण में रखा गया था।

- (36.1) लोकतंत्र में 'विकेंद्रीकरण' को स्पष्ट कीजिए। 1
- (36.2) लोकतंत्र में स्थानीय स्व-शासन के महत्त्व को स्पष्ट कीजिए। 1
- (36.3) विकेंद्रीकरण के लिए भारत सरकार द्वारा उठाए गए किन्हीं दो उपायों का वर्णन कीजिए। $1 \times 2 = 2$

खण्ड - च

(2 + 3 = 5)

(मानचित्र आधारित प्रश्न)

37. (a) भारत के दिए गए राजनीतिक रेखा-मानचित्र पर दो स्थानों (A) और (B) के रूप में अंकित किए गए हैं। दी गई जानकारी की सहायता से उन्हें पहचानिए और उनके पास खींची गई रेखाओं पर उनके सही नाम लिखिए। 2

(A) वह स्थान जहाँ भारतीय राष्ट्रीय कांग्रेस का अधिवेशन सितंबर 1920 में हुआ था।

(B) वह स्थान जहाँ महात्मा गाँधी ने नमक कानून तोड़ा था।



36. Read the given extract and answer **all** questions :

4

DECENTRALISATION IN INDIA

When power is taken away from Central and State governments and given to local government, it is called decentralization. The basic idea behind decentralization is that there are a large number of problems and issues which are best settled at the local level. People have better knowledge of problems in their localities. They also have better ideas on where to spend money and how to manage things more efficiently. Besides, at the local level it is possible for the people to directly participate in decision making. This helps to inculcate a habit of democratic participation. Local government is the best way to realise one important principle of democracy, namely local self-government.

The need for decentralisation was recognized in our Constitution. Since then, there have been several attempts to decentralize power to the level of villages and towns. Panchayats in villages and municipalities in urban areas were set up in all the States. But these were directly under the control of State Governments. Elections to these local governments were not held regularly.

- (36.1) Explain Decentralization in democracy. 1
- (36.2) Explain the importance of Local self Government in democracy. 1
- (36.3) Describe any two steps taken by Indian government for decentralization. 1 × 2 = 2

SECTION – F

(Map Based Questions)

(2 + 3 = 5)

37. (a) Two places (A) and (B) have been marked on the given outline political Map of India. Identify them with the help of given information and write their correct names on the lines drawn near them : 2
- (A) The place where the session of INC was held in September, 1920.
- (B) The place where Mahatma Gandhi broke Salt Law.



(b) भारत के इसी रेखा-मानचित्र पर निम्नलिखित में से किन्हीं **तीन** को उपयुक्त चिह्नों से दर्शाइये और उनके नाम लिखिए :

3

- (i) हीराकुड बाँध
- (ii) तारापुर परमाणु संयंत्र
- (iii) पुणे सॉफ्टवेयर टेक्नोलॉजी पार्क
- (iv) पाराद्वीप समुद्री पत्तन

नोट : केवल दृष्टिबाधित परीक्षार्थियों के लिए प्रश्न संख्या 37 के स्थान पर हैं ।

(5 × 1 = 5)

किन्हीं पाँच प्रश्नों के उत्तर दीजिए :

- (37.1) उस राज्य का नाम लिखिए जहाँ भारतीय राष्ट्रीय कांग्रेस का अधिवेशन सितंबर, 1920 में हुआ था । 1
- (37.2) उस राज्य का नाम लिखिए जहाँ गांधीजी ने नमक कानून तोड़ा । 1
- (37.3) उस स्थान का नाम लिखिए जहाँ सलाल बाँध स्थित है । 1
- (37.4) उस राज्य का नाम लिखिए जहाँ तारापुर परमाणु संयंत्र स्थित है । 1
- (37.5) उस राज्य का नाम लिखिए जहाँ पुणे सॉफ्टवेयर टेक्नोलॉजी पार्क स्थित है । 1
- (37.6) उस राज्य का नाम लिखिए जहाँ पाराद्वीप समुद्री पत्तन स्थित है । 1



-
- (b) On the same outline Map of India, locate and label any **THREE** of the following with suitable symbols : **3**
- (i) Hirakud Dam
 - (ii) Tarapur Atomic Power Station
 - (iii) Pune Software Technology Park
 - (iv) Paradip Sea Port

Note : The following questions are for Visually Impaired Candidates only in Lieu of Q. No. 37. (5 × 1 = 5)

Attempt any **five** questions :

- (37.1) Name the place where the session of INC was held in September, 1920. **1**
- (37.2) Name the state where Gandhiji broke Salt Law. **1**
- (37.3) Name the place where Salal Dam is located. **1**
- (37.4) Name the state where Tarapur Nuclear Plant is located. **1**
- (37.5) Name the state where Pune Software Technology park is located. **1**
- (37.6) Name the state where 'Paradip' Sea Port is located. **1**





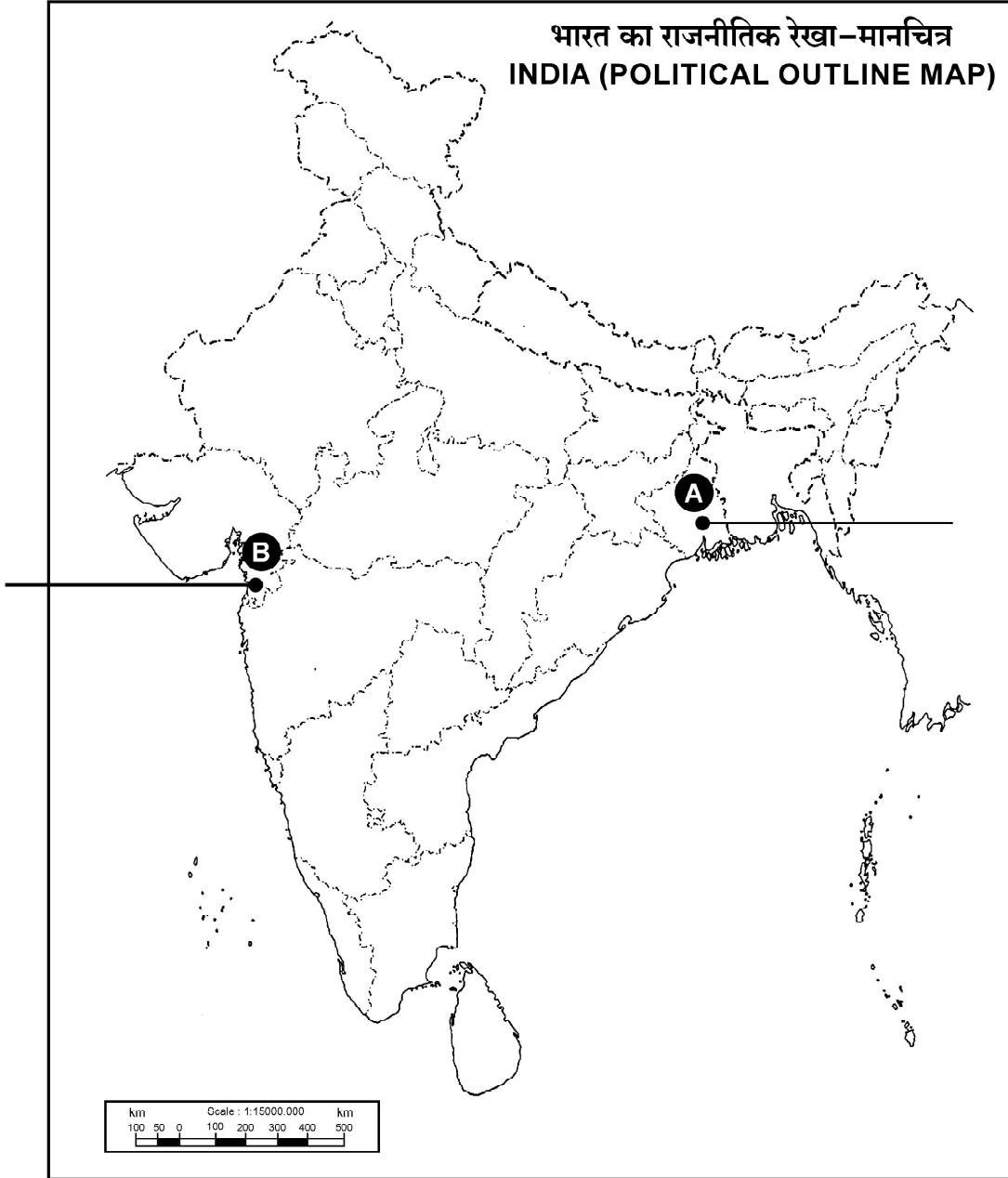
प्रश्न सं. 37 के लिए मानचित्र
Map for Q. No. 37

यहाँ से काटें

Cut Here

यहाँ से काटें

Cut Here



32/1/1

138 A

32



Series ZZY1/2



SET-1

प्रश्न-पत्र कोड
Q.P. Code 32/2/1

रोल नं.
Roll No.

--	--	--	--	--	--	--	--

परीक्षार्थी प्रश्न-पत्र कोड को उत्तर-पुस्तिका के मुख-पृष्ठ पर अवश्य लिखें ।

Candidates must write the Q.P. Code on the title page of the answer-book.

सामाजिक विज्ञान SOCIAL SCIENCE

निर्धारित समय : 3 घण्टे

अधिकतम अंक : 80

Time allowed : 3 hours

Maximum Marks : 80

- कृपया जाँच कर लें कि इस प्रश्न-पत्र में मुद्रित पृष्ठ 21 + 1 मानचित्र हैं ।
- प्रश्न-पत्र में दाहिने हाथ की ओर दिए गए प्रश्न-पत्र कोड को परीक्षार्थी उत्तर-पुस्तिका के मुख-पृष्ठ पर लिखें ।
- कृपया जाँच कर लें कि इस प्रश्न-पत्र में 37 प्रश्न हैं ।
- कृपया प्रश्न का उत्तर लिखना शुरू करने से पहले, उत्तर-पुस्तिका में प्रश्न का क्रमांक अवश्य लिखें ।
- इस प्रश्न-पत्र को पढ़ने के लिए 15 मिनट का समय दिया गया है । प्रश्न-पत्र का वितरण पूर्वाह्न में 10.15 बजे किया जाएगा । 10.15 बजे से 10.30 बजे तक छात्र केवल प्रश्न-पत्र को पढ़ेंगे और इस अवधि के दौरान वे उत्तर-पुस्तिका पर कोई उत्तर नहीं लिखेंगे ।
- Please check that this question paper contains 21 printed pages +1 Map.
- Q.P. Code given on the right hand side of the question paper should be written on the title page of the answer-book by the candidate.
- Please check that this question paper contains 37 questions.
- Please write down the serial number of the question in the answer-book before attempting it.
- 15 minute time has been allotted to read this question paper. The question paper will be distributed at 10.15 a.m. From 10.15 a.m. to 10.30 a.m., the students will read the question paper only and will not write any answer on the answer-book during this period.



सामान्य निर्देश:

निम्नलिखित निर्देशों को बहुत सावधानी से पढ़िए और उनका सख्ती से पालन कीजिए :

- (i) इस प्रश्न-पत्र में 37 प्रश्न हैं। सभी प्रश्न अनिवार्य हैं।
- (ii) यह प्रश्न-पत्र छः खण्डों में विभाजित है – खण्ड क, ख, ग, घ, ङ एवं च।
- (iii) खण्ड क – प्रश्न संख्या 1 से 20 तक बहुविकल्पीय प्रश्न हैं। प्रत्येक प्रश्न 1 अंक का है।
- (iv) खण्ड ख – प्रश्न संख्या 21 से 24 अति लघु-उत्तरीय प्रश्न हैं। प्रत्येक प्रश्न 2 अंक का है। प्रत्येक प्रश्न का उत्तर 40 शब्दों में लिखिए।
- (v) खण्ड ग – प्रश्न संख्या 25 से 29 तक लघु-उत्तरीय प्रश्न हैं। प्रत्येक प्रश्न 3 अंक का है। प्रत्येक प्रश्न का उत्तर 60 शब्दों में लिखिए।
- (vi) खण्ड घ – प्रश्न संख्या 30 से 33 दीर्घ-उत्तरीय प्रश्न हैं। प्रत्येक प्रश्न 5 अंक का है। प्रत्येक प्रश्न का उत्तर 120 शब्दों में लिखिए।
- (vii) खण्ड ङ – प्रश्न संख्या 34 से 36 केस-आधारित प्रश्न हैं। प्रत्येक प्रश्न के साथ 3 – 3 उप-प्रश्न हैं। प्रत्येक प्रश्न 4 अंक का है।
- (viii) खण्ड च में प्रश्न संख्या 37 मानचित्र-आधारित है। यह प्रश्न 5 अंक का है, जो कि इतिहास से (37(क) – 2 अंक) तथा भूगोल (37(ख) – 3 अंक) से संबंधित है।
- (ix) प्रश्न-पत्र में समग्र पर कोई विकल्प नहीं है। तथापि, कुछ प्रश्नों में आंतरिक विकल्प दिए गए हैं। ऐसे प्रश्नों में से केवल एक ही विकल्प का उत्तर लिखिए।
- (x) इसके अतिरिक्त, आवश्यकतानुसार, प्रत्येक खण्ड और प्रश्न के साथ यथोचित निर्देश दिए गए हैं।

खण्ड क

(बहुविकल्पीय प्रश्न)

(20×1=20)

1. 1815 में नेपोलियन की हार के बाद यूरोपीय सरकारें निम्नलिखित में से किस भावना से प्रेरित थीं ?
 - (a) समाजवाद
 - (b) रूढ़िवाद
 - (c) उदारवाद
 - (d) रूमानीवाद



General Instructions :

Read the following instructions very carefully and strictly follow them :

- (i) This questions paper contains **37** questions. **All** questions are **compulsory**.
- (ii) This question paper comprises **six** sections – **Sections A, B, C, D, E and F**.
- (iii) **Section A** – Questions no. **1 to 20** are MCQs of **1** mark each.
- (iv) **Section B** – Questions no. **21 to 24** are very short answer type questions, carrying **2** marks each. Answer to each question should not exceed **40** words.
- (v) **Section C** – Questions no. **25 to 29** are short answer type questions, carrying **3** marks each. Answer to each question should not exceed **60** words.
- (vi) **Section D** – Questions no. **30 to 33** are long answer type questions, carrying **5** marks each. Answer to each question should not exceed **120** words.
- (vii) **Section E** – Questions no. **34 to 36** are case-based questions with three sub-questions and are of **4** marks each.
- (viii) **Section F** – Question no. **37** is map-based, carrying **5** marks with two parts, **37(a)** from History (**2** marks) and **37(b)** from Geography (**3** marks).
- (ix) There is no overall choice in the question paper. However, an internal choice has been provided in few questions. **Only one of the choices** in such questions has to be attempted.
- (x) In addition to this, separate instructions are given with each section and question, wherever necessary.

SECTION A
(Multiple Choice Questions)

(20×1=20)

1. Which one of the following ideologies were the European Governments driven by after the defeat of Napoleon in 1815 ?
- (a) Socialism
 - (b) Conservatism
 - (c) Liberalism
 - (d) Romanticism



2. प्रथम विश्व युद्ध में केंद्रीय शक्तियों से संबंधित निम्नलिखित में से सही विकल्प का चयन कीजिए :
- (a) जर्मनी, ऑस्ट्रिया-हंगरी और ऑटोमन तुर्की
(b) ब्रिटेन, फ्रांस और रूस
(c) इटली, जापान और रूस
(d) फ्रांस, ऑस्ट्रिया-हंगरी और चीन
3. 1920 के दशक में निम्नलिखित में से किस देश की महत्वपूर्ण विशेषता 'बृहत् उत्पादन' का चलन थी ?
- (a) संयुक्त राज्य अमेरिका (b) पोलैंड
(c) फ्रांस (d) जापान
4. नीचे दिए गए चित्र को देखिए । चित्र में दिए गए वरिष्ठ साहित्यकार के नाम को पहचानिए और सही विकल्प का चयन कीजिए ।



विकल्प :

- (a) राम मोहन रॉय (b) राजा रवि वर्मा
(c) लक्ष्मीनाथ बेज़बरुवा (d) गंगाधर भट्टाचार्य

नोट : निम्नलिखित प्रश्न केवल दृष्टिबाधित परीक्षार्थियों के लिए प्रश्न संख्या 4 के स्थान पर है ।

निम्नलिखित में से कौन 'गुलामगिरी' के लेखक हैं ?

- (a) डॉ. बी.आर. अंबेडकर (b) ई.वी. पेरियार
(c) ज्योतिबा फुले (d) राम मोहन रॉय



-
2. Choose the correct option from the following regarding Central Powers in the First World War :
- (a) Germany, Austria-Hungary and Ottoman Turkey
(b) Britain, France and Russia
(c) Italy, Japan and Russia
(d) France, Austria-Hungary and China
3. In which one of the following countries was 'mass production' an important feature in the 1920s ?
- (a) United States of America (b) Poland
(c) France (d) Japan
4. Look at the picture given below. Identify the name of the senior litterateur shown in the image and choose the correct option.



Options :

- (a) Ram Mohan Roy (b) Raja Ravi Verma
(c) Lakshminath Bezbaruah (d) Gangadhar Bhattacharya

Note : The following question is for the **Visually Impaired Candidates** only, in lieu of Q. No. 4.

Who among the following is the writer of 'Gulamgiri' ?

- (a) Dr. B.R. Ambedkar (b) E.V. Periyar
(c) Jyotiba Phule (d) Ram Mohan Roy



5. निम्नलिखित में से कौन-सी मृदा उच्च तापमान और अत्यधिक वर्षा वाले क्षेत्रों में विकसित होती है ?

- (a) लाल और पीली (b) काली
(c) जलोढ (d) लेटराइट

6. दो कथन, अभिकथन (A) और कारण (R) के रूप में दिए गए हैं। दोनों कथनों को पढ़िए और सही विकल्प का चयन कीजिए।

अभिकथन (A) : कृषि तथा उद्योग एक-दूसरे के पूरक हैं।

कारण (R) : देश में औद्योगिक विकास बेरोज़गारी तथा गरीबी उन्मूलन की आवश्यक शर्त है।

- (a) अभिकथन (A) और कारण (R) दोनों सही हैं और कारण (R), अभिकथन (A) की सही व्याख्या करता है।
(b) अभिकथन (A) और कारण (R) दोनों सही हैं, परन्तु कारण (R), अभिकथन (A) की सही व्याख्या नहीं करता है।
(c) अभिकथन (A) सही है, परन्तु कारण (R) ग़लत है।
(d) अभिकथन (A) ग़लत है, परन्तु कारण (R) सही है।

7. स्तम्भ I का मिलान स्तम्भ II से कीजिए और सही विकल्प का चयन कीजिए।

स्तम्भ I (पत्तन)	स्तम्भ II (प्रकार)
i. कांडला	1. नदीय पत्तन
ii. मुंबई	2. स्थल से घिरा गहरा पत्तन
iii. विशाखापटनम	3. बृहत्तम पत्तन
iv. कोलकाता	4. स्वतंत्रता प्राप्ति के बाद विकसित पत्तन

विकल्प :

- (a) i – 4, ii – 3, iii – 2, iv – 1
(b) i – 2, ii – 1, iii – 3, iv – 4
(c) i – 2, ii – 4, iii – 1, iv – 3
(d) i – 1, ii – 2, iii – 4, iv – 3



5. Which one of the following soils develops in an area with high temperature and heavy rainfall ?

- (a) Red and Yellow (b) Black
(c) Alluvial (d) Laterite

6. There are two statements given as Assertion (A) and Reason (R). Read both the statements and choose the correct option.

Assertion (A) : Agriculture and industry move hand in hand.

Reason (R) : Industrial development is a precondition for eradication of unemployment and poverty from the country.

- (a) Both Assertion (A) and Reason (R) are true and Reason (R) is the correct explanation of the Assertion (A).
(b) Both Assertion (A) and Reason (R) are true, but Reason (R) is **not** the correct explanation of the Assertion (A).
(c) Assertion (A) is true, but Reason (R) is false.
(d) Assertion (A) is false, but Reason (R) is true.

7. Match *Column I* with *Column II* and choose the correct option.

<i>Column I</i> (Port)	<i>Column II</i> (Type)
i. Kandla	1. Riverine port
ii. Mumbai	2. Deepest landlocked port
iii. Visakhapatnam	3. Biggest port
iv. Kolkata	4. Port developed after independence

Options :

- (a) i – 4, ii – 3, iii – 2, iv – 1
(b) i – 2, ii – 1, iii – 3, iv – 4
(c) i – 2, ii – 4, iii – 1, iv – 3
(d) i – 1, ii – 2, iii – 4, iv – 3



8. दो कथन, अभिकथन (A) और कारण (R) के रूप में दिए गए हैं। दोनों कथनों को पढ़िए और सही विकल्प का चयन कीजिए।

अभिकथन (A) : बेल्जियम ने अपने संविधान में चार बार संशोधन किए।

कारण (R) : संशोधन सभी को एक ही देश में एक साथ रहने में सक्षम बनाने के लिए थे।

- (a) अभिकथन (A) और कारण (R) दोनों सही हैं और कारण (R), अभिकथन (A) की सही व्याख्या करता है।
- (b) अभिकथन (A) और कारण (R) दोनों सही हैं, परन्तु कारण (R), अभिकथन (A) की सही व्याख्या नहीं करता है।
- (c) अभिकथन (A) सही है, परन्तु कारण (R) ग़लत है।
- (d) अभिकथन (A) ग़लत है, परन्तु कारण (R) सही है।

9. निम्नलिखित में से कौन-सा 'साथ आकर संघ' बनाने का उदाहरण है ?

- (a) भारत (b) संयुक्त राज्य अमेरिका
(c) बेल्जियम (d) स्पेन

10. स्तम्भ I का मिलान स्तम्भ II से कीजिए और सही विकल्प का चयन कीजिए।

स्तम्भ I	स्तम्भ II
i. संघ सूची	1. कृषि
ii. राज्य सूची	2. कम्प्यूटर सॉफ्टवेयर
iii. समवर्ती सूची	3. बैंकिंग
iv. बाकी बचे विषय	4. शिक्षा

विकल्प :

- (a) i – 3, ii – 1, iii – 4, iv – 2 (b) i – 4, ii – 3, iii – 2, iv – 1
(c) i – 2, ii – 4, iii – 3, iv – 1 (d) i – 1, ii – 2, iii – 3, iv – 4

11. निम्नलिखित क्षेत्रों में से किसमें सार्वजनिक जीवन में महिलाओं की भागेदारी अधिकतम है ?

- (a) नॉर्डिक देश (b) अरब मुल्क
(c) यूरोपीय देश (d) एशियाई देश



-
8. There are two statements given as Assertion (A) and Reason (R). Read both the statements and choose the correct option.

Assertion (A) : Belgium amended their constitution four times.

Reason (R) : Amendments were to enable everyone to live together in the same country.

- (a) Both Assertion (A) and Reason (R) are true and Reason (R) is the correct explanation of the Assertion (A).
- (b) Both Assertion (A) and Reason (R) are true, but Reason (R) is **not** the correct explanation of the Assertion (A).
- (c) Assertion (A) is true, but Reason (R) is false.
- (d) Assertion (A) is false, but Reason (R) is true.
9. Which one of the following is an example of 'coming together federation' ?
- (a) India (b) USA
- (c) Belgium (d) Spain

10. Match *Column I* with *Column II* and choose the correct option.

<i>Column I</i>	<i>Column II</i>
i. Union List	1. Agriculture
ii. State List	2. Computer Software
iii. Concurrent List	3. Banking
iv. Residuary Subjects	4. Education

Options :

- (a) i – 3, ii – 1, iii – 4, iv – 2 (b) i – 4, ii – 3, iii – 2, iv – 1
- (c) i – 2, ii – 4, iii – 3, iv – 1 (d) i – 1, ii – 2, iii – 3, iv – 4
11. In which one of the following regions is the participation of women in public life the highest ?
- (a) Nordic countries (b) Arab states
- (c) European countries (d) Asian countries



12. निम्नलिखित राज्यों में से कौन-सा क्षेत्रीय दल द्वारा शासित है ?

- (a) हरियाणा (b) मध्य प्रदेश
(c) ओडिशा (d) राजस्थान

13. निम्नलिखित देशों में से किसने बहुदलीय व्यवस्था को अपनाया है ?

- (a) संयुक्त राज्य अमेरिका (b) भारत
(c) चीन (d) यूनाइटेड किंगडम

14. रिक्त स्थान की पूर्ति के लिए सही विकल्प का चयन कीजिए ।

विश्व बैंक द्वारा देशों की तुलना करने के लिए उनकी _____ सबसे महत्वपूर्ण विशिष्टता समझी जाती है ।

- (a) शिक्षा (b) आय
(c) स्वास्थ्य स्तर (d) जीवन स्तर

15. दी गई तालिका का अध्ययन कीजिए और उसके नीचे दिए गए प्रश्न का उत्तर लिखिए :

वर्ष 2019 के लिए भारत और उसके पड़ोसी देशों के कुछ आँकड़े

देश	सकल राष्ट्रीय आय (स.रा.आ.) प्रति व्यक्ति अमेरिकी डॉलर में (2011 क्रय शक्ति क्षमता)	जन्म के समय संभावित आयु	विद्यालयी औसत आयु 25 वर्ष या उससे अधिक	विश्व में मानव विकास सूचकांक (HDI) का क्रमांक (2018)
श्रीलंका	12,707	77	10.6	73
भारत	6,681	69.7	6.5	130
म्यांमार	4,961	67.1	5.0	148
पाकिस्तान	5,005	67.3	5.2	154
नेपाल	3,457	70.8	5.0	143
बांग्लादेश	4,976	72.6	6.2	134

निम्नलिखित देशों में से किसका 'मानव विकास सूचकांक (HDI)' का स्तर सर्वाधिक है ?

- (a) भारत (b) बांग्लादेश
(c) श्रीलंका (d) नेपाल



12. Which of the following States is ruled by a regional party ?
- (a) Haryana (b) Madhya Pradesh
(c) Odisha (d) Rajasthan
13. Which one of the following countries adopted multi-party system ?
- (a) USA (b) India
(c) China (d) United Kingdom
14. Choose the correct option to fill in the blank.
For comparing countries, their _____ is considered to be one of the most important attributes by the World Bank.
- (a) Education (b) Income
(c) Health Status (d) Living Standard
15. Study the given table and answer the question that follows :

Some data regarding India and its Neighbours for 2019

Country	Gross National Income (GNI) per capita (2011 PPP \$)	Life Expectancy at birth	Mean Years of Schooling of People aged 25 and above	HDI Rank in the world (2018)
Sri Lanka	12,707	77	10·6	73
India	6,681	69·7	6·5	130
Myanmar	4,961	67·1	5·0	148
Pakistan	5,005	67·3	5·2	154
Nepal	3,457	70·8	5·0	143
Bangladesh	4,976	72·6	6·2	134

Which of the following countries has the highest level of 'Human Development Index (HDI)' ?

- (a) India (b) Bangladesh
(c) Sri Lanka (d) Nepal



16. प्राकृतिक उत्पादों को अन्य रूपों में परिवर्तित किया जाना कहलाता है :
- (a) प्राथमिक उत्पाद (b) द्वितीयक उत्पाद
(c) तृतीयक उत्पाद (d) चतुर्थक उत्पाद
17. निम्नलिखित में से कौन-सी असंगठित क्षेत्रक की एक विशेषता है ?
- (a) रोज़गार की अवधि नियमित होती है ।
(b) लोगों के पास सुनिश्चित काम होता है ।
(c) उनकी कुछ औपचारिक प्रक्रिया एवं कार्यविधि है ।
(d) नियम और विनियम होते हैं परन्तु उनका पालन नहीं होता है ।
18. निम्नलिखित में से कौन-सी आधुनिक रूप की करेंसी है ?
- (a) कागज के नोट (b) सोने के सिक्के
(c) चाँदी के सिक्के (d) ताँबे के सिक्के
19. निम्नलिखित शहरी परिवारों का कौन-सा वर्ग औपचारिक क्षेत्रक से ऋण का अधिकतम प्रतिशत प्राप्त करता है ?
- (a) ग़रीब परिवार (b) कम परिसंपत्ति वाले परिवार
(c) समृद्ध परिवार (d) अमीर परिवार
20. निम्नलिखित में से कौन-सी वैश्वीकरण की एक चुनौती है ?
- (a) नए बाज़ारों तक पहुँच
(b) नई प्रतिभा तक पहुँच
(c) अंतर्राष्ट्रीय भर्ती होना
(d) अनुपातहीन वृद्धि होना



-
- 16.** Natural products being changed into other forms is known as :
- (a) Primary product (b) Secondary product
(c) Tertiary product (d) Quarternary product
- 17.** Which one of the following is a feature of the unorganized sector ?
- (a) Terms of employment are regular.
(b) People have assured work.
(c) They have some formal processes and procedures.
(d) There are rules and regulations but not followed.
- 18.** Which one of the following is the modern form of currency ?
- (a) Paper notes (b) Gold coins
(c) Silver coins (d) Copper coins
- 19.** Which one of the following categories of urban households take the highest percentage of loan from the formal sector ?
- (a) Poor households (b) Households with few assets
(c) Well-off households (d) Rich households
- 20.** Which one of the following is a challenge of Globalisation ?
- (a) Access to New Markets
(b) Access to New Talent
(c) International Recruitment
(d) Disproportionate Growth



खण्ड ख

(अति लघु-उत्तरीय प्रश्न)

(4×2=8)

21. (क) इटली के प्रदेशों को एकीकृत करने वाले आंदोलन के नेतृत्वकर्ता मुख्य मंत्री कावूर की भूमिका का विश्लेषण कीजिए । 2
- अथवा
- (ख) उन्नीसवीं शताब्दी के दौरान यूरोप में उदारवादी राष्ट्रवाद के विचारों की परख कीजिए । 2
22. भारत में वन्यजीव संरक्षण के लिए किन्हीं दो उपायों का सुझाव दीजिए । 2×1=2
23. 1956 में श्रीलंकाई तमिलों की नाराजगी क्यों बढ़ गई ? स्पष्ट कीजिए । 2
24. “ऋण कर्जदार को ऐसी परिस्थिति में धकेल देता है, जहाँ से बाहर निकलना काफी कष्टदायक है ।” इस कथन की परख कीजिए । 2

खण्ड ग

(लघु-उत्तरीय प्रश्न)

(5×3=15)

25. (क) यूरोप में मुद्रण किस प्रकार अस्तित्व में आया ? व्याख्या कीजिए । 3
- अथवा
- (ख) किताबों तक पहुँच आसान होने से किस प्रकार पढ़ने की एक नई संस्कृति विकसित हुई ? व्याख्या कीजिए । 3
26. “ऊर्जा सभी क्रियाकलापों के लिए आवश्यक है ।” इस कथन की उदाहरणों सहित व्याख्या कीजिए । 3
27. भारत में महिलाओं की साक्षरता दर बढ़ाने के तीन उपाय सुझाइए । 3×1=3
28. प्राथमिक एवं द्वितीयक क्षेत्रक में उदाहरणों सहित अंतर स्पष्ट कीजिए । 3
29. भारत में तृतीयक क्षेत्रक के बढ़ते महत्त्व की परख कीजिए । 3

खण्ड घ

(दीर्घ-उत्तरीय प्रश्न)

(4×5=20)

30. (क) सविनय अवज्ञा आंदोलन में व्यवसायी वर्गों की भूमिका का विश्लेषण कीजिए । 5
- अथवा
- (ख) सविनय अवज्ञा आंदोलन में महिलाओं की भूमिका का विश्लेषण कीजिए । 5
31. (क) भारत में आरंभिक जीविका निर्वाह और वाणिज्यिक कृषि की विशेषताओं की व्याख्या कीजिए । 2+3=5
- अथवा
- (ख) भारत में गहन जीविका एवं रोपण कृषि की विशेषताओं की व्याख्या कीजिए । 2+3=5



SECTION B

(Very Short Answer Type Questions)

(4×2=8)

21. (a) Analyse the role of Chief Minister Cavour who led the movement to unite the regions of Italy. 2
- OR**
- (b) Examine the ideas of liberal nationalism in Europe during the nineteenth century. 2
22. Suggest any two ways to conserve wildlife in India. 2×1=2
23. Why did the feeling of alienation increase among the Sri Lankan Tamils in 1956 ? Explain. 2
24. "Credit pushes the borrower into a situation from which recovery is painful." Examine the statement. 2

SECTION C

(Short Answer Type Questions)

(5×3=15)

25. (a) How did print come into existence in Europe ? Explain. 3
- OR**
- (b) How did access to books create a new culture of reading ? Explain. 3
26. "Energy is required for all activities." Explain the statement with examples. 3
27. Suggest three steps to enhance the literacy rate among women in India. 3×1=3
28. Differentiate between primary and secondary sectors with examples. 3
29. Examine the rising importance of the tertiary sector in India. 3

SECTION D

(Long Answer Type Questions)

(4×5=20)

30. (a) Analyse the role of the business classes in Civil Disobedience Movement. 5
- OR**
- (b) Analyse the role of women in Civil Disobedience Movement. 5
31. (a) Explain the features of primitive subsistence and commercial farming in India. 2+3=5
- OR**
- (b) Explain the features of intensive subsistence and plantation farming in India. 2+3=5



32. (क) उन परिस्थितियों का विश्लेषण कीजिए जिनमें लोकतांत्रिक शासन व्यवस्थाएँ सामाजिक विविधताओं में सामंजस्य स्थापित करती हैं । 5

अथवा

- (ख) उन परिस्थितियों का विश्लेषण कीजिए जिनमें लोकतांत्रिक शासन व्यवस्थाएँ नागरिकों की गरिमा और आज़ादी को बढ़ावा देती हैं । 5
33. (क) बहुराष्ट्रीय कंपनियाँ किस प्रकार विश्वभर के उत्पादन को एक-दूसरे से जोड़ती हैं ? उदाहरणों सहित स्पष्ट कीजिए । 5

अथवा

- (ख) विदेशी निवेश को आकर्षित करने के लिए केन्द्र एवं राज्य सरकारों द्वारा किए गए किन्हीं पाँच उपायों की व्याख्या कीजिए । 5×1=5

खण्ड ड

(केस-आधारित प्रश्न)

(3×4=12)

34. दिए गए स्रोत को पढ़िए और उसके नीचे दिए गए प्रश्नों के उत्तर लिखिए :

पहले विश्व युद्ध तक औद्योगिक विकास धीमा रहा । युद्ध ने एक बिलकुल नई स्थिति पैदा कर दी थी । ब्रिटिश कारखाने सेना की ज़रूरतों को पूरा करने के लिए युद्ध संबंधी उत्पादन में व्यस्त थे इसलिए भारत में मैनेचेस्टर के माल का आयात कम हो गया । भारतीय बाज़ारों को रातोंरात एक विशाल देशी बाज़ार मिल गया । युद्ध लंबा खिंचा तो भारतीय कारखानों में भी फ़ौज के लिए जूट की बोरियाँ, फ़ौजियों के लिए वर्दी के कपड़े, टेंट और चमड़े के जूते, घोड़े व खच्चर की जीन तथा बहुत सारे अन्य सामान बनने लगे । नए कारखाने लगाए गए । पुराने कारखाने कई पालियों में चलने लगे । बहुत सारे नए मज़दूरों को काम पर रखा गया और हरेक को पहले से भी ज़्यादा समय तक काम करना पड़ता था । युद्ध के दौरान औद्योगिक उत्पादन तेज़ी से बढ़ा ।

युद्ध के बाद, भारतीय बाज़ार में मैनेचेस्टर को पहले वाली हैसियत कभी हासिल नहीं हो पायी । युद्ध के बाद आधुनिकीकरण न कर पाने और अमेरिका, जर्मनी व जापान के मुकाबले कमजोर पड़ जाने के कारण ब्रिटेन की अर्थव्यवस्था चरमरा गई थी । कपास का उत्पादन बहुत कम रह गया था और ब्रिटेन से होने वाले सूती कपड़े के निर्यात में ज़बरदस्त गिरावट आई । उपनिवेशों में विदेशी उत्पादों को हटाकर स्थानीय उद्योगपतियों ने घरेलू बाज़ारों पर क़ब्ज़ा कर लिया और धीरे-धीरे अपनी स्थिति मज़बूत बना ली ।

- (34.1) भारत में मैनेचेस्टर के माल का आयात कम क्यों हो गया ? 1
- (34.2) प्रथम विश्व युद्ध के बाद भारतीय बाज़ारों में मैनेचेस्टर को पहले वाली हैसियत कभी क्यों हासिल नहीं हो पाई ? 1
- (34.3) प्रथम विश्व युद्ध से भारत को होने वाले किन्हीं दो लाभों का विश्लेषण कीजिए । 2×1=2



-
32. (a) Analyse the conditions under which democracies accommodate social diversities. 5
- OR**
- (b) Analyse the conditions under which democracies promote dignity and freedom of citizens. 5
33. (a) How do Multinational Corporations (MNCs) interlink production across countries ? Explain with examples. 5
- OR**
- (b) Explain any five steps taken by the Central and State Governments to attract foreign investments. 5×1=5

SECTION E
(Case-Based Questions) (3×4=12)

34. Read the given source and answer the questions that follow :

Yet, till the First World War, industrial growth was slow. The war created a dramatically new situation. With British mills busy with war production to meet the needs of the army, Manchester imports into India declined. Suddenly, Indian mills had a vast home market to supply. As the war prolonged, Indian factories were called upon to supply war needs: jute bags, cloth for army uniforms, tents and leather boots, horse and mule saddles and a host of other items. New factories were set up and old ones ran multiple shifts. Many new workers were employed and everyone was made to work longer hours. Over the war years industrial production boomed.

After the war, Manchester could never recapture its old position in the Indian market. Unable to modernise and compete with the US, Germany and Japan, the economy of Britain crumbled after the war. Cotton production collapsed and exports of cotton cloth from Britain fell dramatically. Within the colonies, local industrialists gradually consolidated their position, substituting foreign manufacturers and capturing the home market.

- (34.1) Why did Manchester imports decline in India ? 1
- (34.2) Why could Manchester never recapture its old position in the Indian market after the First World War ? 1
- (34.3) Analyse any two benefits of the First World War to India. 2×1=2



35. दिए गए स्रोत को पढ़िए और उसके नीचे दिए गए प्रश्नों के उत्तर लिखिए :

नदी परियोजनाओं पर उठी अधिकतर आपत्तियाँ उनके उद्देश्यों में विफल हो जाने पर हैं । यह एक विडंबना ही है कि जो बाँध बाढ़ नियंत्रण के लिए बनाए जाते हैं उनके जलाशयों में तलछट जमा होने से वे बाढ़ आने का कारण बन जाते हैं । अत्यधिक वर्षा होने की दशा में तो बड़े बाँध भी कई बार बाढ़ नियंत्रण में असफल रहते हैं । आपने पढ़ा होगा कि वर्ष 2006 में महाराष्ट्र और गुजरात में भारी वर्षा के दौरान बाँधों से छोड़े गए जल की वजह से बाढ़ की स्थिति और भी विकट हो गई । इन बाढ़ों से न केवल जान और माल का नुकसान हुआ अपितु बृहत् स्तर पर मृदा अपरदन भी हुआ । बाँध के जलाशय पर तलछट जमा होने का अर्थ यह भी है कि यह तलछट जो कि एक प्राकृतिक उर्वरक है बाढ़ के मैदानों तक नहीं पहुँचती जिसके कारण भूमि निम्नीकरण की समस्याएँ बढ़ती हैं । यह भी माना जाता है कि बहु-उद्देशीय योजनाओं के कारण भूकंप आने की संभावना भी बढ़ जाती है और अत्यधिक जल के उपयोग से जल-जनित बीमारियाँ, फ़सलों में कीटाणु-जनित बीमारियाँ और प्रदूषण फैलते हैं ।

(35.1) गुजरात में नदी परियोजना के विरुद्ध आंदोलन का नाम लिखिए ।

1

(35.2) अत्यधिक वर्षा होने की दशा में अधिकतर बड़े बाँध किस प्रकार बाढ़ नियंत्रण में असफल रहते हैं ?

1

(35.3) बहु-उद्देशीय नदी परियोजनाओं के किन्हीं दो लाभों का विश्लेषण कीजिए ।

2×1=2

36. दिए गए स्रोत को पढ़िए और उसके नीचे दिए गए प्रश्नों के उत्तर लिखिए :

राजनीतिक दलों का उदय प्रतिनिधित्व पर आधारित लोकतांत्रिक व्यवस्था के उभार के साथ जुड़ा है । हम पढ़ चुके हैं कि बड़े समाजों के लिए प्रतिनिधित्व आधारित लोकतंत्र की ज़रूरत होती है । जब समाज बड़े और जटिल हो जाते हैं तब उन्हें विभिन्न मुद्दों पर अलग-अलग विचारों को समेटने और सरकार की नज़र में लाने के लिए किसी माध्यम या एजेंसी की ज़रूरत होती है । विभिन्न जगहों से आए प्रतिनिधियों को साथ करने की ज़रूरत होती है ताकि एक ज़िम्मेवार सरकार का गठन हो सके । उन्हें सरकार का समर्थन करने या उस पर अंकुश रखने, नीतियाँ बनवाने और नीतियों का समर्थन अथवा विरोध करने के लिए उपकरणों की ज़रूरत होती है । प्रत्येक प्रतिनिधि-सरकार की ऐसी जो भी ज़रूरतें होती हैं, राजनीतिक दल उनको पूरा करते हैं । इस तरह हम कह सकते हैं कि राजनीतिक दल लोकतंत्र की एक अनिवार्य शर्त हैं ।

(36.1) 'राजनीतिक दल' के अर्थ को स्पष्ट कीजिए ।

1

(36.2) "राजनीतिक दलों का उदय प्रतिनिधित्व पर आधारित लोकतांत्रिक व्यवस्था के उभार के साथ जुड़ा है ।" इस कथन की पुष्टि कीजिए ।

1

(36.3) राजनीतिक दल क्यों लोकतंत्र की एक अनिवार्य शर्त है ? स्पष्ट कीजिए ।

2



35. Read the given source and answer the questions that follow :

Most of the objections to the projects arose due to their failure to achieve the purposes for which they were built. Ironically, the dams that were constructed to control the floods have triggered floods due to sedimentation in the reservoir. Moreover, the big dams have mostly been unsuccessful in controlling floods at the time of excessive rainfall. You may have seen or read how the release of water from the dams during heavy rains aggravated the flood situation in Maharashtra and Gujarat in 2006. The floods have not only devastated life and property but also caused extensive soil erosion. Sedimentation also meant that the flood plains were deprived of silt, a natural fertiliser, further adding on to the problem of land degradation. It was also observed that the multi-purpose projects induced earthquakes, caused water-borne diseases and pests and pollution resulting from excessive use of water.

- (35.1) Name the movement against the river project in Gujarat. 1
- (35.2) How have the big dams mostly been unsuccessful in controlling floods at the time of excessive rainfall ? 1
- (35.3) Analyse any two merits of multi-purpose river projects. 2×1=2

36. Read the given source and answer the questions that follow :

The rise of political parties is directly linked to the emergence of representative democracies. As we have seen, large societies need representative democracy. As societies became large and complex, they also needed some agency to gather different views on various issues and to present these to the government. They needed some ways, to bring various representatives together so that a responsible government could be formed. They needed a mechanism to support or restrain the government, make policies, justify or oppose them. Political parties fulfil these needs that every representative government has. We can say that parties are a necessary condition for a democracy.

- (36.1) Explain the meaning of a 'political party'. 1
- (36.2) "The rise of political parties is directly linked to the emergence of representative democracies." Support this statement. 1
- (36.3) Why are political parties a necessary condition for a democracy ? Explain. 2



खण्ड च

(मानचित्र कौशल आधारित प्रश्न)

(2+3=5)

37. (क) भारत के दिए गए राजनीतिक रेखा-मानचित्र (पृष्ठ 23 पर), में दो स्थान A और B के रूप में दर्शाए गए हैं। निम्नलिखित जानकारी की सहायता से उनके सही नाम उनके समीप खींची गई रेखाओं पर लिखिए :

(i) वह स्थान जहाँ दिसम्बर, 1920 में भारतीय राष्ट्रीय कांग्रेस का अधिवेशन हुआ। 1

(ii) वह स्थान जहाँ जलियाँवाला बाग घटना हुई। 1

(ख) भारत के इसी राजनीतिक रेखा-मानचित्र में निम्नलिखित में से किन्हीं **तीन** को उपयुक्त चिह्नों से दर्शाइए और उनके नाम लिखिए : 3×1=3

(i) नोएडा – सॉफ्टवेयर टेक्नोलोजी पार्क

(ii) बेलाडिला – लौह-अयस्क की खानें

(iii) तारापुर – परमाणु ऊर्जा संयंत्र

(iv) हल्दिया – समुद्री पत्तन

नोट : निम्नलिखित प्रश्न केवल दृष्टिबाधित परीक्षार्थियों के लिए प्रश्न संख्या 37 के स्थान पर हैं।

किन्हीं पाँच प्रश्नों के उत्तर दीजिए।

5×1=5

(37.1) उस स्थान का नाम लिखिए जहाँ दिसम्बर, 1920 में भारतीय राष्ट्रीय कांग्रेस का अधिवेशन हुआ।

(37.2) उस स्थान का नाम लिखिए जहाँ जलियाँवाला बाग घटना हुई।

(37.3) भारत के कॉफी के किसी एक प्रमुख उत्पादक राज्य का नाम लिखिए।

(37.4) उस राज्य का नाम लिखिए जहाँ बेलाडिला लौह-अयस्क की खानें हैं।

(37.5) उस राज्य का नाम लिखिए जहाँ तारापुर परमाणु ऊर्जा संयंत्र स्थित है।

(37.6) उस राज्य का नाम लिखिए जहाँ हल्दिया समुद्री पत्तन स्थित है।



SECTION F

(Map Skill Based Question)

(2+3=5)

- 37.** (a) Two places A and B have been marked on the given political outline map of **India** (on page 23). Identify them with the help of the following information and write their correct names on the lines drawn near them :
- (i) The place where the session of the Indian National Congress was held in December, 1920. 1
 - (ii) The place where Jallianwala Bagh incident occurred. 1
- (b) On the same political outline map of **India**, locate and label any **three** of the following with suitable symbols : 3×1=3
- (i) Noida – Software Technology Park
 - (ii) Bailadila – Iron-ore mines
 - (iii) Tarapur – Nuclear Power Plant
 - (iv) Haldia – Sea port

Note : *The following questions are for the **Visually Impaired Candidates** only, in lieu of Q. No. 37.*

*Answer any **five** questions.*

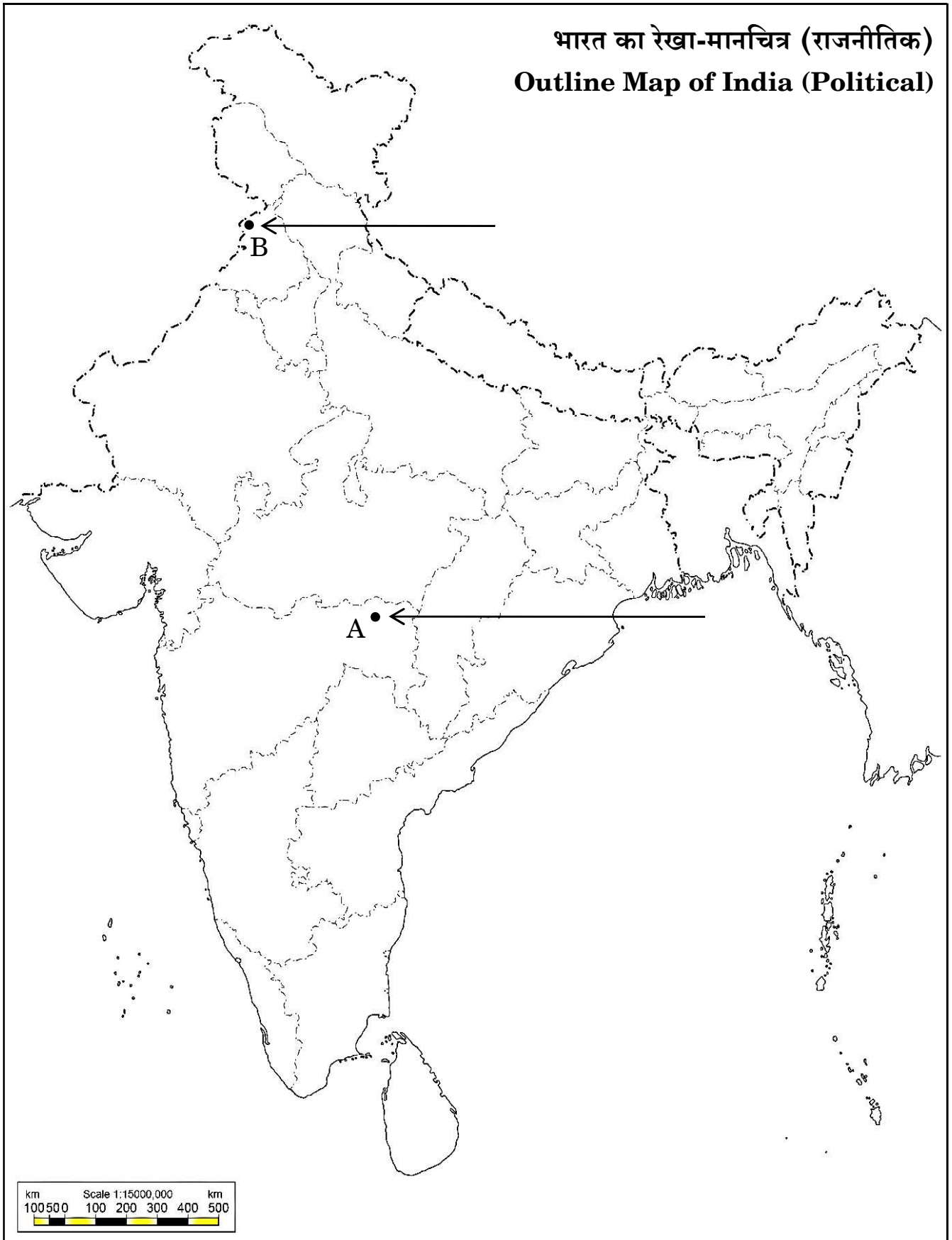
5×1=5

- (37.1) Name the place where Indian National Congress session took place in December, 1920.
- (37.2) Name the place where the Jallianwala Bagh incident occurred.
- (37.3) Name any one major coffee producing state of India.
- (37.4) Name the state where Bailadila iron ore mines are located.
- (37.5) Name the state where Tarapur nuclear power plant is located.
- (37.6) Name the state where Haldia sea port is located.



प्रश्न सं. 37 के लिए

For question no. 37



Series ZZYY1/4



SET-1

प्रश्न-पत्र कोड
Q.P. Code

32/4/1

रोल नं.
Roll No.

--	--	--	--	--	--	--	--

परीक्षार्थी प्रश्न-पत्र कोड को उत्तर-पुस्तिका के मुख-पृष्ठ पर अवश्य लिखें।
Candidates must write the Q.P. Code on the title page of the answer-book.

सामाजिक विज्ञान SOCIAL SCIENCE

निर्धारित समय : 3 घण्टे
Time allowed : 3 hours

अधिकतम अंक : 80
Maximum Marks : 80

- कृपया जाँच कर लें कि इस प्रश्न-पत्र में मुद्रित पृष्ठ 21 + एक मानचित्र हैं।
- प्रश्न-पत्र में दाहिने हाथ की ओर दिए गए प्रश्न-पत्र कोड को छात्र उत्तर-पुस्तिका के मुख-पृष्ठ पर लिखें।
- कृपया जाँच कर लें कि इस प्रश्न-पत्र में 37 प्रश्न हैं।
- कृपया प्रश्न का उत्तर लिखना शुरू करने से पहले, उत्तर-पुस्तिका में प्रश्न का क्रमांक अवश्य लिखें।
- इस प्रश्न-पत्र को पढ़ने के लिए 15 मिनट का समय दिया गया है। प्रश्न-पत्र का वितरण पूर्वाह्न में 10.15 बजे किया जाएगा। 10.15 बजे से 10.30 बजे तक छात्र केवल प्रश्न-पत्र को पढ़ेंगे और इस अवधि के दौरान वे उत्तर-पुस्तिका में कोई उत्तर नहीं लिखेंगे।
- Please check that this question paper contains 21 printed pages + ONE MAP.
- Q.P. Code given on the right hand side of the question paper should be written on the title page of the answer-book by the candidate.
- Please check that this question paper contains 37 questions.
- Please write down the Serial Number of the question in the answer-book before attempting it.
- 15 minute time has been allotted to read this question paper. The question paper will be distributed at 10.15 a.m. From 10.15 a.m. to 10.30 a.m., the students will read the question paper only and will not write any answer on the answer-book during this period.

#





सामान्य निर्देश :

निम्नलिखित निर्देशों को बहुत सावधानी से पढ़िए और उनका पालन कीजिए :

- (i) इस प्रश्न-पत्र में कुल 37 प्रश्न हैं, सभी प्रश्न अनिवार्य हैं।
- (ii) प्रश्न-पत्र में छः खण्ड - क, ख, ग, घ, ङ तथा च हैं।
- (iii) खण्ड - क : प्रश्न सं. 1 से 20 तक बहुविकल्पीय प्रकार के प्रश्न हैं। प्रत्येक प्रश्न 1 अंक का है।
- (iv) खण्ड - ख : प्रश्न सं. 21 से 24 तक अति लघु-उत्तरीय प्रकार के प्रश्न हैं। प्रत्येक प्रश्न 2 अंकों का है। प्रत्येक प्रश्न का उत्तर 40 शब्दों से अधिक का नहीं होना चाहिए।
- (v) खण्ड - ग : प्रश्न सं. 25 से 29 लघु-उत्तरीय प्रकार के प्रश्न हैं। प्रत्येक प्रश्न 3 अंकों का है। प्रत्येक प्रश्न का उत्तर 60 शब्दों से अधिक का नहीं होना चाहिए।
- (vi) खण्ड - घ : प्रश्न सं. 30 से 33 दीर्घ-उत्तरीय प्रकार के प्रश्न हैं। प्रत्येक प्रश्न 5 अंकों का है। प्रत्येक प्रश्न का उत्तर 120 शब्दों से अधिक का नहीं होना चाहिए।
- (vii) खण्ड - ङ : प्रश्न सं. 34 से 36 केस आधारित / स्रोत आधारित प्रश्न हैं। प्रत्येक प्रश्न में 3 उप प्रश्न हैं। प्रत्येक प्रश्न 4 अंकों का है।
- (viii) खण्ड - च : प्रश्न सं. 37 मानचित्र कौशल आधारित है। यह प्रश्न 5 अंकों का, 37 (i) इतिहास से (2 अंक) और 37 (ii) भूगोल से (3 अंक) है।
- (ix) इस प्रश्न-पत्र में समग्र रूप से विकल्प का प्रावधान नहीं है। फिर भी कुछ प्रश्नों में आन्तरिक विकल्प दिए गए हैं। ऐसे प्रश्नों में से केवल एक विकल्प का उत्तर लिखना है।
- (x) इसके अतिरिक्त प्रत्येक खण्ड और प्रश्न के साथ, जहाँ भी आवश्यक है, पृथक से निर्देश दिए गए हैं।

खण्ड - क

(बहुविकल्पीय प्रश्न)

(20×1=20)

1. निम्नलिखित को काल-क्रमानुसार व्यवस्थित कीजिए और सही विकल्प का चयन कीजिए : 1
 - (I) नेपोलियन युद्ध
 - (II) वियना संधि
 - (III) स्वतंत्रता के लिए ग्रीक संघर्ष
 - (IV) ऑटोमन साम्राज्य में स्लाव राष्ट्रवाद

विकल्प :

(a) III, II, I और IV	(b) I, II, III और IV
(c) IV, III, II और I	(d) IV, II, III और I
2. कैलाशबाशिनी देवी, ताराबाई शिंदे और पंडिता रामाबाई के लेखन के बीच निम्नलिखित में से कौनसा पहलू समान था ? 1
 - (a) जनता के लिए आर्थिक समानता की मांग की।
 - (b) महिलाओं के अनुभवों पर प्रकाश डालना।
 - (c) सांस्कृतिक विरासत के बारे में जागरूक करना।
 - (d) भारतीयों को उनकी राष्ट्रीय स्वतंत्रता के लिए प्रेरणा।





GENERAL INSTRUCTIONS :

Read the following instructions very carefully and follow them :

- (i) This question paper contains 37 questions. All questions are compulsory.
- (ii) Question paper comprises six Sections – A, B, C, D, E and F.
- (iii) Section A – Question no. 1 to 20 are Multiple Choice Questions of 1 mark each.
- (iv) Section B – Question no. 21 to 24 are Very Short Answer Type Questions, carrying 2 marks each. Answer to each question should not exceed 40 words.
- (v) Section C – Question no. 25 to 29 are Short Answer Type Questions, carrying 3 marks each. Answer to each question should not exceed 60 words.
- (vi) Section D – Question no. 30 to 33 are Long Answer Type Questions, carrying 5 marks each. Answer to each question should not exceed 120 words.
- (vii) Section E – Question no. 34 to 36 are Case based/Source based questions with three sub questions and are of 4 marks each.
- (viii) Section F – Question no. 37 is map skill based, carrying 5 marks with two parts, 37(i) from History (2 marks) and 37(ii) from Geography (3 marks).
- (ix) There is no overall choice in the question paper. However, an internal choice has been provided in few questions. Only one of the choices in such questions have to be attempted.
- (x) In addition to this, separate instructions are given with each section and question, wherever necessary.

SECTION – A **(20×1=20)**
(Multiple Choice Questions)

1. Arrange the following in chronological order and choose the correct option : 1
 - (I) Napoleonic wars
 - (II) The Treaty of Vienna
 - (III) Greek Struggle for Independence
 - (IV) Slav Nationalism in Ottoman Empire

Options :

(a) III, II, I and IV	(b) I, II, III and IV
(c) IV, III, II and I	(d) IV, II, III and I
2. Which one of the following aspects was common among the writings of Kailashbhashini Debi, Tarabai Shinde and Pandita Ramabai ? 1
 - (a) Demanded economic equality for masses.
 - (b) Highlighted the experiences of women.
 - (c) Raised awareness about cultural heritage.
 - (d) Motivated Indians for their national freedom.





3. व्यापार के प्रवाह में ऐसे तीन महत्वपूर्ण विकास हुए जिन्होंने पूर्व-आधुनिक दुनिया को बहुत छोटा कर दिया। निम्नलिखित विकल्पों में से एक गलत की पहचान कीजिए : 1
- (a) व्यापार का प्रवाह (b) श्रम का प्रवाह
(c) पूंजी का प्रवाह (d) प्रौद्योगिकी का प्रवाह
4. निम्नलिखित में से किसने भाप इंजन में सुधार किया ? 1
- (a) जेम्स वॉट (b) थॉमस एडिसन
(c) बेंजामिन फ्रैंकलिन (d) अलेक्जेंडर फ्लेमिंग
5. निम्नलिखित में से कौनसा लौह धातु का उदाहरण है ? 1
- (a) तांबा (b) जस्ता
(c) बॉक्साइट (d) निकल
6. स्तंभ-1 का मिलान स्तंभ-2 से कीजिए और सही विकल्प का चयन कीजिए : 1
- | स्तंभ - 1
(संसाधन) | स्तंभ - 2
(उदाहरण) |
|-----------------------|-----------------------|
| (I) जैव | 1. कोयला |
| (II) नवीकरणीय | 2. वन्य-जीव |
| (III) अनवीकरणीय | 3. सौर-ऊर्जा |
- विकल्प :
- | I | II | III |
|-------|----|-----|
| (a) 1 | 3 | 2 |
| (b) 3 | 2 | 1 |
| (c) 2 | 3 | 1 |
| (d) 1 | 2 | 3 |
7. निम्नलिखित में से कौनसा युग्म सही मिलान है ? 1
- (a) जलोढ़ मृदा - जिसमें रेत और सिल्ट होती है।
(b) काली मृदा - जिसमें नमक की मात्रा बहुत अधिक होती है।
(c) शुष्क मृदा - जिसमें क्रिस्टलीय लोहे का प्रसार होता है।
(d) लैटेराइट मृदा - जो लावा प्रवाह से बनी होती है।
8. निम्नलिखित देशों में से किसका मानव विकास सूचकांक में बेहतर स्थान है ? 1
- (a) अफ़गानिस्तान (b) म्यांमार
(c) भारत (d) नेपाल





3. There were three important developments that greatly shrank the pre-modern world. Identify the **incorrect** one from the following options : 1
- (a) The flow of trade (b) The flow of labour
(c) The flow of capital (d) The flow of technology
4. Who among the following improved the steam engine ? 1
- (a) James Watt (b) Thomas Edison
(c) Benjamin Franklin (d) Alexander Fleming
5. Which one of the following is an example of the Ferrous Metal ? 1
- (a) Copper (b) Tin
(c) Bauxite (d) Nickel
6. Match the column - 1 with column - 2 and choose the correct option : 1
- | Column - 1
(Resources) | Column - 2
(Example) |
|---|---------------------------------------|
| (I) Biological | 1. Coal |
| (II) Renewable | 2. Wildlife |
| (III) Non-renewable | 3. Solar Energy |
- Options :**
- | | I | II | III |
|-----|---|----|-----|
| (a) | 1 | 3 | 2 |
| (b) | 3 | 2 | 1 |
| (c) | 2 | 3 | 1 |
| (d) | 1 | 2 | 3 |
7. Which of the following is correctly matched ? 1
- (a) Alluvial Soil - Consist of sand and silt
(b) Black Soil - Salt content is high
(c) Arid Soil - Diffusion of iron in crystalline
(d) Laterite Soil - Made up of Lava flows
8. Which of the following countries has better rank in Human Development Index ? 1
- (a) Afghanistan (b) Myanmar
(c) India (d) Nepal





9. भारत में निम्नलिखित क्षेत्रों में से 'सकल घरेलू उत्पाद' में किसकी हिस्सेदारी सर्वाधिक है ? 1
- (a) प्राथमिक
(b) द्वितीयक
(c) तृतीयक
(d) चतुर्थक
10. भारत सरकार ने 1991 में व्यापार नियमों को उदार क्यों बनाया ? 1
- (a) सरकार विदेशी मुद्रा को भारतीय मुद्रा के बराबर बनाए रखना चाहती थी।
(b) सरकार पश्चिमी देशों के साथ अच्छे संबंध बनाए रखना चाहती थी।
(c) सरकार चाहती थी कि भारतीय उत्पादक विश्व बाज़ार में प्रतिस्पर्धा करें।
(d) सरकार चाहती थी कि सभी को सामाजिक-आर्थिक न्याय मिले।
11. मानव विकास के विषय में निम्नलिखित कथनों को पढ़िए और सही विकल्प का चयन कीजिए : 1
- (I) यह संयुक्त राष्ट्र विकास कार्यक्रम (यूएनडीपी) द्वारा तैयार किया गया एक समग्र सूचकांक है।
(II) इसके मापन के लिए लम्बी उम्र, साक्षरता और प्रति व्यक्ति आय मापदंड हैं।
(III) विकसित और निम्न विकासशील देशों के अनुसार देशों की रैंकिंग की जाती है।
(IV) विश्व बैंक जीवन की गुणवत्ता के आधार पर मानव विकास की रिपोर्ट तैयार करता है।
- विकल्प :**
- (a) I और II
(b) II और III
(c) I और III
(d) II और IV





9. Which one of the following sectors contribute highest in the GDP of India ? 1
- (a) Primary
 - (b) Secondary
 - (c) Tertiary
 - (d) Quaternary
10. Why did the Indian government liberalize trade regulations in 1991 ? 1
- (a) Government wanted foreign exchange equivalent to Indian Currency.
 - (b) Government wanted to maintain good relations with Western Countries.
 - (c) Government wanted Indian producers to compete in the World Market.
 - (d) Government wanted to provide socio-economic justice to all.
11. Read the following statements about Human Development and choose the correct option : 1
- (I) It is the composite Index prepared by United Nations Development Programme (UNDP).
 - (II) Parameters to measure it are Longevity, Literacy and Per Capita Income.
 - (III) Countries are ranked according to Developed and Low Developing countries.
 - (IV) World Bank also prepares report of Human Development on the basis of Quality of Life.
- Options :**
- (a) I and II
 - (b) II and III
 - (c) I and III
 - (d) II and IV





12. निम्नलिखित आंकड़ों को पढ़िए और नीचे दिए प्रश्न का उत्तर लिखिए :

1

हरियाणा, केरल और बिहार के कुछ तुलनात्मक आँकड़े			
राज्य	शिशु मृत्यु दर प्रति हजार व्यक्ति	साक्षरता दर %	निवल उपस्थिति अनुपात प्रति 100 व्यक्ति
हरियाणा	30	82	61
केरल	7	94	83
बिहार	32	62	43

हरियाणा का निवल अनुपस्थिति अनुपात कितना है ? सही विकल्प का चयन कीजिए :

- (a) 39 (b) 27
(c) 38 (d) 18

13. निम्नलिखित में से कारखानों के श्रमिकों के विकास का कौनसा एक लक्ष्य है ?

1

- (a) बेहतर वेतन (b) बेहतर तकनीक
(c) काम के अधिक घंटे (d) अधिक श्रम कार्य

14. निम्नलिखित में से कौनसा युग्म सुमेलित है ?

1

- (a) प्राथमिक क्षेत्रक - फूल की खेती करने वाला
(b) द्वितीयक क्षेत्रक - दुग्ध विक्रेता
(c) तृतीयक क्षेत्रक - मछुआरा
(d) विनिर्माण क्षेत्रक - माली

15. सत्ता के बंटवारे से संबंधित निम्नलिखित कथनों पर विचार कीजिए और सही विकल्प का चयन कीजिए :

1

- (I) बहुसंख्यकवाद लोकतंत्र की वास्तविक आत्मा है।
(II) यह विभिन्न समूहों में संतुलन और सामंजस्य बनाता है।
(III) यह सामाजिक समूहों के बीच संघर्ष की संभावना को कम करता है।
(IV) सत्ता की साझेदारी लोकतंत्र का सार है।

विकल्प :

- (a) I, II और III
(b) II, III और IV
(c) I, III और IV
(d) I, II और IV





12. Read the following data and answer the question that follow :

1

Some comparative Data on Haryana, Kerala and Bihar			
State	Infant Mortality Rate (per thousand person)	Literacy Rate %	Net Attendance Ratio (per 100 person)
Haryana	30	82	61
Kerala	7	94	83
Bihar	32	62	43

How much is the Net Absence Ratio of Haryana ? Choose the appropriate option from the following :

- (a) 39 (b) 27
(c) 38 (d) 18

13. Which one of the following is a developmental goal of the factory workers ?

1

- (a) Better wages (b) Better technology
(c) More hours of work (d) More labour work

14. Which one of the following pairs is correctly matched ?

1

- (a) Primary Sector - Flower Cultivator
(b) Secondary Sector - Milk Vendor
(c) Tertiary Sector - Fisherman
(d) Manufacturing Sector - Gardener

15. Consider the following statements on Power Sharing and choose the correct option :

1

- (I) Majoritarianism is the real spirit of democracy.
(II) It creates balance and harmony in different groups.
(III) It reduces the possibility of conflict among social groups.
(IV) Power sharing is the essence of democracy.

Options :

- (a) I, II and III
(b) II, III and IV
(c) I, III and IV
(d) I, II and IV





16. नीचे दिए गए प्रश्न में दो कथन, अभिकथन (A) और कारण (R) दिए गए हैं। कथनों को पढ़िए और सही विकल्प का चयन कीजिए :

1

अभिकथन (A) : श्रीलंका ने 'तमिल' को राज्य की एकमात्र अधिकारिक भाषा के रूप में अपनाया।

कारण (R) : श्रीलंका की सरकार ने बहुसंख्यकपरस्ती के तहत कई कदम उठाए।

विकल्प :

- (a) (A) और (R) दोनों सही हैं और (R), (A) की सही व्याख्या है।
(b) (A) और (R) दोनों सही हैं परन्तु (R), (A) की सही व्याख्या नहीं है।
(c) (A) सही है लेकिन (R) गलत है।
(d) (A) गलत है लेकिन (R) सही है।

17. स्तंभ - A का मिलान स्तंभ - B से कीजिए और सही विकल्प का चयन कीजिए :

1

स्तंभ - A (विषय)	स्तंभ - B (सूची)
(I) बैंक	1. समवर्ती सूची
(II) कृषि	2. संघ सूची
(III) शिक्षा	3. राज्य सूची
(IV) कम्प्यूटर	4. अवशिष्ट विषय

विकल्प :

	I	II	III	IV
(a)	4	3	1	2
(b)	3	4	1	2
(c)	2	3	1	4
(d)	4	2	1	3

18. बॉक्स में दी गई जानकारी की सहायता से भारत सरकार की प्रशासनिक व्यवस्था की पहचान कीजिए और सही विकल्प का चयन कीजिए :

1

- | |
|---|
| <ol style="list-style-type: none">केन्द्र और स्थानीय सरकारों के बीच शक्ति की हिस्सेदारी।राज्य सरकारों को उनके साथ कुछ शक्तियां और राजस्व साझा करने की आवश्यकता होती है।इसे त्रि-स्तरीय सरकार कहा जाता है। |
|---|

विकल्प :

- (a) तानाशाही व्यवस्था
(b) एकात्मक संघीय व्यवस्था
(c) विकेन्द्रीकृत व्यवस्था
(d) साम्राज्यवादी व्यवस्था





16. Two statements are given below as Assertion (A) and Reason (R).
Read the statements and choose the correct option : 1

Assertion (A) : Sri Lanka adopted ‘Tamil’ as the official language of the State.

Reason (R) : The Govt. of Sri Lanka adopted a series of majoritarian measures.

Options :

- (a) Both (A) and (R) are true and (R) is the correct explanation of (A).
(b) Both (A) and (R) are true but (R) is not the correct explanation of (A).
(c) (A) is true but (R) is false.
(d) (A) is false but (R) is true.

17. Match column – A with column – B and choose the correct option : 1

Column – A (Subjects)	Column – B (List)
(I) Banks	1. Concurrent List
(II) Agriculture	2. Union List
(III) Education	3. State List
(IV) Computer	4. Residuary Subjects

Options :

- | | I | II | III | IV |
|-----|---|----|-----|----|
| (a) | 4 | 3 | 1 | 2 |
| (b) | 3 | 4 | 1 | 2 |
| (c) | 2 | 3 | 1 | 4 |
| (d) | 4 | 2 | 1 | 3 |

18. Identify the administrative level of Indian Government with the help of the information given in the box and choose the correct option : 1

1. Power shared between Central to Local Government.
2. The State Governments are required to share some powers and revenue with them.
3. It is called a three tier government.

Options :

- (a) Dictatorial System (b) Unitary Federal System
(c) Decentralized System (d) Imperialistic System





19. निम्नलिखित में से किस देश में द्वि-दलीय व्यवस्था है ? 1
(a) चीन (b) रूस
(c) अमेरिका (d) भारत
20. विश्व में अधिकतर लोग किस प्रकार की सरकार को पसंद करते हैं ? 1
(a) लोकतांत्रिक (b) सैन्य
(c) तानाशाही (d) धर्म आधारित

खण्ड - ख

(अति लघु-उत्तरीय प्रश्न)

(4×2=8)

21. (A) अनुबंधित श्रमिकों की भर्ती के लिए यूरोपीय लोगों द्वारा अपनाई गई किन्हीं दो विधियों की व्याख्या कीजिए। 2
अथवा
(B) सोलहवीं सदी के मध्य में 'चेचक' किस प्रकार स्पेनिश विजेताओं का सबसे शक्तिशाली हथियार साबित हुआ ? व्याख्या कीजिए। 2
22. "कृषि और उद्योग एक-दूसरे के पूरक हैं।" इस कथन की उदाहरणों सहित पुष्टि कीजिए। 2
23. "अलग-अलग लोगों के विकास के लक्ष्य भिन्न हो सकते हैं।" उदाहरण के साथ इस कथन की पुष्टि कीजिए। 2
24. "हमारे समाज में महिलाएं विभिन्न तरीकों से भेदभाव का सामना करती हैं।" किन्हीं दो तरीकों की व्याख्या कीजिए। 2

खण्ड - ग

(लघु-उत्तरीय प्रश्न)

(5×3=15)

25. "उन्नीसवीं सदी की शुरुआत में यूरोप में राष्ट्रीय एकता के विचार, उदारवाद की विचारधारा से संबंधित थे।" इस कथन की परख कीजिए। 3
26. भारतीय कृषि के विकास के लिए किए गए किन्हीं तीन संस्थागत सुधारों की व्याख्या कीजिए। 3
27. सूचना प्रौद्योगिकी, वैश्वीकरण से किस प्रकार से जुड़ी है ? व्याख्या कीजिए। 3
28. लोकतंत्र में राजनीतिक दलों की आवश्यकता का विश्लेषण कीजिए। 3
29. (A) भारत में 'तृतीयक क्षेत्रक' इतना महत्वपूर्ण क्यों होता जा रहा है ? व्याख्या कीजिए। 3

अथवा

- (B) असंगठित क्षेत्र के श्रमिकों का संरक्षण करना क्यों आवश्यक है ? व्याख्या कीजिए। 3





19. Which one of the following countries has two party system ? 1
(a) China (b) Russia
(c) America (d) India
20. Which type of government is likely to be more acceptable to the people in the world ? 1
(a) Democratic (b) Military
(c) Dictatorship (d) Theocratic

SECTION – B
(Very Short Answer Questions) (4×2=8)

21. (A) Explain any two methods that were used by the Europeans for the recruitment of the indentured labours. 2
OR
(B) How did the ‘small pox’ prove as the most powerful weapon of the Spanish conquerors in the mid-sixteenth century ? Explain. 2
22. “Agriculture and industry move hand in hand.” Support the statement with examples. 2
23. “Different persons can have different developmental goals.” Support the statement with an example. 2
24. “Women face discrimination in various ways in our society.” Explain any two ways. 2

SECTION – C
(Short Answer Questions) (5×3=15)

25. “Ideas of national unity in the early nineteenth century Europe were closely allied to the ideology of liberalism.” Examine the statement. 3
26. Explain any three institutional reforms taken for the development of Indian agriculture. 3
27. How is information technology connected with globalization ? Explain. 3
28. Analyze the need of Political Parties in the Democracy. 3
29. (A) Why is ‘Tertiary Sector’ becoming important in India ? Explain. 3
OR
(B) Why is there a need to protect workers in the Unorganized Sector ? Explain. 3





खण्ड - घ

(दीर्घ-उत्तरीय प्रश्न)

(4×5=20)

30. (A) ग्रामीण इलाकों में सविनय अवज्ञा आंदोलन की प्रगति की परख कीजिए। 5

अथवा

- (B) भारत में विभिन्न समुदायों में सामूहिक अपनेपन की भावना विकसित करने के तरीकों का विश्लेषण कीजिए। 5

31. (A) पाइपलाइन परिवहन नेटवर्क भारत की परिवहन व्यवस्था में किस प्रकार महत्वपूर्ण है? उदाहरण सहित व्याख्या कीजिए। 5

अथवा

- (B) भौतिक और आर्थिक कारकों ने भारतीय रेलवे नेटवर्क के वितरण प्रतिरूप को किस प्रकार प्रभावित किया है ? उदाहरणों सहित स्पष्ट कीजिए। 5

32. (A) “व्यक्ति की स्वतंत्रता और गरिमा को बढ़ावा देने में लोकतंत्र किसी भी अन्य प्रकार की सरकारों से बहुत बेहतर है।” तर्कों के साथ कथन की पुष्टि कीजिए। 5

अथवा

- (B) “लोकतंत्र में उत्तरदायी, जिम्मेदार और वैध सरकार का गठन होता है।” तर्कों के साथ कथन की पुष्टि कीजिए। 5

33. (A) ग्रामीण अर्थव्यवस्था में ‘स्वयं सहायता समूहों’ की भूमिका को न्यायसंगत ठहराइये। 5

अथवा

- (B) “सस्ता एवं सामर्थ्य के अनुकूल कर्ज देश के विकास के लिए अति आवश्यक है।” इस कथन को न्यायसंगत ठहराइये। 5

खण्ड - ङ

(केस आधारित/स्रोत आधारित प्रश्न)

34. दिए गए स्रोत को पढ़िए और नीचे दिए प्रश्नों के उत्तर लिखिए : (3×4=12)

अखबार क्यों ?

‘पूना के कृष्णाजी त्रिम्बक राणाडे मराठी का एक अखबार निकालना चाहते हैं, जिसमें स्थानीय दिलचस्पी की तमाम उपयोगी खबरों को जगह मिल सके। इसमें सार्वजनिक उपयोगिता, वैज्ञानिक अन्वेषण के अलावा प्राक्-विद्या, सांख्यिकी, जिज्ञासाओं, देश के विभिन्न हिस्सों के बारे में आमतौर पर, और दक्कन पर खासतौर पर जानकारियाँ होंगी... ऐसे तमाम लोगों से मदद और संरक्षण का निवेदन है, जो ज्ञान के प्रसार और जनकल्याण के इच्छुक हैं।’

बॉम्बे टेलीग्राफ एंड कोरियर, 6 जनवरी, 1849





SECTION – D
(Long Answer Questions)

(4×5=20)

30. (A) Examine the progress of the Civil Disobedience Movement in the countryside. 5
- OR**
- (B) Analyze the ways through which people of different communities developed a sense of collective belonging in India. 5
31. (A) How is pipeline transport network important in the transport system of India ? Explain with an example. 5
- OR**
- (B) How have physical and economic factors influenced the distribution pattern of the Indian Railway Network ? Explain with examples. 5
32. (A) “Democracy stands much superior to any other forms of governments in promoting dignity and freedom of the individual.” Support the statement with arguments. 5
- OR**
- (B) “Democracy produces an accountable, responsive and legitimate government.” Support the statement with arguments. 5
33. (A) Justify the role of ‘Self Help Groups’ in the rural economy. 5
- OR**
- (B) “Cheap and affordable credit is crucial for the country’s development.” Justify the statement. 5

SECTION – E
(Case Based/Source Based Questions)

34. Read the given source and answer the questions that follow : (3×4=12)

WHY NEWSPAPERS ?

‘Krishnaji Trimbuck Ranade inhabitant of Poona intends to publish a Newspaper in the Marathi Language with a view of affording useful information on every topic of local interest. It will be open for free discussion on subjects of general utility, scientific investigation and the speculations connected with the antiquities, statistics, curiosities, history and geography of the country and of the Deccan especially... the patronage and support of all interested in the diffusion of knowledge and Welfare of the People is earnestly solicited.’

Bombay Telegraph and Courier, 6 January, 1849





‘देसी अखबारों और राजनीतिक सभाओं की वही भूमिका होती है, जो इंग्लैण्ड के हाउस ऑफ़ कॉमन्स में विपक्ष की होती है। यानी कि वह सरकारी नीतियों की आलोचनात्मक समीक्षा कर, लोगों के हित साधने में अक्षम हिस्सों को निकालें और सुधार करें, तथा उनको तेज़ी से लागू करने का काम करें।

इन सभाओं को चाहिए कि वे देश के ख़ास मुद्दों पर नाना तरह की सूचनाएँ जमा करें और क्या संभव और वांछित सुधार हैं, वह बताएँ, इन कार्यों का काफ़ी असर होगा।’

नेटिव ओपिनियन, 3 अप्रैल, 1870

- | | |
|---|---|
| (I) कृष्णाजी द्वारा समाचार-पत्र प्रकाशित करने के मुख्य कारण को स्पष्ट कीजिए। | 1 |
| (II) स्थानीय समाचार-पत्र और राजनीतिक संघ के कार्य को विपक्ष की भूमिका के समान कैसे देखा गया ? | 1 |
| (III) 19वीं शताब्दी के दौरान समाचार-पत्रों की लोकप्रियता के कारणों का विश्लेषण कीजिए। | 2 |

35. दिए गए स्रोत को पढ़िए और नीचे दिए प्रश्नों के उत्तर लिखिए :

वर्षा जल संग्रहण

बहुत से लोगों का मानना है कि बहुउद्देशीय परियोजनाओं के अलाभप्रद असर और उन पर उठे विवादों के चलते वर्षाजल संग्रहण तंत्र इनके सामाजिक-आर्थिक और पारिस्थितिक तौर पर व्यवहार्य विकल्प हो सकते हैं। प्राचीन भारत में उत्कृष्ट जलीय निर्माणों के साथ-साथ जल संग्रहण ढाँचे भी पाए जाते थे। लोगों को वर्षा पद्धति और मृदा के गुणों के बारे में गहरा ज्ञान था। उन्होंने स्थानीय पारिस्थितिकीय परिस्थितियों और उनकी जल आवश्यकतानुसार वर्षाजल, भौमजल, नदी जल और बाढ़ जल संग्रहण के अनेक तरीके विकसित कर लिए थे। पहाड़ी और पर्वतीय क्षेत्रों में लोगों ने ‘गुल’ अथवा ‘कुल’ (पश्चिमी हिमालय) जैसी वाहिकाएँ, नदी की धारा का रास्ता बदलकर खेतों में सिंचाई के लिए बनाई हैं। पश्चिमी भारत, विशेषकर राजस्थान में पीने का जल एकत्रित करने के लिए ‘छत वर्षा जल संग्रहण’ का तरीका आम था। पश्चिम बंगाल में बाढ़ के मैदान में लोग अपने खेतों की सिंचाई के लिए बाढ़ जल वाहिकाएँ बनाते थे। शुष्क और अर्धशुष्क क्षेत्रों में खेतों में वर्षा जल एकत्रित करने के लिए गड्ढे बनाए जाते थे ताकि मृदा को सिंचित किया जा सके और संरक्षित जल को खेती के लिए उपयोग में लाया जा सके। राजस्थान के जिले जैसलमेर में ‘खादीन’ और अन्य क्षेत्रों में ‘जोहड़’ इसके उदाहरण हैं।

- | | |
|---|---|
| (I) जल संचयन प्रणाली एक लाभप्रद विकल्प क्यों है ? | 1 |
| (II) ‘छत वर्षा जल संग्रहण’ की प्रक्रिया का वर्णन कीजिए। | 1 |
| (III) जल संरक्षण के लिए प्राचीन भारत में अपनाई गई किन्हीं दो विधियों का उल्लेख कीजिए। | 2 |





‘The task of the native newspapers and political associations is identical to the role of the Opposition in the House of Commons in Parliament in England. That is of critically examining government policy to suggest improvements, by removing those parts that will not be to the benefit of the people, and also by ensuring speedy implementation. These associations ought to carefully study the particular issues, gather diverse relevant information on the nation as well as on what are the possible and desirable improvements, and this will surely earn it considerable influence.’

Native Opinion, 3 April, 1870

- (I) Explain the main reason of publishing newspaper by Krishnaji ? 1
- (II) How was the task of native newspaper and political association seen identical to the role of opposition ? 1
- (III) Analyze the reasons of popularity of newspapers during 19th century. 2

35. Read the given source and answer the questions that follow :

RAINWATER HARVESTING

Many thought that given the disadvantages and rising resistance against the multi purpose projects, water harvesting system was a viable alternative, both socio-economically and environmentally. In ancient India, along with the sophisticated hydraulic structures, there existed an extraordinary tradition of water harvesting system. People had in-depth knowledge of rainfall regimes and soil types and developed wide ranging techniques to harvest rainwater, groundwater, river water and flood water in keeping with the local ecological conditions and their water needs. In hill and mountainous regions, people built diversion channels like the ‘guls’ or ‘kuls’ of the Western Himalayas for agriculture. ‘Rooftop rainwater harvesting’ was commonly practised to store drinking water, particularly in Rajasthan. In the flood plains of Bengal, people developed inundation channels to irrigate their fields. In arid and semi-arid regions, agricultural fields were converted into rain fed storage structures that allowed the water to stand and moisten the soil like the ‘khadins’ in Jaisalmer and ‘Johads’ in other parts of Rajasthan.

- (I) Why is water harvesting system a viable alternative ? 1
- (II) Describe the process of ‘rooftop rainwater harvesting.’ 1
- (III) Mention any two methods adopted by ancient India for water conservation. 2





36. दिए गए स्रोत को पढ़िए और नीचे दिए प्रश्नों के उत्तर लिखिए :

भारत की भाषायी विविधता

भारत में कितनी भाषाएँ हैं ? इसका जवाब इस बात पर निर्भर करता है कि आप भाषाओं की गिनती किस तरह करते हैं। इस बारे में अधिकृत नवीनतम सूचना 2011 की जनगणना के आँकड़ों से हासिल होती है। इस जनगणना में लोगों ने 1300 से ज़्यादा अलग-अलग भाषाओं को अपनी मातृभाषा के रूप में दर्ज कराया था। इन भाषाओं को कुछ प्रमुख भाषाओं के साथ समूहबद्ध कर दिया जाता है। जैसे - भोजपुरी, मगधी, बुंदेलखंडी, छत्तीसगढ़ी, राजस्थानी और ऐसी ही दूसरी भाषाओं को हिंदी के अंदर जोड़ लिया जाता है। ऐसी समूहबद्धता के बाद भी जनगणना में 121 प्रमुख भाषाएँ पाई गईं। इनमें से 22 भाषाओं को भारतीय संविधान की आठवीं अनुसूची में रखा गया है और इसी कारण इन्हें अनुसूचित भाषाएं कहा जाता है। बाकी को गैर-अनुसूचित भाषा कहते हैं। भाषा के हिसाब से भारत दुनिया का संभवतः सबसे ज़्यादा विविधता वाला देश है।

- (I) भारत में भाषायी विविधता के महत्त्व को स्पष्ट कीजिए। 1
- (II) अनुसूचित और गैर-अनुसूचित भाषाओं में अंतर स्पष्ट कीजिए। 1
- (III) 'भाषाओं के संयोजन ने देश को एक सांस्कृतिक इकाई में एकजुट किया है।' इस कथन की उदाहरण सहित व्याख्या कीजिए। 2

खण्ड - च

(मानचित्र कौशल आधारित प्रश्न)

(2+3=5)

37. (i) भारत के दिए गए राजनीतिक रेखा-मानचित्र पर दो स्थानों A और B को अंकित किया गया है। उन्हें दी गई जानकारी की सहायता से पहचानिए और उनके पास खींची गई रेखाओं पर उनके सही नाम लिखिए।
- (a) वह स्थान जहां महात्मा गांधी ने नील की खेती करने वाले किसानों के लिए सत्याग्रह शुरू किया था। 1
- (b) वह स्थान जहां भारतीय राष्ट्रीय कांग्रेस का दिसम्बर, 1920 में अधिवेशन हुआ। 1
- (ii) भारत के इसी रेखा-मानचित्र पर निम्नलिखित में से किन्हीं तीन को उपयुक्त चिह्नों से दर्शाइये और उनके नाम लिखिए:
- (a) टिहरी बांध 1
- (b) नरोरा परमाणु ऊर्जा केन्द्र 1
- (c) पुणे सॉफ्टवेयर टेक्नोलॉजी पार्क 1
- (d) हल्दिया समुद्री पत्तन 1





36. Read the given source and answer the questions that follow :

Language Diversity of India

How many languages do we have in India ? The answer depends on how one counts it. The latest information that we have is from the Census of India held in 2011. This census recorded more than 1300 distinct languages which people mentioned as their mother tongues. These languages were grouped together under some major languages. For example languages like Bhojpuri, Magadhi, Bundelkhandi, Chhattisgarhi, Rajasthani and many others were grouped together under 'Hindi'. Even after this grouping, the Census found 121 major languages. Of these 22 languages are now included in the Eighth Schedule of the Indian Constitution and are therefore called 'Scheduled Languages'. Others are called 'Non-Scheduled Languages'. In terms of languages, India is perhaps the most diverse country in the world.

- (I) Explain the importance of language diversity in India. 1
- (II) Differentiate between Scheduled and Non-Scheduled Languages. 1
- (III) 'The fusion of languages has united the country into one cultural entity.' Explain the statement with an example. 2

SECTION – F

(Map Skill Based Questions)

(2+3=5)

37. (i) Two places A and B have been marked on the given political outline map of India. Identify them with the help of given information and write their correct names on the lines drawn near them.
- (a) The place where Mahatma Gandhi started Satyagraha for Indigo peasants. 1
- (b) The place where the session of Indian National Congress held in December, 1920. 1
- (ii) On the same outline map of India locate and label any **three** of the following with suitable symbols :
- (a) Tehri Dam 1
- (b) Naraura Atomic Power Station 1
- (c) Pune Software Technology Park 1
- (d) Haldia Sea Port 1





नोट : निम्नलिखित प्रश्न केवल दृष्टिबाधित परीक्षार्थियों के लिए प्रश्न संख्या 37 के स्थान पर हैं। (5×1=5)

किन्हीं पांच के उत्तर लिखिए :

- (i) उस स्थान का नाम लिखिए, जहाँ भारतीय राष्ट्रीय काँग्रेस का दिसम्बर, 1920 में अधिवेशन हुआ था। 1
- (ii) उस स्थान का नाम लिखिए, जहाँ महात्मा गांधी ने नील की खेती करने वाले किसानों के लिए सत्याग्रह शुरू किया था। 1
- (iii) उस राज्य का नाम लिखिए, जहाँ नरोरा परमाणु संयंत्र स्थित है। 1
- (iv) उस राज्य का नाम लिखिए, जहाँ टिहरी बांध स्थित है। 1
- (v) उस राज्य का नाम लिखिए, जहाँ मुंबई सॉफ्टवेयर टेक्नोलॉजी पार्क स्थित है। 1
- (vi) उस राज्य का नाम लिखिए, जहाँ हल्दिया समुद्री पत्तन स्थित है। 1





Note : The following questions are only for the Visually Impaired Candidates in lieu of question no. 37. (5×1=5)

ATTEMPT ANY FIVE :

- | | |
|--|----------|
| (i) Name the place where the session of Indian National Congress was held in December, 1920. | 1 |
| (ii) Name the place where Mahatma Gandhi started Satyagraha for Indigo peasants. | 1 |
| (iii) Name the State where Naraura Nuclear Plant is located. | 1 |
| (iv) Name the State where Tehri Dam is located. | 1 |
| (v) Name the State where Mumbai Software Technology Park is located. | 1 |
| (vi) Name the State where Haldia Sea Port is located. | 1 |



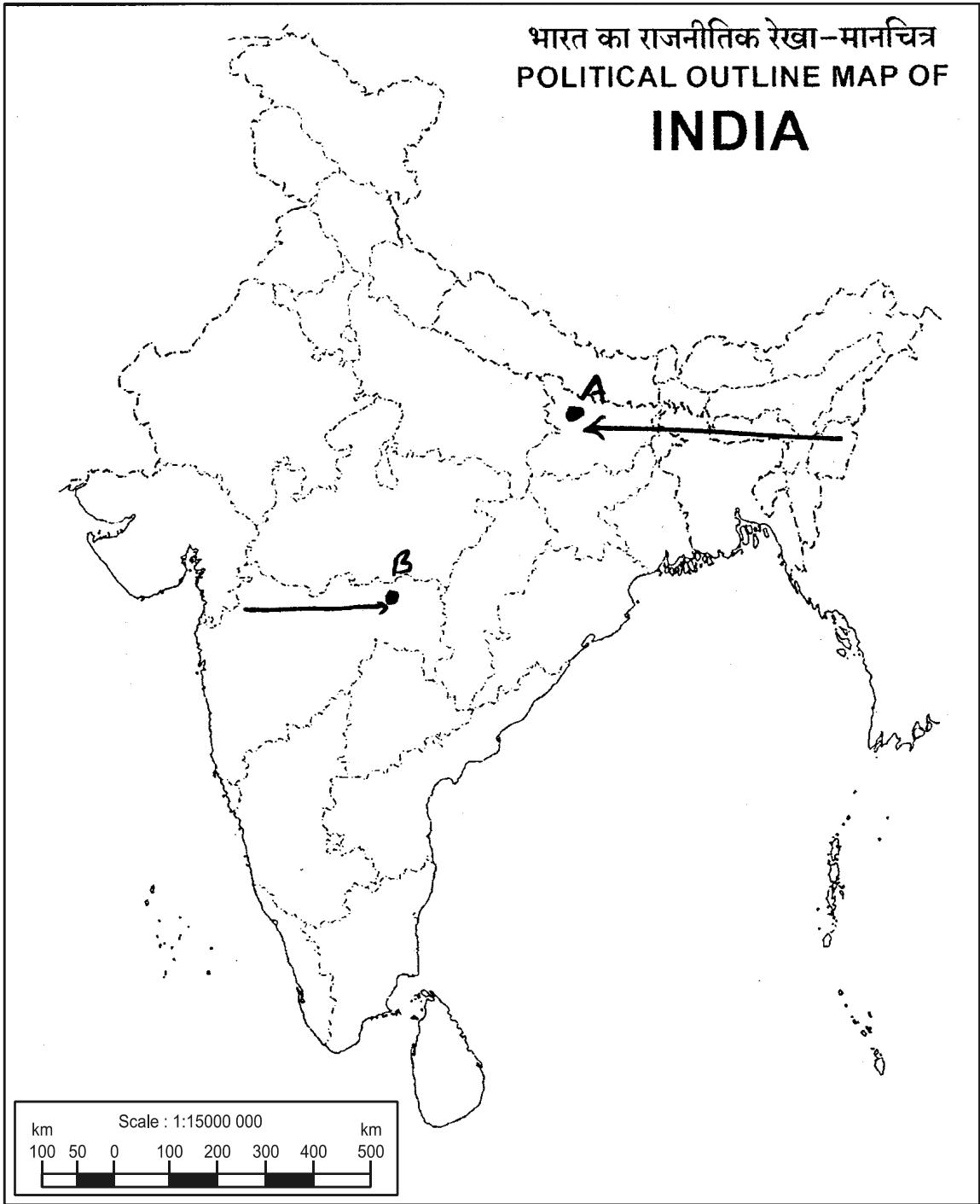




प्रश्न सं. 37 के लिए मानचित्र

Map for Q. No. 37

--- Cut Here --- यहाँ से काटें ---  --- Cut Here --- यहाँ से काटें ---  --- Cut Here --- यहाँ से काटें --- 





SET-1

Series ZZY1/5



प्रश्न-पत्र कोड
Q.P. Code

32/5/1

रोल नं.

Roll No.

--	--	--	--	--	--	--	--

परीक्षार्थी प्रश्न-पत्र कोड को उत्तर-पुस्तिका के मुख-पृष्ठ पर अवश्य लिखें।

Candidates must write the Q.P. Code on the title page of the answer-book.

सामाजिक विज्ञान SOCIAL SCIENCE

निर्धारित समय : 3 घण्टे

अधिकतम अंक : 80

Time allowed : 3 hours

Maximum Marks : 80

- कृपया जाँच कर लें कि इस प्रश्न-पत्र में मुद्रित पृष्ठ 21 + 1 मानचित्र हैं।
- प्रश्न-पत्र में दाहिने हाथ की ओर दिए गए प्रश्न-पत्र कोड को परीक्षार्थी उत्तर-पुस्तिका के मुख-पृष्ठ पर लिखें।
- कृपया जाँच कर लें कि इस प्रश्न-पत्र में 37 प्रश्न हैं।
- कृपया प्रश्न का उत्तर लिखना शुरू करने से पहले, उत्तर-पुस्तिका में प्रश्न का क्रमांक अवश्य लिखें।
- इस प्रश्न-पत्र को पढ़ने के लिए 15 मिनट का समय दिया गया है। प्रश्न-पत्र का वितरण पूर्वाह्न में 10.15 बजे किया जाएगा। 10.15 बजे से 10.30 बजे तक छात्र केवल प्रश्न-पत्र को पढ़ेंगे और इस अवधि के दौरान वे उत्तर-पुस्तिका पर कोई उत्तर नहीं लिखेंगे।
- Please check that this question paper contains 21 printed pages +1 Map.
- Q.P. Code given on the right hand side of the question paper should be written on the title page of the answer-book by the candidate.
- Please check that this question paper contains 37 questions.
- Please write down the serial number of the question in the answer-book before attempting it.
- 15 minute time has been allotted to read this question paper. The question paper will be distributed at 10.15 a.m. From 10.15 a.m. to 10.30 a.m., the students will read the question paper only and will not write any answer on the answer-book during this period.



सामान्य निर्देश:

निम्नलिखित निर्देशों को बहुत सावधानी से पढ़िए और उनका सख्ती से पालन कीजिए :

- (i) इस प्रश्न-पत्र में 37 प्रश्न हैं। सभी प्रश्न अनिवार्य हैं।
- (ii) यह प्रश्न-पत्र छः खण्डों में विभाजित है - खण्ड क, ख, ग, घ, ङ एवं च।
- (iii) खण्ड क - प्रश्न संख्या 1 से 20 तक बहुविकल्पीय प्रश्न हैं। प्रत्येक प्रश्न 1 अंक का है।
- (iv) खण्ड ख - प्रश्न संख्या 21 से 24 अति लघु-उत्तरीय प्रश्न हैं। प्रत्येक प्रश्न 2 अंक का है। प्रत्येक प्रश्न का उत्तर 40 शब्दों में लिखिए।
- (v) खण्ड ग - प्रश्न संख्या 25 से 29 तक लघु-उत्तरीय प्रश्न हैं। प्रत्येक प्रश्न 3 अंक का है। प्रत्येक प्रश्न का उत्तर 60 शब्दों में लिखिए।
- (vi) खण्ड घ - प्रश्न संख्या 30 से 33 दीर्घ-उत्तरीय प्रश्न हैं। प्रत्येक प्रश्न 5 अंक का है। प्रत्येक प्रश्न का उत्तर 120 शब्दों में लिखिए।
- (vii) खण्ड ङ - प्रश्न संख्या 34 से 36 केस-आधारित प्रश्न हैं। प्रत्येक प्रश्न के साथ 3 - 3 उप-प्रश्न हैं। प्रत्येक प्रश्न 4 अंक का है।
- (viii) खण्ड च में प्रश्न संख्या 37 मानचित्र-आधारित है। यह प्रश्न 5 अंक का है, जो कि इतिहास से (37(क) - 2 अंक) तथा भूगोल (37(ख) - 3 अंक) से संबंधित है।
- (ix) प्रश्न-पत्र में समग्र पर कोई विकल्प नहीं है। तथापि, कुछ प्रश्नों में आंतरिक विकल्प दिए गए हैं। ऐसे प्रश्नों में से केवल एक ही विकल्प का उत्तर लिखिए।
- (x) इसके अतिरिक्त, आवश्यकतानुसार, प्रत्येक खण्ड और प्रश्न के साथ यथोचित निर्देश दिए गए हैं।

खण्ड क

(बहुविकल्पीय प्रश्न)

(20×1=20)

1. निम्नलिखित पहलुओं में ब्रेटन वुड्स व्यवस्था का आधार कौन-सा था ?
 - (a) सैनिक व्यवस्था
 - (b) सांस्कृतिक व्यवस्था
 - (c) आर्थिक व्यवस्था
 - (d) ऐतिहासिक व्यवस्था
2. निम्नलिखित में से कौन-सी पुस्तक सबसे पहले गुटेनबर्ग द्वारा छापी गई थी ?
 - (a) चैपबुक्स
 - (b) अमर जीवन
 - (c) बाइबिल
 - (d) पंचांग



General Instructions :

Read the following instructions very carefully and strictly follow them :

- (i) This questions paper contains **37** questions. **All** questions are **compulsory**.
- (ii) This question paper comprises **six** sections – **Sections A, B, C, D, E and F**.
- (iii) **Section A** – Questions no. **1 to 20** are MCQs of **1** mark each.
- (iv) **Section B** – Questions no. **21 to 24** are very short answer type questions, carrying **2** marks each. Answer to each question should not exceed **40** words.
- (v) **Section C** – Questions no. **25 to 29** are short answer type questions, carrying **3** marks each. Answer to each question should not exceed **60** words.
- (vi) **Section D** – Questions no. **30 to 33** are long answer type questions, carrying **5** marks each. Answer to each question should not exceed **120** words.
- (vii) **Section E** – Questions no. **34 to 36** are case-based questions with three sub-questions and are of **4** marks each.
- (viii) **Section F** – Question no. **37** is map-based, carrying **5** marks with two parts, **37(a)** from History (**2** marks) and **37(b)** from Geography (**3** marks).
- (ix) There is no overall choice in the question paper. However, an internal choice has been provided in few questions. **Only one of the choices** in such questions has to be attempted.
- (x) In addition to this, separate instructions are given with each section and question, wherever necessary.

SECTION A
(Multiple Choice Questions)

(20×1=20)

1. Which one of the following aspects was the base of the Bretton Woods system ?
 - (a) Military system
 - (b) Cultural system
 - (c) Economic system
 - (d) Historical system

2. Which one of the following books was printed first by Gutenberg ?
 - (a) Chapbooks
 - (b) Amar Jivan
 - (c) Bible
 - (d) Almanac



3. निम्नलिखित में से किसने 1928 में बारदोली में किसान आंदोलन का नेतृत्व किया ?
- बाबा रामचंद्र
 - जवाहरलाल नेहरू
 - सुभाष चंद्र बोस
 - वल्लभभाई पटेल
4. फ्रांसीसी नारी रूपकों के विषय में निम्नलिखित में से कौन-सा सही **नहीं** है ?
- उसका नाम मारीआन था ।
 - उसने फ्रांसीसी क्रान्ति में भाग लिया ।
 - वह राष्ट्रीय एकता का प्रतीक थी ।
 - उसकी छवि सिक्कों और टिकटों पर अंकित की गई ।
5. सही युग्म का चयन कीजिए ।
- आदिकालीन निर्वाह कृषि — भूमि के बड़े-बड़े टुकड़ों पर की जाती है
 - गहन निर्वाह कृषि — एकल फसल उत्पादक कृषि की जाती है
 - वाणिज्यिक कृषि — आधुनिक निवेशों का अधिक मात्रा में उपयोग होता है
 - रोपण कृषि — भूमि के छोटे भू-भाग पर की जाती है
6. वन्यजीव रक्षण अधिनियम कब लागू किया गया था ?
- 1972
 - 1978
 - 1980
 - 1985
7. झारखण्ड, छत्तीसगढ़ और ओडिशा जैसे राज्यों में भूमि क्षरण के मुख्य कारण का उल्लेख कीजिए ।
- अति चराई
 - खनन
 - अति सिंचाई
 - खनन प्रक्रिया
8. सन् 1956 में पारित अधिनियम द्वारा श्रीलंका में निम्नलिखित में से कौन-सी भाषा आधिकारिक घोषित की गई थी ?
- तमिल
 - सिंहली
 - हिन्दी
 - अंग्रेज़ी



-
3. Who among the following led the peasant movement in Bardoli in 1928 ?
- (a) Baba Ramchandra
 - (b) Jawaharlal Nehru
 - (c) Subhash Chandra Bose
 - (d) Vallabhbhai Patel
4. Which one of the following is *not* true about the female allegory of France ?
- (a) She was named Marianne.
 - (b) She took part in the French Revolution.
 - (c) She was a symbol of national unity.
 - (d) Her images were marked on coins and stamps.
5. Choose the correctly matched pair.
- (a) Primitive subsistence farming — practised on large patches of land
 - (b) Intensive subsistence farming — single crop production farming
 - (c) Commercial farming — use of higher doses of modern inputs
 - (d) Plantation farming — practised on small patches of land
6. When was the Wildlife Protection Act implemented ?
- (a) 1972
 - (b) 1978
 - (c) 1980
 - (d) 1985
7. Mention the main reason for land degradation in states like Jharkhand, Chhattisgarh and Odisha.
- (a) Over-grazing
 - (b) Mining
 - (c) Over irrigation
 - (d) Mineral processing
8. Which one of the following languages was declared as the official language of Sri Lanka by an Act passed in 1956 ?
- (a) Tamil
 - (b) Sinhala
 - (c) Hindi
 - (d) English



9. निम्नलिखित में से कौन-सा विकल्प सिद्ध करता है कि भारत एक अर्ध-संघीय राज्य है ?

- I. केन्द्र के पास अधिक शक्तियों का होना
- II. 'बाकी बचे' विषय केन्द्र के पास
- III. केन्द्र और राज्यों के बीच विषयों का समान वितरण
- IV. करेंसी और रेलवे केन्द्र के पास

विकल्प :

- (a) I, III और IV
- (b) I, II और IV
- (c) II, III और IV
- (d) I, II और III

10. निम्नलिखित कथनों में से कौन-सा सही *नहीं* है ?

- (a) संविधान धर्म के आधार पर किए जाने वाले किसी प्रकार के भेदभाव को रोकता है ।
- (b) संविधान हमें किसी भी धर्म के पालन करने, प्रचार करने और न पालन करने की आज़ादी देता है ।
- (c) भारतीय संविधान धार्मिक समुदायों में समानता सुनिश्चित करने के लिए शासन को धार्मिक मामलों में दखल देने का अधिकार देता है ।
- (d) संविधान के अनुसार धर्म को कभी भी राजनीति से पृथक नहीं किया जा सकता है ।

11. दो कथन अभिकथन (A) और कारण (R) के रूप में दिए गए हैं । दोनों कथनों को पढ़िए और उत्तर के लिए सही विकल्प का चयन कीजिए :

अभिकथन (A) : भारत में बहुदलीय व्यवस्था है ।

कारण (R) : इसका कारण है कि भारत में सामाजिक और भौगोलिक विविधताएँ हैं ।

विकल्प :

- (a) अभिकथन (A) और कारण (R) दोनों सही हैं और कारण (R), अभिकथन (A) की सही व्याख्या करता है ।
- (b) अभिकथन (A) और कारण (R) दोनों सही हैं, परन्तु कारण (R), अभिकथन (A) की सही व्याख्या *नहीं* करता है ।
- (c) अभिकथन (A) सही है, परन्तु कारण (R) ग़लत है ।
- (d) अभिकथन (A) ग़लत है, परन्तु कारण (R) सही है ।



9. Which one of the following options prove that India is a quasi-federal state ?

- I. More powers with Centre
- II. Residuary subjects with Centre
- III. Equal subjects with Centre and States
- IV. Currency and Railways with Centre

Options :

- (a) I, III and IV
- (b) I, II and IV
- (c) II, III and IV
- (d) I, II and III

10. Which one of the following statements is **not** true ?

- (a) The Constitution prohibits discrimination on the grounds of religion.
- (b) The Constitution allows us to practice, profess and propagate any religion or not to follow any.
- (c) The Constitution of India allows the state to intervene in the matters of religion in order to ensure equality within religious communities.
- (d) As per the Constitution, religion can never be separated from politics.

11. There are two statements marked as Assertion (A) and Reason (R). Read both the statements and choose the correct option as your answer :

Assertion (A) : India has a multiparty system.

Reason (R) : It is because of the social and geographical diversities in India.

Options :

- (a) Both Assertion (A) and Reason (R) are true and Reason (R) is the correct explanation of the Assertion (A).
- (b) Both Assertion (A) and Reason (R) are true, but Reason (R) is **not** the correct explanation of the Assertion (A).
- (c) Assertion (A) is true, but Reason (R) is false.
- (d) Assertion (A) is false, but Reason (R) is true.



12. निम्नलिखित में से कौन-सा लोकतांत्रिक सरकार के विषय में सही नहीं है ?

- (a) लोकतांत्रिक सरकार वैध शासन है ।
- (b) लोकतांत्रिक सरकार ज़िम्मेवार सरकार है ।
- (c) लोकतांत्रिक सरकार लोगों की सरकार है ।
- (d) यह गलतियों के सुधार का अवसर नहीं देती है ।

13. तालिका में दिए गए आँकड़ों का पठन कीजिए और देश A की औसत मासिक आय ज्ञात कीजिए । सही विकल्प का चयन कीजिए ।

दो देशों के नागरिकों की मासिक आय (रुपयों में)						
	I	II	III	IV	V	औसत आय
देश A	10500	9800	9500	10000	10500	?
देश B	6000	6000	6000	6000	50000	

विकल्प :

- (a) 9500
- (b) 10000
- (c) 10500
- (d) 10060

14. बेल्जियम की जनसंख्या के कितने प्रतिशत लोग फ्लेमिश क्षेत्र में रहते हैं ?

- (a) 40%
- (b) 80%
- (c) 59%
- (d) 70%

15. पता लगाइए कि निम्नलिखित में से किसको धन द्वारा खरीदा नहीं जा सकता है । सही विकल्प का चयन कीजिए :

- I. संक्रामक बीमारियों से पूर्ण सुरक्षा
- II. प्रदूषण-मुक्त पर्यावरण
- III. उच्च गुणवत्ता वाली शिक्षा
- IV. आरामदायक घर

विकल्प :

- (a) I और III
- (b) III और IV
- (c) I और IV
- (d) I और II



12. Which one of the following is **not** true about a democratic government ?

- (a) Democratic government is a legitimate government.
- (b) Democratic government is a responsive government.
- (c) Democratic government is the people's own Government.
- (d) It does not allow room to correct mistakes.

13. Read the given data in the table and find out the average monthly income of Country A. Choose the correct option.

Monthly Income of Citizens of Two Countries (in Rupees)						
	I	II	III	IV	V	Average Income
Country A	10500	9800	9500	10000	10500	?
Country B	6000	6000	6000	6000	50000	

Options :

- (a) 9500
- (b) 10000
- (c) 10500
- (d) 10060

14. What percentage of the population of Belgium lives in the Flemish region ?

- (a) 40%
- (b) 80%
- (c) 59%
- (d) 70%

15. Select which among the following cannot be purchased through money. Choose the correct option :

- I. Full protection from infectious diseases
- II. A pollution-free atmosphere
- III. High quality education
- IV. A luxury home

Options :

- (a) I and III
- (b) III and IV
- (c) I and IV
- (d) I and II



16. नीचे दी गई तालिका में आँकड़ों का अध्ययन कीजिए और प्रश्न का उत्तर सही विकल्प का चयन कर लिखिए ।

कौन-सा सबसे महत्वपूर्ण क्षेत्रक है जो लोगों को अधिकतम रोज़गार प्रदान करता है ?

तालिका – विभिन्न क्षेत्रकों में कामगार (मिलियन में)

क्षेत्रक	संगठित	असंगठित	योग
प्राथमिक	1	231	232
द्वितीयक	41	74	115
तृतीयक	40	88	128
योग	82	393	475

- (a) प्राथमिक क्षेत्रक, विशेषकर संगठित क्षेत्रक
- (b) द्वितीयक क्षेत्रक, विशेषकर संगठित क्षेत्रक
- (c) तृतीयक क्षेत्रक, विशेषकर संगठित क्षेत्रक
- (d) प्राथमिक क्षेत्रक, विशेषकर असंगठित क्षेत्रक

17. 'A', जयपुर के एक वस्त्र निर्यात करने वाले उद्योग का एक श्रमिक है । वह स्वास्थ्य बीमा, भविष्य निधि, चिकित्सा अवकाश, आदि जैसी सुविधाएँ प्राप्त करता है ।

'A' निम्नलिखित क्षेत्रकों में से किसमें कार्य कर रहा है ?

- (a) प्राथमिक क्षेत्रक
- (b) गैर-सरकारी क्षेत्रक
- (c) संगठित क्षेत्रक
- (d) असंगठित क्षेत्रक

18. भारत में निम्नलिखित संगठनों में से कौन करेंसी नोट निर्गमित करता है ?

- (a) भारत की केंद्रीय सरकार
- (b) नीति आयोग
- (c) वित्त मंत्रालय
- (d) भारतीय रिज़र्व बैंक



16. Study the data given below in the table and answer the question by selecting the correct option.

Which is the most important sector that provides maximum jobs to the people ?

Table – Workers in different sectors (in millions)

Sector	Organized	Unorganized	Total
Primary	1	231	232
Secondary	41	74	115
Tertiary	40	88	128
Total	82	393	475

- (a) Primary sector, especially organized sector
- (b) Secondary sector, especially organized sector
- (c) Tertiary sector, especially organized sector
- (d) Primary sector, especially unorganized sector
17. 'A' is a worker in a garment export industry of Jaipur. He gets facilities like health insurance, provident fund, medical leave, etc.
In which one of the following sectors is 'A' working ?
- (a) Primary sector
- (b) Non-Governmental sector
- (c) Organized sector
- (d) Unorganized sector
18. Which among the following organisations issues the currency notes in India ?
- (a) The Central Government of India
- (b) The NITI Aayog
- (c) The Finance Ministry
- (d) The Reserve Bank of India



19. कारगिल फूड्स बहुत बड़ी बहुराष्ट्रीय कम्पनी है जो भारत में खाद्य तेल की सबसे बड़ी उत्पादक है। यह कंपनी निम्नलिखित में से किस देश की है ?
- (a) भारत
(b) फ्रांस
(c) ग्रेट ब्रिटेन
(d) संयुक्त राज्य अमेरिका
20. 'सूचना और संचार प्रौद्योगिकी' ने 'वैश्वीकरण' की प्रक्रिया को निम्नलिखित में से किस तरीके से सर्वाधिक प्रेरित किया है ?
- (a) दुनिया के देशों तक खाद्य पदार्थों की पहुँच
(b) दुनिया के देशों तक कच्चे पदार्थों की पहुँच
(c) दुनिया के देशों तक सेवाओं की पहुँच
(d) दुनिया के देशों तक तत्काल सूचनाओं की पहुँच

खण्ड ख

(अति लघु-उत्तरीय प्रश्न)

(4×2=8)

21. 19वीं सदी में यूरोप के लोग अमेरिका पलायन क्यों कर गए ? व्याख्या कीजिए। 2
22. 'सांप्रदायिकता राष्ट्र के लिए हानिकारक है।' व्याख्या कीजिए। 2
23. (क) 'ऊर्जा की बचत ही ऊर्जा पैदा करना है।' इस कथन की पुष्टि कीजिए। 2

अथवा

- (ख) गैर-परम्परागत ऊर्जा के संसाधनों का उपयोग करना समय की माँग क्यों है ? स्पष्ट कीजिए। 2
24. ग्रामीण क्षेत्रक में अधिक रोज़गार सृजित करने के कोई दो उपाय सुझाइए। 2×1=2



-
19. Cargill Foods, a very large MNC, is the largest producer of edible oil in India. Which one of these countries does it belong to ?
- (a) India
 - (b) France
 - (c) Great Britain
 - (d) United States of America
20. In which one of the following ways has 'information and communication technology' stimulated the 'globalisation' process the most ?
- (a) Access foods across countries
 - (b) Access raw material across countries
 - (c) Access services across countries
 - (d) Access information instantly across countries

SECTION B

(Very Short Answer Type Questions)

(4×2=8)

21. Why did Europeans flee to America in the 19th century ? Explain. 2
22. 'Communalism is harmful for the nation.' Explain. 2
23. (a) 'Energy saved is energy produced.' Support the statement. 2

OR

- (b) Why is there a pressing need to use non-conventional energy resources ? Explain. 2
24. Suggest any two ways to create more employment in the rural sector. 2×1=2



खण्ड ग

(लघु-उत्तरीय प्रश्न)

(5×3=15)

25. (क) भारतीय अर्थव्यवस्था पर असहयोग आंदोलन के किन्हीं तीन प्रभावों को स्पष्ट कीजिए । 3×1=3
- अथवा
- (ख) भारत के लोगों द्वारा रॉलेट ऐक्ट का विरोध किस प्रकार किया गया ? तीन उदाहरणों सहित स्पष्ट कीजिए । 3×1=3
26. भारत में परिवहन साधन के रूप में पाइपलाइनों के महत्त्व को स्पष्ट कीजिए । 3
27. भारत में श्रम कानूनों के लचीलेपन के श्रमिकों पर पड़े प्रभावों का वर्णन कीजिए । 3
28. 'पारदर्शिता लोकतंत्र की सबसे महत्त्वपूर्ण विशेषता है ।' इस कथन की पुष्टि कीजिए । 3
29. संसाधनों के स्वामित्व के आधार पर दो क्षेत्रक कौन-से हैं ? उनमें से प्रत्येक की व्याख्या कीजिए । 3

खण्ड घ

(दीर्घ-उत्तरीय प्रश्न)

(4×5=20)

30. (क) इटली के एकीकरण की प्रक्रिया की व्याख्या कीजिए । 5
- अथवा
- (ख) यूरोप में 'राष्ट्र' के विचार को पैदा करने में फ्रांसीसी क्रान्ति ने किस प्रकार महत्त्वपूर्ण भूमिका निभाई ? स्पष्ट कीजिए । 5
31. (क) विनिर्माण उद्योगों के महत्त्व को स्पष्ट कीजिए । 5
- अथवा
- (ख) औद्योगिक प्रदूषण को कम करने के किन्हीं पाँच उपायों की व्याख्या कीजिए । 5×1=5
32. (क) भारत में राजनीतिक दलों के समक्ष किन्हीं पाँच चुनौतियों की व्याख्या कीजिए । 5×1=5
- अथवा
- (ख) राजनीतिक दलों के किन्हीं पाँच प्रमुख कार्यों की व्याख्या कीजिए । 5×1=5
33. (क) ऋण किस प्रकार सकारात्मक और नकारात्मक भूमिका निभाता है ? उदाहरणों सहित स्पष्ट कीजिए । 5
- अथवा
- (ख) समर्थक ऋणाधार क्या है ? यह गरीबों को बैंकों से ऋण लेने से रोकने का मुख्य कारण क्यों है ? स्पष्ट कीजिए । 1+4=5



SECTION C
(Short Answer Type Questions)

(5×3=15)

25. (a) Explain any three effects of Non-Co-operation Movement on the Indian economy. 3×1=3
- OR**
- (b) How was the Rowlatt Act opposed by the people of India ? Explain with three examples. 3×1=3
26. Explain the importance of pipelines as a means of transportation in India. 3
27. Describe the impact of flexibility in the labour laws on the workers in India. 3
28. 'Transparency is the most important feature of a democracy.' Support the statement. 3
29. Which are the two sectors based on the ownership of resources ? Explain each of them. 3

SECTION D
(Long Answer Type Questions)

(4×5=20)

30. (a) Explain the process of unification of Italy. 5
- OR**
- (b) How did the French Revolution play an important role in creating the idea of the 'Nation' in Europe ? Explain. 5
31. (a) Explain the importance of manufacturing industries. 5
- OR**
- (b) Explain any five ways to reduce industrial pollution. 5×1=5
32. (a) Explain any five challenges faced by political parties in India. 5×1=5
- OR**
- (b) Explain any five major functions of the political parties. 5×1=5
33. (a) How does credit play a positive and a negative role ? Explain with examples. 5
- OR**
- (b) What is a collateral ? Why is it a main reason to prevent the poor getting a loan from banks ? Explain. 1+4=5



खण्ड ड

(केस-आधारित प्रश्न)

(3×4=12)

34. दिए गए उद्धरण का पठन कीजिए और उसके नीचे दिए गए प्रश्नों के उत्तर लिखिए :

बंबई में पहली कपड़ा मिल 1854 में लगी और दो साल बाद उसमें उत्पादन होने लगा । 1862 तक वहाँ ऐसी चार मिलें काम कर रही थीं । उनमें 94,000 तकलियाँ और 2,150 करघे थे । उसी समय बंगाल में जूट मिलें खुलने लगीं । वहाँ देश की पहली जूट मिल 1855 में और दूसरी 7 साल बाद 1862 में चालू हुई । उत्तरी भारत में एल्विन मिल 1860 के दशक में कानपुर में खुली । इसके साल भर बाद अहमदाबाद की पहली कपड़ा मिल भी चालू हो गई । 1874 में मद्रास में भी पहली कताई और बुनाई मिल खुल गई ।

(34.1) पहली कपड़ा मिल भारत में कब स्थापित की गई ?

1

(34.2) भारत के किन्हीं दो प्रारम्भिक उद्योगपतियों के नाम लिखिए ।

$$\frac{1}{2} + \frac{1}{2} = 1$$

(34.3) भारत के बहुत से व्यवसायी अंग्रेजी सरकार के लादे गए कड़े आर्थिक नियंत्रणों के बाद भी किस प्रकार अपना कार्य करते रहे ? स्पष्ट कीजिए ।

2

35. दिए गए उद्धरण का पठन कीजिए और उसके नीचे दिए गए प्रश्नों के उत्तर लिखिए :

प्राचीन भारत में उत्कृष्ट जलीय निर्माणों के साथ-साथ जल संग्रहण ढाँचे भी पाए जाते थे । लोगों को वर्षा पद्धति और मृदा के गुणों के बारे में गहरा ज्ञान था । उन्होंने स्थानीय पारिस्थितिकीय परिस्थितियों और उनकी जल आवश्यकतानुसार वर्षाजल, भौमजल, नदी जल और बाढ़ जल संग्रहण के अनेक तरीके विकसित कर लिए थे । पहाड़ी और पर्वतीय क्षेत्रों में लोगों ने 'गुल' अथवा 'कुल' (पश्चिमी हिमालय) जैसी वाहिकाएँ, नदी की धारा का रास्ता बदलकर खेतों में सिंचाई के लिए बनाई हैं । पश्चिमी भारत, विशेषकर राजस्थान में पीने का जल एकत्रित करने के लिए 'छत वर्षा जल संग्रहण' का तरीका आम था ।

(35.1) भारत में प्रयुक्त किए गए किन्हीं दो परंपरागत जल संग्रहण के तरीकों का उल्लेख कीजिए ।

1

(35.2) राजस्थान के लोग वर्षाजल का किस प्रकार उपयोग करते हैं ?

1

(35.3) वर्षाजल संग्रहण के किन्हीं दो लाभों की व्याख्या कीजिए ।

2×1=2



SECTION E
(Case-Based Questions)

(3×4=12)

34. Read the given extract and answer the questions that follow :

The first cotton mill in Bombay came up in 1854 and it went into production two years later. By 1862, four mills were at work with 94,000 spindles and 2,150 looms. Around the same time, jute mills came up in Bengal, the first being set up in 1855 and another one seven years later, in 1862. In north India, the Elgin Mill was started in Kanpur in the 1860s, and a year later the first cotton mill of Ahmedabad was set up. By 1874, the first spinning and weaving mill of Madras began production.

(34.1) When was the first cotton mill set up in India ? 1

(34.2) Name any two early industrialists of India. $\frac{1}{2} + \frac{1}{2} = 1$

(34.3) How did many Indian entrepreneurs survive despite tight economic controls imposed by the British Government ? Explain. 2

35. Read the given extract and answer the questions that follow :

In ancient India, along with the sophisticated hydraulic structures, there existed an extraordinary tradition of water-harvesting system. People had an in-depth knowledge of rainfall regimes and soil types and developed wide ranging techniques to harvest groundwater, rainwater, river water and flood water in keeping with the local ecological conditions and their water needs. In hilly and mountainous regions, people built diversion channels like the 'kuls' and 'guls' of Western Himalayas for agriculture. Rooftop rainwater harvesting was very commonly practised to store drinking water, particularly in Rajasthan.

(35.1) Mention any two methods of traditional water-harvesting used in India. 1

(35.2) How do people of Rajasthan utilise rainwater ? 1

(35.3) Explain any two benefits of rainwater harvesting. 2×1=2



36. दिए गए उद्धरण का पठन कीजिए और उसके नीचे दिए गए प्रश्नों के उत्तर लिखिए :

बेल्जियम यूरोप का एक छोटा-सा देश है, क्षेत्रफल में हमारे हरियाणा राज्य से भी छोटा । इसकी सीमाएँ फ्रांस, नीदरलैंड, जर्मनी और लक्समबर्ग से लगती हैं । इसकी आबादी एक करोड़ से थोड़ी अधिक है यानी हरियाणा की आबादी से करीब आधी । इस छोटे से देश के समाज की जातीय बुनावट बहुत जटिल है । देश की कुल आबादी का 59 फ़ीसदी हिस्सा फ्लेमिश इलाके में रहता है और डच बोलता है । शेष 40 फ़ीसदी लोग वेलोनिया क्षेत्र में रहते हैं और फ्रेंच बोलते हैं । शेष एक फ़ीसदी लोग जर्मन बोलते हैं । राजधानी ब्रूसेल्स के 80 फ़ीसदी लोग फ्रेंच बोलते हैं और 20 फ़ीसदी लोग डच भाषा ।

- (36.1) बेल्जियम की जातीय संरचना को स्पष्ट कीजिए । 1
- (36.2) 'जातीय' शब्द की व्याख्या कीजिए । 1
- (36.3) बेल्जियम की सरकार ने अपनी जातीय समस्या को किस प्रकार हल किया ? स्पष्ट कीजिए । 2

खण्ड च

(मानचित्र कौशल आधारित प्रश्न)

(2+3=5)

37. (क) भारत के दिए गए राजनीतिक रेखा-मानचित्र (पृष्ठ 23 पर) में दो स्थान A और B के रूप में दर्शाए गए हैं । निम्नलिखित जानकारी की सहायता से उन्हें पहचानिए और उनके सही नाम उनके समीप खींची गई रेखाओं पर लिखिए :

- (i) वह स्थान जहाँ गाँधीजी ने नमक कानून तोड़ा । 1
- (ii) वह स्थान जहाँ भारतीय राष्ट्रीय कांग्रेस का अधिवेशन सितम्बर, 1920 में हुआ था । 1

(ख) भारत के इसी राजनीतिक रेखा-मानचित्र पर निम्नलिखित में से किन्हीं **तीन** को उपयुक्त चिह्नों से दर्शाइए और उनके नाम लिखिए : $3 \times 1 = 3$

- (i) टेहरी – बाँध
- (ii) बोकारो – कोयले की खानें
- (iii) पुणे – सॉफ्टवेयर प्रौद्योगिकी पार्क
- (iv) तूतीकोरिन – समुद्री पत्तन



36. Read the given extract and answer the questions that follow :

Belgium is a small country in Europe, smaller in area than the state of Haryana. It has borders with France, the Netherlands, Germany and Luxembourg. It has a population of a little over one crore, about half the population of Haryana. The ethnic composition of this small country is very complex. Of the country's total population, 59 per cent lives in the Flemish region and speaks Dutch language. Another 40 per cent people live in the Wallonia region and speak French. Remaining one per cent of the Belgians speak German. In the capital city Brussels, 80 per cent of the people speak French while 20 per cent are Dutch-speaking.

- (36.1) Explain the ethnic composition of Belgium. 1
- (36.2) Explain the term 'ethnic'. 1
- (36.3) How did the Belgian Government solve their ethnic problem ?
Explain. 2

SECTION F

(Map Skill Based Question)

(2+3=5)

37. (a) Two places A and B have been marked on the given political outline map of **India** (on page 23). Identify them with the help of the following information and write their correct names on the lines drawn near them :
- (i) The place where Gandhiji broke the salt law. 1
- (ii) The place where the session of the Indian National Congress was held in September, 1920. 1
- (b) On the same political outline map of **India**, locate and label any **three** of the following with suitable symbols : 3×1=3
- (i) Tehri – Dam
- (ii) Bokaro – Coal mines
- (iii) Pune – Software Technology Park
- (iv) Tuticorin – Sea port



नोट : निम्नलिखित प्रश्न केवल दृष्टिबाधित परीक्षार्थियों के लिए प्रश्न संख्या 37 के स्थान पर हैं ।

5×1=5

किन्हीं पाँच प्रश्नों के उत्तर दीजिए ।

- (37.1) उस स्थान का नाम लिखिए जहाँ गाँधीजी ने नमक कानून तोड़ा ।
- (37.2) उस स्थान का नाम लिखिए जहाँ भारतीय राष्ट्रीय कांग्रेस का अधिवेशन सितम्बर, 1920 में हुआ था ।
- (37.3) उस राज्य का नाम लिखिए जहाँ टेहरी बाँध स्थित है ।
- (37.4) उस राज्य का नाम लिखिए जहाँ बोकारो कोयला की खानें स्थित हैं ।
- (37.5) पुणे सॉफ्टवेयर प्रौद्योगिकी पार्क किस राज्य में स्थित है ?
- (37.6) उस राज्य का नाम लिखिए जहाँ तूतीकोरिन समुद्री पत्तन स्थित है ।



Note : The following questions are for the **Visually Impaired Candidates** only, in lieu of Q. No. 37.

5×1=5

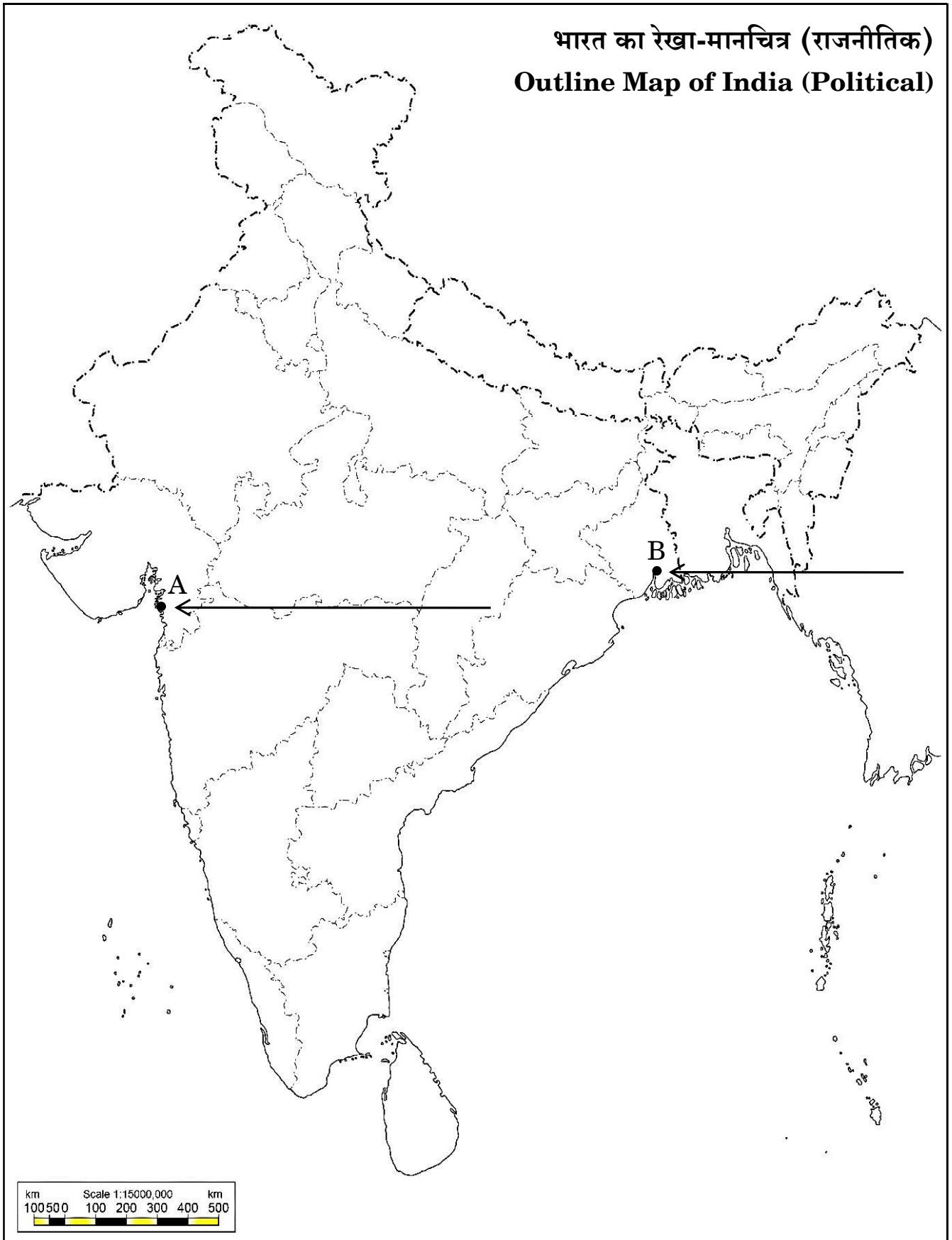
Answer any **five** questions.

- (37.1) Name the place where Gandhiji broke the salt law.
- (37.2) Name the place where the Indian National Congress session was held in September, 1920.
- (37.3) Name the state where Tehri dam is located.
- (37.4) Name the state where Bokaro coal mines are located.
- (37.5) In which state is the Pune Software Technology Park located ?
- (37.6) Name the state where Tuticorin sea port is located.



प्रश्न सं. 37 के लिए

For question no. 37



Series ZZZY1/6



SET-1

प्रश्न-पत्र कोड
Q.P. Code 32/6/1

रोल नं.

Roll No.

--	--	--	--	--	--	--	--

परीक्षार्थी प्रश्न-पत्र कोड को उत्तर-पुस्तिका के मुख-पृष्ठ पर अवश्य लिखें।

Candidates must write the Q.P. Code on the title page of the answer-book.

सामाजिक विज्ञान SOCIAL SCIENCE

निर्धारित समय : 3 घण्टे

Time allowed : 3 hours

अधिकतम अंक : 80

Maximum Marks : 80

- कृपया जाँच कर लें कि इस प्रश्न-पत्र में मुद्रित पृष्ठ 32 (मानचित्र सहित) है।
- प्रश्न-पत्र में दाहिने हाथ की ओर दिए गए प्रश्न-पत्र कोड को परीक्षार्थी उत्तर-पुस्तिका के मुख-पृष्ठ पर लिखें।
- कृपया जाँच कर लें कि इस प्रश्न-पत्र में 37 प्रश्न हैं।
- कृपया प्रश्न का उत्तर लिखना शुरू करने से पहले, उत्तर-पुस्तिका में प्रश्न का क्रमांक अवश्य लिखें।
- इस प्रश्न-पत्र को पढ़ने के लिए 15 मिनट का समय दिया गया है। प्रश्न-पत्र का वितरण पूर्वाह्न में 10.15 बजे किया जाएगा। 10.15 बजे से 10.30 बजे तक परीक्षार्थी केवल प्रश्न-पत्र को पढ़ेंगे और इस अवधि के दौरान वे उत्तर-पुस्तिका पर कोई उत्तर नहीं लिखेंगे।
- Please check that this question paper contains 32 printed pages (Including Map).
- Q.P. Code given on the right hand side of the question paper should be written on the title page of the answer-book by the candidate.
- Please check that this question paper contains 37 questions.
- **Please write down the serial number of the question in the answer-book before attempting it.**
- 15 minute time has been allotted to read this question paper. The question paper will be distributed at 10.15 a.m. From 10.15 a.m. to 10.30 a.m., the candidates will read the question paper only and will not write any answer on the answer-book during this period.

^



32/6/1

139 A

1



P.T.O.

सामान्य निर्देश :

निम्नलिखित निर्देशों को बहुत सावधानी से पढ़िए और उनका पालन कीजिए :

(i) प्रश्न-पत्र में कुल 37 प्रश्न हैं। सभी प्रश्न अनिवार्य हैं।

प्रश्न-पत्र में छः खण्ड-क, ख, ग, घ, ङ और च हैं।

(ii) खण्ड-क में प्रश्न संख्या 1 से 20 तक बहुविकल्पीय प्रश्न हैं। प्रत्येक प्रश्न 1 अंक का है।

(iii) खण्ड-ख में प्रश्न संख्या 21 से 24 तक अति लघु-उत्तरीय प्रश्न हैं। प्रत्येक प्रश्न 2 अंकों का है। प्रत्येक प्रश्न का उत्तर 40 शब्दों से अधिक का नहीं होना चाहिए।

(iv) खण्ड-ग में प्रश्न संख्या 25 से 29 तक लघु-उत्तरीय प्रश्न हैं। प्रत्येक प्रश्न 3 अंकों का है। प्रत्येक प्रश्न का उत्तर 60 शब्दों से अधिक का नहीं होना चाहिए।

(v) खण्ड-घ में प्रश्न संख्या 30 से 33 तक दीर्घ-उत्तरीय प्रश्न हैं। प्रत्येक प्रश्न 5 अंकों का है। प्रत्येक प्रश्न का उत्तर 120 शब्दों से अधिक का नहीं होना चाहिए।

(vi) खण्ड-ङ में प्रश्न संख्या 34 से 36, केस आधारित हैं। प्रत्येक प्रश्न के साथ 3-3 उपप्रश्न हैं। प्रत्येक प्रश्न 4 अंक का है।

(vii) खण्ड-च में प्रश्न संख्या 37 मानचित्र आधारित है। यह प्रश्न 5 अंकों का है 37 (a) (इतिहास से 2 अंक) और 37 (b) (भूगोल के 3 अंक)

(viii) इस प्रश्न पत्र में समग्र रूप से विकल्प का प्रावधान ही है। फिर भी उपप्रश्नों में विकल्प का प्रावधान है। ऐसे प्रश्नों में से केवल एक विकल्पीय प्रश्न का उत्तर लिखना है।

(ix) इसके अतिरिक्त प्रत्येक खण्ड और प्रश्न के साथ जहाँ भी आवश्यक है, पृथक से निर्देश दिए गए हैं।



General Instructions :

- (i) *Question paper contains 37 questions. All questions are compulsory. Question paper comprises six Sections – A, B, C, D, E and F There are 37 questions in the question paper.*
- (ii) *Section A – Question nos. 1 to 20 are MCQs of 1 mark each.*
- (iii) *Section B – Question nos. 21 to 24 are Very Short Answer Type Questions, carrying 2 marks each. Answer to each question should not exceed 40 words.*
- (iv) *Section C – Question nos. 25 to 29 are Short Answer Type Questions, carrying 3 marks each. Answer to each question should not exceed 60 words.*
- (v) *Section D – Question nos. 30 to 33 are Long Answer Type Questions, carrying 5 marks each. Answer to each question should not exceed 120 words.*
- (vi) *Section E – Question nos. from 34 to 36 are Case Based Questions with three sub questions and are of 4 marks each.*
- (vii) *Section F – Question no. 37 is map based, carrying 5 marks with two parts, 37 (a) from History (2 marks) and 37 (b) from Geography (3 marks).*
- (viii) *There is no overall choice in the question paper. However, an internal choice has been provided in a few questions. Only one of the choices in such questions have to be attempted.*
- (ix) *In addition to this, separate instructions are given with each section and question, wherever necessary.*



खण्ड – क

(20 × 1 = 20)

(बहुविकल्पीय प्रश्न)

1. निम्नलिखित को सुमेलित कीजिए और सही विकल्प का चयन कीजिए।

1

(नेता)

(भूमिका)

- | | | |
|------------------------|-------|--------------------------------------|
| (a) विक्टर इमेनुएल II | (I) | इटली का मुख्यमंत्री |
| (b) ज्युसेप मेत्सिनी | (II) | यंग इटली आंदोलन |
| (c) ज्युसेप गैरीबॉल्डी | (III) | सिसिली साम्राज्य पर विजय |
| (d) काउंट कावूर | (IV) | एकीकृत इटली के राजा के रूप में घोषणा |

विकल्प :

- | | | | |
|--------|-----|-----|-----|
| (a) | (b) | (c) | (d) |
| (A) I | IV | III | II |
| (B) II | I | IV | III |
| (C) IV | II | III | I |
| (D) I | IV | II | III |

2. निम्नलिखित में से किसने पहला साप्ताहिक समाचार-पत्र 'बंगाल गेजट' निकाला ?

1

- (A) बिपिन चन्द्र पाल
(B) बाल गंगाधर तिलक
(C) गंगाधर भट्टाचार्य
(D) राजा राममोहन राय



SECTION - A

(Multiple Choice Questions)

(20 × 1 = 20)

1. Match the following and choose the correct option.

1

(Leader)

(Role)

- | | |
|------------------------|---|
| (a) Victor Emmanuel II | I. Chief Minister of Italy |
| (b) Guiseppe Mazzini | II. Young Italy Movement |
| (c) Guiseppe Garibaldi | III. Conquered the Kingdom of Sicillies |
| (d) Count Cavour | IV. Proclaimed as king of Unified Italy |

- | | | | |
|--------|-----|-----|-----|
| (a) | (b) | (c) | (d) |
| (A) I | IV | III | II |
| (B) II | I | IV | III |
| (C) IV | II | III | I |
| (D) I | IV | II | III |

2. Who among the following brought out 'Bengal Gazette; the first weekly newspaper ?

1

- (A) Bipin Chandra Pal
- (B) Bal Gangadhar Tilak
- (C) Gangadhar Bhattacharya
- (D) Raja Rammohan Roy



3. 1840 से 1860 के बीच इंग्लैंड में रेलवे के विस्तार के साथ निम्नलिखित में से कौन सा उद्योग बढ़ा ? 1

- (A) लोहा और इस्पात
- (B) जूट और कपास
- (C) एल्युमिनियम और बॉक्साइट
- (D) ताँबा और इस्पात

4. यूरोपीय लोग 19वीं शताब्दी में अमेरिका क्यों चले गए ? निम्नलिखित विकल्पों में से सही कारण की पहचान कीजिए : 1

- (A) गरीबी और बीमारियाँ
- (B) सोने की खानों की ओर दौड़
- (C) फ्रांसीसी क्रांति से बचने के लिए
- (D) वियतनाम युद्ध के परिणाम स्वरूप

5. निम्नलिखित जानकारी की सहायता से फसल की पहचान कीजिए : 1

- यह एक मुख्य खाद्य फसल है ।
- यह खरीफ की फसल है ।
- इसके लिए उच्च तापमान और अधिक आर्द्रता की आवश्यकता होती है ।
- इसके लिए 100 cm से अधिक वार्षिक वर्षा की आवश्यकता होती है ।

विकल्प :

- (A) गेहूँ
- (B) मक्का
- (C) चावल
- (D) ज्वार



3. Which of the following industries increased with the expansion of railways in England from 1840s to 1860s ? 1

- (A) Iron and Steel
- (B) Jute and Cotton
- (C) Aluminium and Bauxite
- (D) Copper and Steel

4. Why did Europeans flee to America in 19th century ? Identify the correct reason from the following options : 1

- (A) Poverty and diseases
- (B) Due to gold rush
- (C) To escape from the French Revolution
- (D) As an aftermath of the Vietnam War

5. Identify the Crop with the help of the following information and choose the correct option. 1

- This is the staple food crop.
- This is a Kharif crop.
- It requires high temperature and high humidity.
- It requires above 100 cm of annual rainfall.

Options :

- (A) Wheat
- (B) Maize
- (C) Rice
- (D) Jwar



6. स्तंभ-A का स्तंभ-B के साथ मिलान कीजिए और सही विकल्प का चयन कीजिए :

1

स्तंभ - A (नदी)	स्तंभ - B (बाँध)
I. महानदी	1. सरदार सरोवर
II. नर्मदा	2. हीराकुड
III. चंबल	3. सलाल
IV. चेनाब	4. राणा प्रताप सागर

विकल्प :

	I	II	III	IV
(A)	4	3	2	1
(B)	3	4	1	2
(C)	2	1	4	3
(D)	1	2	3	4

7. निम्नलिखित में से कौन सा युग्म सुमेलित है ?

1

- (A) जलोढ़ मिट्टी पश्चिमी राजस्थान
(B) काली मिट्टी उत्तरी मैदान
(C) शुष्क मिट्टी दक्कन का पठार
(D) लैटेराइट मिट्टी पश्चिमी घाट

8. निम्नलिखित संस्थाओं में से कौन सी 'विश्व विकास रिपोर्ट' तैयार करती है ?

1

- (A) विश्व बैंक
(B) अंतर्राष्ट्रीय मुद्रा कोष
(C) विश्व स्वास्थ्य संगठन
(D) अन्तर्राष्ट्रीय श्रम संगठन



6. Match the Column – A with Column – B and choose the correct option : 1

Column – A
(River)

Column – B
(Dam)

- | | |
|--------------|----------------------|
| I. Mahanadi | 1. Sardar Sarovar |
| II. Narmada | 2. Hirakud |
| III. Chambal | 3. Salal |
| IV. Chenab | 4. Rana Pratap Sagar |

Options :

- | | I | II | III | IV |
|-----|---|----|-----|----|
| (A) | 4 | 3 | 2 | 1 |
| (B) | 3 | 4 | 1 | 2 |
| (C) | 2 | 1 | 4 | 3 |
| (D) | 1 | 2 | 3 | 4 |

7. Which of the following pair is correctly matched ? 1

- | | |
|-------------------|-------------------|
| (A) Alluvial Soil | Western Rajasthan |
| (B) Black Soil | Northern Plain |
| (C) Arid Soil | Deccan Plateau |
| (D) Laterite Soil | Western Ghats |

8. Which one of the following organizations prepares the 'World Development Report' ? 1

- (A) World Bank
(B) International Monetary Fund
(C) World Health Organisation
(D) International Labour Organisation



9. निम्नलिखित में से 'नीति आयोग' की पूर्ववर्ती सरकारी एजेंसी कौन सी थी ? 1
- (A) योजना आयोग
(B) निर्वाचन आयोग
(C) विश्वविद्यालय अनुदान आयोग
(D) संघ लोक सेवा आयोग
10. मान लीजिए कि एक स्थानीय क्षेत्र में चार परिवार हैं। यदि इन परिवारों की आय क्रमशः ₹ 6,000, ₹ 4,000, ₹ 7,000 और ₹ 3,000 हैं तो इस क्षेत्र की औसत आय क्या होगी ? सही विकल्प का चयन कीजिए। 1
- (A) ₹ 5,000
(B) ₹ 3,000
(C) ₹ 2,000
(D) ₹ 6,000
11. निम्नलिखित में से कौन सा स्थानीय कंपनी के लिए एक प्रमुख लाभ है जब वह किसी बहुराष्ट्रीय कंपनी के साथ मिलकर उत्पादन करता हो ? 1
- (A) बहुराष्ट्रीय कंपनी स्थानीय कंपनियों को धन एवं प्रौद्योगिकी प्रदान करती हैं।
(B) स्थानीय कंपनी के बोझ को कम करने के लिए बहुराष्ट्रीय कंपनी सभी निर्णय लेती है।
(C) बहुराष्ट्रीय कंपनी तेजी से उत्पादन के लिए स्थानीय कंपनी के सभी शेयर खरीदती है।
(D) बहुराष्ट्रीय कंपनी, स्थानीय कंपनी से श्रम और पूँजी निवेश के लिए कहती है।



-
9. Which one of the following is the preceding Government Agency of NITI Aayog ? 1
- (A) Planning Commission
(B) Election Commission
(C) University Grants Commission
(D) Union Public Service Commission
10. Assume there are four families in a locality. If the income of each family is ₹ 6,000, ₹ 4,000, ₹ 7,000 and ₹ 3,000 then find out the average income of the locality from the following options : 1
- (A) ₹ 5,000 (B) ₹ 3,000
(C) ₹ 2,000 (D) ₹ 6,000
11. Which one of the following is a major benefit to a local company which goes for joint production with an MNC ? 1
- (A) MNC provides Money and Technology to local company.
(B) MNC takes all decisions to reduce burden of local company.
(C) MNC purchases all shares of local company for faster production.
(D) MNC might ask for labour and capital investment from local company.



12. निम्नलिखित में से कौन सा जोड़ा सुमेलित है ?

1

- (A) प्राथमिक क्षेत्रक साहूकार
- (B) द्वितीयक क्षेत्रक पुजारी
- (C) तृतीयक क्षेत्रक बैंक
- (D) विनिर्माण क्षेत्रक माली

13. निम्नलिखित में से कौन सी एक असंगठित क्षेत्र की गतिविधि है ?

1

- (A) स्कूल में पढ़ाने वाला एक शिक्षक ।
- (B) बड़े कारखाने में काम करने वाला एक कर्मचारी ।
- (C) अस्पताल में इलाज करने वाला एक डॉक्टर ।
- (D) ठेकेदार के अधीन काम करने वाला एक दिहाड़ी मजदूर ।

14. निम्नलिखित में से कौन स्वयं सहायता समूहों में बचत और ऋण गतिविधियों के संबंध में निर्णय लेता है ?

1

- (A) किसी बैंक का प्रबंधक
- (B) गैर-सरकारी संस्था के सदस्य
- (C) स्थानीय साहूकार
- (D) स्वयं सहायता समूह के सदस्य



12. Which one of the following pairs is correctly matched ? 1

- (A) Primary Sector – Money Lender
- (B) Secondary Sector – Priest
- (C) Tertiary Sector – Bank
- (D) Manufacturing Sector – Gardener

13. Which one of the following is an activity of the unorganized sector ? 1

- (A) A teacher teaching in a school.
- (B) A worker going to work in a big factory.
- (C) A doctor treating patients in a hospital.
- (D) A daily wage labourer working under a contractor.

14. Who among the following takes the decision regarding saving and loan activities in the Self Help Groups (SHGs) ? 1

- (A) Manager of a Bank
- (B) Members of Non-Governmental Organisation (NGO)
- (C) Local Money Lenders
- (D) Members of Self-Help Group (SHG)



15. सत्ता के बँटवारे पर निम्नलिखित कथनों पर विचार कीजिए और सही विकल्प का चयन कीजिए : 1

- I. बहुसंख्यक समुदाय की इच्छा को सभी पर थोपना ।
- II. सामाजिक समूहों के बीच संघर्ष की संभावना को कम करना ।
- III. राजनीतिक व्यवस्था की स्थिरता सुनिश्चित करने के लिए सत्ता का बँटवारा ।
- IV. दलों के बीच सामाजिक-राजनीतिक विरोध की संभावना बढ़ाना ।

विकल्प :

- (A) I और III
- (B) II और III
- (C) I और IV
- (D) I और II

16. नीचे दिए गए प्रश्न में दो कथन, अभिकथन (A) और कारण (R) हैं । कथनों को पढ़िए और सही विकल्प का चयन कीजिए : 1

अभिकथन (A) : लोकतंत्र में कामकाज के लिए राजनीतिक दल महत्वपूर्ण हैं ।

कारण (R) : राजनीतिक दलों को बनाने में मीडिया एक महत्वपूर्ण भूमिका निभाती है ।

विकल्प :

- (A) (A) और (R) दोनों सही हैं और (R), (A) की सही व्याख्या है ।
- (B) (A) और (R) दोनों सही हैं, परंतु (R), (A) की सही व्याख्या नहीं है ।
- (C) (A) सही है, लेकिन (R) गलत है ।
- (D) (A) गलत है, परन्तु (R) सही है ।



15. Consider the following statements on Power sharing and choose the correct option. 1

- I. Imposing the will of majority community over others.
- II. It helps in reducing the possibility of conflict between the social groups.
- III. Power sharing is a good way to ensure the stability of political order.
- IV. It brings socio-political opposition among parties.

Options :

- (A) I and III
- (B) II and III
- (C) I and IV
- (D) I and II

16. Two statements are given in the question below as Assertion (A) and reason (R). Read the statements and choose the correct option. 1

Assertion (A) : Political Parties are important in the functioning of democracy.

Reason (R) : The media plays an important role in the making of Political Parties.

Options :

- (A) Both (A) and (R) are true and (R) is the correct explanation of (A).
- (B) Both (A) and (R) are true, but (R) is not the correct explanation of (A).
- (C) (A) is true, but (R) is false.
- (D) (A) is false, but (R) is true.



17. स्तंभ-A का मिलान स्तंभ-B से कीजिए और सही विकल्प का चयन कीजिए :

1

स्तंभ - A (विषय)	स्तंभ - B (सूची)
I. ई-प्रोग्रामिंग	1. समवर्ती सूची
II. पुलिस	2. संघ सूची
III. शिक्षा	3. राज्य सूची
IV. रक्षा	4. अवशिष्ट सूची

विकल्प :

	I	II	III	IV
(A)	4	3	1	2
(B)	3	4	1	2
(C)	4	1	3	2
(D)	4	2	1	3

18. निम्नलिखित देशों में से किसमें एक दलीय व्यवस्था है ?

1

- (A) चीन
- (B) भारत
- (C) पाकिस्तान
- (D) अमरीका

19. निम्नलिखित कथनों को पढ़िए और सही विकल्प का चयन कीजिए :

1

- I. भारत में कोई आधिकारिक धर्म नहीं है ।
- II. समुदायों को अपने धर्म को मानने, प्रचार और अभ्यास करने की स्वतंत्रता है ।
- III. राज्य समुदायों को उनके द्वारा चलाई जा रही शिक्षण संस्थानों को सहायता देकर मदद करता है ।
- IV. भारत धर्मतंत्र में विश्वास करता है ।

विकल्प :

- (A) I, II और III
- (B) I, II और IV
- (C) II, III और IV
- (D) I, III और IV



17. Match Column – A with Column – B and choose the correct option. 1

Column – A (Subjects)	Column – B (List)
I. E-Programming	1. Concurrent List
II. Police	2. Union List
III. Education	3. State List
IV. Defence	4. Residuary List

Options :

	I	II	III	IV
(A)	4	3	1	2
(B)	3	4	1	2
(C)	4	1	3	2
(D)	4	2	1	3

18. Which one of the following countries have One Party System ? 1

- | | |
|--------------|-------------|
| (A) China | (B) India |
| (C) Pakistan | (D) America |

19. Read the following statements and choose the correct option : 1

- I. There is no official religion in India.
- II. Communities have freedom to profess and practice their religion.
- III. State helps communities by giving aid to educational institutions run by them.
- IV. India believes in theocracy.

Options :

- | | |
|--------------------|-------------------|
| (A) I, II and III | (B) I, II and IV |
| (C) II, III and IV | (D) I, III and IV |



-
20. निम्नलिखित में से किस देश की राष्ट्रीय संसद में महिलाओं का प्रतिनिधित्व सबसे अधिक है ? 1
- (A) रूस
(B) ऑस्ट्रेलिया
(C) स्वीडन
(D) भारत

खण्ड - ख

(4 × 2 = 8)

(अति लघु-उत्तरीय प्रश्न)

21. 1832 की 'कुस्तुनतुनिया की संधि' ने किस प्रकार यूनान को एक स्वतंत्र राष्ट्र के रूप में मान्यता दी ? स्पष्ट कीजिए। 2
22. (a) कृषि के आधुनिकीकरण के लिए भारत सरकार द्वारा किए गए किन्हीं दो प्रयासों की व्याख्या कीजिए। 1 × 2 = 2
- अथवा**
- (b) रबी शस्य ऋतु की किन्हीं दो विशेषताओं की व्याख्या कीजिए। 1 × 2 = 2

23. भारत में राजनीतिक दलों की मान्यता के संबंध में चुनाव आयोग की भूमिका को स्पष्ट कीजिए। 2

24. ग्रामीण क्षेत्रों में अधिक रोजगार कैसे पैदा किये जा सकते हैं ? उदाहरण सहित स्पष्ट कीजिए। 2



-
20. Which one of the following countries has the highest representation of women in their National Parliament ? 1
- (A) Russia
- (B) Australia
- (C) Sweden
- (D) India

SECTION – B

(Very Short Answer Type Questions) (4 × 2 = 8)

21. How did the ‘Treaty of Constantinople’ of 1832 recognize Greece as an independent nation ? Explain. 2
22. (a) Explain any two efforts taken by the Government of India to modernise agriculture. 1 × 2 = 2

OR

- (b) Explain any two features of Rabi cropping season. 1 × 2 = 2
23. Explain the role of Election Commission regarding recognition of Political Parties in India. 2
24. How to create more employment in rural areas ? Explain with examples. 2



खण्ड – ग

(5 × 3 = 15)

(लघु-उत्तरीय प्रश्न)

25. फ्रांसीसी क्रांति पर मुद्रण संस्कृति के किन्हीं तीन प्रभावों की परख कीजिए । 3
26. (a) हम पर्यटन को व्यापार क्यों कहते हैं ? स्पष्ट कीजिए । 3
- अथवा**
- (b) देश के आर्थिक विकास में परिवहन के महत्त्व की व्याख्या कीजिए । 3
27. ऋण के औपचारिक और अनौपचारिक स्रोतों में अंतर स्पष्ट कीजिए । 3
28. 'आधुनिक लोकतंत्र व्यवस्थाओं में सत्ता की साझेदारी अनेक रूपों में हो सकती है।' इस कथन की पुष्टि कीजिए । 3
29. विकास के लिए धारणीयता का मुद्दा क्यों महत्त्वपूर्ण है ? उदाहरण सहित व्याख्या कीजिए । 3

खण्ड – घ

(4 × 5 = 20)

(दीर्घ-उत्तरीय प्रश्न)

30. (a) व्यापारी वर्ग ने स्वयं को 'सविनय अवज्ञा आंदोलन' से कैसे जोड़ा ? उदाहरणों सहित व्याख्या कीजिए । 5
- अथवा**
- (b) 'असम के मजदूरों की महात्मा गांधी और स्वराज की धारणा की अपनी समझ थी।' उदाहरणों सहित व्याख्या कीजिए । 5



SECTION – C

(Short Answer Type Questions)

(5 × 3 = 15)

25. Examine any three effects of Print culture on the French Revolution. **3**
26. (a) Why do we call Tourism as a Trade ? Explain. **3**
- OR**
- (b) Explain the importance of Transportation in the economic development of the country. **3**
27. Distinguish between formal and informal sources of credit. **3**
28. “In modern democracies, power sharing arrangements can take many forms.” Explain the statement. **3**
29. Why is the issue of sustainability important for development ? Explain with examples. **3**

SECTION – D

(Long Answer Type Questions)

(4 × 5 = 20)

30. (a) How did the Business class relate itself to the Civil Disobedience Movement ? Explain with examples. **5**
- OR**
- (b) ‘Workers of Assam had their own understanding of Mahatma Gandhi and the notion of Swaraj.’ Explain with examples. **5**



31. (a) ताजे पानी के औद्योगिक प्रदूषण को कैसे कम किया जा सकता है ? उदाहरणों सहित व्याख्या कीजिए। 5

अथवा

- (b) “किसी देश की आर्थिक शक्ति (उन्नति) विनिर्माण उद्योगों के विकास से मापी जाती है।” उदाहरणों सहित व्याख्या कीजिए। 5

32. (a) लोकतांत्रिक सरकार को वैध सरकार क्यों माना जाता है ? व्याख्या कीजिए। 5

अथवा

- (b) तानाशाही सरकार की तुलना में लोकतांत्रिक सरकार किस प्रकार बेहतर है ? स्पष्ट कीजिए। 5

33. (a) ‘विदेशी व्यापार के उदारीकरण और विदेशी निवेश नीति से भारत में दूरगामी परिवर्तन दिखे हैं।’ उपयुक्त तर्कों से कथन की पुष्टि कीजिए। 5

अथवा

- (b) उत्पादकों और श्रमिकों पर वैश्वीकरण का प्रभाव समान नहीं है। उपयुक्त तर्कों से कथन की पुष्टि कीजिए। 5

खण्ड – ड

(3 × 4 = 12)

(केस आधारित प्रश्न)

34. दिए गए स्रोत को पढ़िए और उसके नीचे दिए प्रश्नों का उत्तर लिखिए : 4

औद्योगिक विकास

बीसवीं सदी के पहले दशक तक भारत में औद्योगीकरण का ढर्रा कई बदलावों की चपेट में आ चुका था। स्वदेशी आंदोलन को गति मिलने से राष्ट्रवादियों ने लोगों को विदेशी कपड़े के बहिष्कार के लिए प्रेरित किया। औद्योगिक समूह अपने सामूहिक हितों की रक्षा के लिए संगठित हो गए और उन्होंने आयात शुल्क बढ़ाने तथा अन्य रियायतें देने के लिए सरकार पर दबाव डाला। 1906 के बाद चीन भेजे जाने वाले भारतीय धागे के निर्यात में भी कमी आने लगी थी। चीनी बाजारों में चीन और जापान की मिलों के उत्पाद छा गए थे। फलस्वरूप, भारत के उद्योगपति धागे की बजाय कपड़ा बनाने लगे। 1900 से 1912 के भारत में सूती कपड़े का उत्पादन दोगुना हो गया।



-
31. (a) How can the industrial pollution of fresh water be reduced ? Explain with examples. 5

OR

- (b) “The economic strength of a country is measured by the development of manufacturing industries.” Explain with examples. 5

32. (a) Why is Democratic Government considered as Legitimate Government ? Explain. 5

OR

- (b) How is Democracy a better form of government in comparison to dictatorship ? Explain. 5

33. (a) “Liberalisation of foreign trade and foreign investment policy have shown far reaching changes in India.” Support the statement with suitable arguments. 5

OR

- (b) ‘Among producers and workers, the impact of globalization has not been uniform.’ Support the statement with suitable arguments. 5

SECTION – E

(Case Based Questions)

(3 × 4 = 12)

34. Read the given source and answer the questions that follow : 4

INDUSTRIAL DEVELOPMENT

By the first decade of the twentieth century a series of changes affected the pattern of industrialization in India. As the swadeshi movement gathered momentum, nationalists mobilised people to boycott foreign cloth. Industrial groups organised themselves to protect their collective interests, pressurising the government to increase tariff protection and grant other concessions. From 1906, moreover, the export of Indian yarn to China declined since produce from Chinese and Japanese mills flooded the Chinese market. So industrialists in India began shifting from yarn to cloth production. Cotton piece goods production in India doubled between 1900 and 1912.



पहले विश्व युद्ध तक औद्योगिक विकास धीमा रहा । युद्ध ने एक बिलकुल नयी स्थिति पैदा कर दी थी । ब्रिटिश कारखाने सेना की ज़रूरतों को पूरा करने के लिए युद्ध संबंधी उत्पादन में व्यस्त थे इसलिए भारत में मैनचेस्टर के माल का आयात कम हो गया । भारतीय बाज़ारों को रातोंरात एक विशाल देशी बाज़ार मिल गया । युद्ध लंबा खिंचा तो भारतीय कारखानों में भी फ़ौज के लिए जूट की बोरियाँ, फ़ौजियों के लिए वर्दी के कपड़े, टेंट और चमड़े के जूते, घोड़े व खच्चर की जीन तथा बहुत सारे अन्य सामान बनने लगे । नए कारखाने लगाए गए ।

पुराने कारखाने कई पालियों में चलने लगे । बहुत सारे नए मज़दूरों को काम पर रखा गया और हरेक को पहले से भी ज़्यादा समय तक काम करना पड़ता था । युद्ध के दौरान औद्योगिक उत्पादन तेज़ी से बढ़ा ।

- (34.1) स्वदेशी आंदोलन क्या था ? 1
- (34.2) भारत में सूती कपड़े का उत्पादन 1900 से 1912 के बीच दुगना क्यों हो गया ? 1
- (34.3) किन्हीं दो घटनाओं की व्याख्या कीजिए जिन्होंने भारत को पुनः बाज़ार प्राप्त करने में सहायता की ? 2
35. दिए गए स्रोत को पढ़िए और उसके नीचे दिए गए प्रश्नों के उत्तर लिखिए । 4

समुदाय और संरक्षण

वन संरक्षण की नीतियाँ हमारे देश में कोई नई बात नहीं हैं । हम आमतौर पर इस बात से अनजान हैं कि वन हमारे देश में कुछ मानव प्रजातियों के आवास भी हैं । भारत के कुछ क्षेत्रों में तो स्थानीय समुदाय सरकारी अधिकारियों के साथ मिलकर अपने आवास स्थलों के संरक्षण में जुटे हैं क्योंकि इसी से ही दीर्घकाल में उनकी आवश्यकताओं की पूर्ति हो सकती है । सरिस्का बाघ रिज़र्व में राजस्थान के गाँवों के लोग वन्य जीव संरक्षण अधिनियम के तहत वहाँ से खनन कार्य बन्द करवाने के लिए संघर्षरत हैं । कई क्षेत्रों में तो लोग स्वयं वन्य जीव आवासों की रक्षा कर रहे हैं और सरकार की ओर से हस्तक्षेप भी स्वीकार नहीं कर रहे हैं । राजस्थान के अलवर जिले में 5 गाँवों के लोगों ने तो 1,200 हेक्टेयर वन भूमि भैरोंदेव डाकव 'सोंचुरी' घोषित कर दी जिसके अपने ही नियम कानून हैं; जो शिकार वर्जित करते हैं तथा बाहरी लोगों की घुसपैठ से यहाँ के वन्य जीवन को बचाते हैं ।



Yet, till the First World War, industrial growth was slow. The war created a dramatically new situation. With British mills busy with war production to meet the needs of the army, Manchester imports into India declined. Suddenly, Indian mills had a vast home market to supply. As the war prolonged, Indian factories were called upon to supply war needs : jute bags, cloth for army uniforms, tents and leather boots, horse and mule saddles and a host of other items. New factories were set up and old ones ran multiple shifts. Many new workers were employed and everyone was made to work longer hours. Over the war years industrial production boomed.

- (34.1) What was the Swadeshi Movement ? 1
- (34.2) Why did the Cotton piece goods production in India double between 1900 to 1912 ? 1
- (34.3) Explain any two events that helped India to regain its market. 2
35. Read the given source and answer the questions that follow : 4

COMMUNITY AND CONSERVATION

Conservation strategies are not new in our country. We often ignore that in India, forests are also home to some of the traditional communities. In some areas of India, local communities are struggling to conserve these habitats along with government officials, recognising that only this will secure their own long-term livelihood. In Sariska Tiger Reserve, Rajasthan, villagers have fought against mining by citing the Wildlife Protection Act. In many areas, villagers themselves are protecting habitats and explicitly rejecting government involvement. The inhabitants of five villages in the Alwar district of Rajasthan have declared 1,200 hectares of forest as the Bhairodev Dakav 'Sonchuri', declaring their own set of rules and regulations which do not allow hunting, and are protecting the wildlife against any outside encroachments.



- (35.1) वन समुदायों से कैसे संबंधित हैं ? 1
- (35.2) 'वन्य जीव संरक्षण अधिनियम' के उद्देश्य की व्याख्या कीजिए। 1
- (35.3) वन्य जीवों के संरक्षण के लिए समुदाय किस प्रकार काम कर रहे हैं ? उदाहरण सहित स्पष्ट कीजिए। 2
36. दिए गए स्रोत को पढ़िए और उसके नीचे दिए गए प्रश्नों का उत्तर लिखिए : 4

भारत में विकेन्द्रीकरण

स्थानीय सरकारों की यह नयी व्यवस्था दुनिया में लोकतंत्र का अब तक का सबसे बड़ा प्रयोग है। पूरे देश में नगरपालिकाओं और ग्राम-पंचायतों के लिए करीब 36 लाख लोगों का चुनाव होता है। यह संख्या ही अपने आप में दुनिया के कई देशों की कुल आबादी से ज्यादा है। स्थानीय सरकारों को संवैधानिक दर्जा दिए जाने से हमारे यहाँ लोकतंत्र की जड़ें और मज़बूत हुई हैं। इसने महिलाओं का प्रतिनिधित्व बढ़ाने के साथ ही हमारे लोकतंत्र में उनकी आवाज़ को मज़बूत किया है। बहरहाल, इन सबके बावजूद अभी भी अनेक परेशानियाँ कायम हैं। पंचायतों के चुनाव तो नियमित रूप से होते हैं और लोग बड़े उत्साह से इनमें हिस्सा भी लेते हैं लेकिन ग्राम सभाओं की बैठकें नियमित रूप से नहीं होतीं।

- (36.1) भारतीय विकेन्द्रीकरण को लोकतंत्र में सबसे बड़ा प्रयोग क्यों माना जाता है ? 1
- (36.2) भारत में स्थानीय सरकार की संवैधानिक स्थिति ने किस प्रकार लोकतंत्र की जड़ों को और गहरा करने में सहायता की है ? विश्लेषण कीजिए। 1
- (36.3) भारत सरकार द्वारा विकेन्द्रीकरण के लिए उठाए गए, किन्हीं दो उपायों की व्याख्या कीजिए। 2

खण्ड - च

(2 + 3 = 5)

(मानचित्र आधारित प्रश्न)

37. (a) भारत के दिए गए राजनीतिक रेखा-मानचित्र पर दो स्थानों (A) और (B) को अंकित किया गया है। दी गई जानकारी की सहायता से उन्हें पहचानिए और उनके पास खींची गई रेखाओं पर उनके सही नाम लिखिए। 2
- (A) वह स्थान जहाँ 1927 में भारतीय राष्ट्रीय कांग्रेस का अधिवेशन हुआ था।
- (B) वह स्थान जहाँ महात्मा गांधी ने नमक कानून तोड़ा था।



-
- (35.1) How are forests related with Communities ? 1
- (35.2) Explain the aim of 'Wildlife Protection Act. 1
- (35.3) How are communities working for the conservation of Wildlife ?
Explain with example. 2
36. Read the given source and answer the questions that follow : 4

DECENTRALISATION IN INDIA

This new system of local government is the largest experiment in democracy conducted anywhere in the world. There are now about 36 lakh elected representatives in the panchayats and municipalities etc., all over the country. This number is bigger than the population of many countries in the world. Constitutional status for local government has helped to deepen democracy in our country. It has also increased women's representation and voice in our democracy. At the same time, there are many difficulties. While elections are held regularly of Panchayats and people participate enthusiastically in it but meetings of gram sabhas are not held regularly.

- (36.1) Why is Indian decentralisation considered as the largest experiment in democracy ? 1
- (36.2) Analyse how constitutional status for local government has helped to deepen democracy in India ? 1
- (36.3) Explain any two steps taken by the Indian Government for decentralisation. 2

SECTION – F

(Map Based Questions)

(2 + 3 = 5)

37. (a) Two places (A) and (B) have been marked on the given political outline Map of India. Identify them with the help of given information and write their correct names on the lines drawn near them. 2
- (A) The Place where Indian National Congress Session was held in 1927.
- (B) The place where Mahatma Gandhi broke Salt law.



(b) भारत के इसी रेखा मानचित्र पर निम्नलिखित में से किन्हीं **तीन** को उपयुक्त चिह्नों द्वारा अंकित कीजिए और उनके नाम लिखिए :

3

- (i) इंदिरा गांधी अन्तर्राष्ट्रीय हवाईअड्डा
- (ii) काकरापारा परमाणु ऊर्जा संयंत्र
- (iii) हैदराबाद सॉफ्टवेयर प्रौद्योगिकी पार्क
- (iv) कांडला समुद्री पत्तन

नोट : निम्नलिखित प्रश्न केवल दृष्टिबाधित परीक्षार्थियों के लिए प्रश्न संख्या 37 के स्थान पर है। (5 × 1 = 5)

किन्हीं **पाँच** प्रश्नों के उत्तर लिखिए।

- (37.1) उस स्थान का नाम लिखिए जहाँ भारतीय राष्ट्रीय काँग्रेस अधिवेशन 1927 में हुआ था। 1
- (37.2) उस स्थान का नाम लिखिए जहाँ महात्मा गांधी ने नमक कानून तोड़ा था। 1
- (37.3) उस शहर का नाम लिखिए जहाँ इंदिरा गांधी अन्तर्राष्ट्रीय हवाई अड्डा स्थित है। 1
- (37.4) उस राज्य का नाम लिखिए जहाँ काकरापारा परमाणु संयंत्र स्थित है। 1
- (37.5) उस राज्य का नाम लिखिए जहाँ हैदराबाद सॉफ्टवेयर टेक्नोलॉजी पार्क स्थित है। 1
- (37.6) उस राज्य का नाम लिखिए जहाँ कांडला समुद्री पत्तन स्थित है। 1



-
- (b) On the same outline Map of India locate and label any **three** of the following with suitable symbols. **3**
- (i) Indira Gandhi International Airport.
 - (ii) Kakrapara – Atomic Power Station.
 - (iii) Hyderabad – Software Technology Park
 - (iv) Kandla Sea Port

Note : The following questions are for the Visually Impaired
Candidates only in Lieu of Q. No. 37. (5 × 1 = 5)

Attempt any **five** questions.

- (37.1) Name the place where the session of Indian National Congress was held in 1927. **1**
- (37.2) Name the place where Mahatma Gandhi broke the Salt law. **1**
- (37.3) Name the city where Indira Gandhi International Airport is located. **1**
- (37.4) Name the State where Kakrapara Nuclear plant is located. **1**
- (37.5) Name the State where Hyderabad Software Technology park is located. **1**
- (37.6) Name the State where Kandla Sea Port is located. **1**
-





32/6/1

30



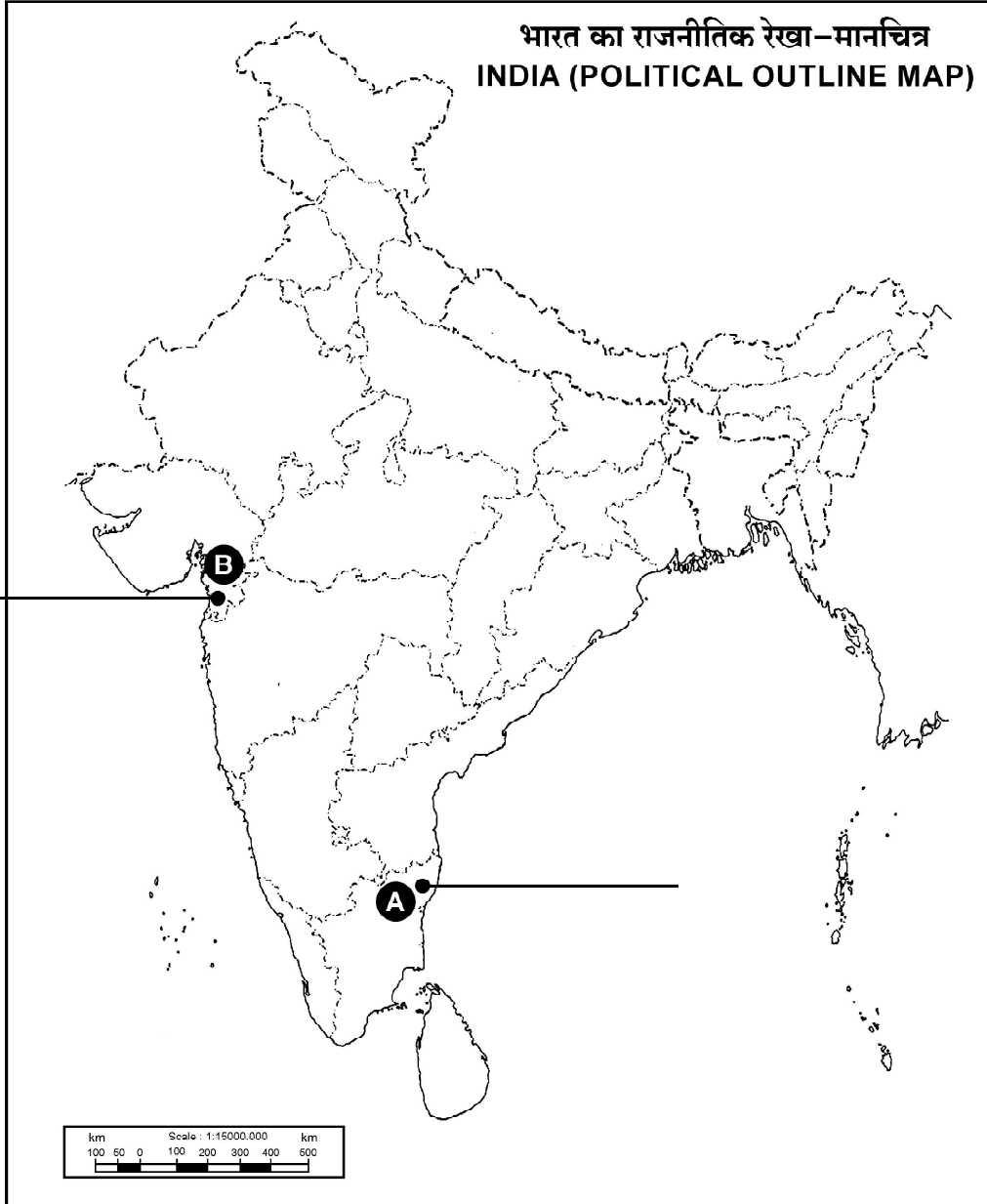
प्रश्न सं. 37 के लिए मानचित्र
Map for Q. No. 37

यहाँ से काटें

Cut Here

यहाँ से काटें

Cut Here



32/6/1 **139 A**

32



Series ZZYY1/2



SET-1

Q.P. Code 42/2/1

Roll No.

--	--	--	--	--	--	--	--

Candidates must write the Q.P. Code on the title page of the answer-book.

ਸਮਾਜਿਕ ਵਿਗਿਆਨ
(ਪੰਜਾਬੀ ਉਲਥਾ)
SOCIAL SCIENCE
(Punjabi Version)

ਸਮਾਂ ਸੀਮਾਂ : 3 ਘੰਟੇ

ਪੂਰਨ ਅੰਕ : 80

Time allowed : 3 hours

Maximum Marks : 80

- ਕਿਰਪਾ ਕਰਕੇ ਜਾਂਚ ਕਰ ਲਵੋ ਕਿ ਇਸ ਪ੍ਰਸ਼ਨ ਪੱਤਰ ਵਿਚ ਛਪੇ ਹੋਏ 13 ਪੰਨੇ + 1 ਮਾਨਚਿੱਤਰ ਹਨ ।
 - ਪ੍ਰਸ਼ਨ ਪੱਤਰ ਵਿਚ ਸੱਜੇ ਹੱਥ ਦੇ ਵਲ ਦਿੱਤੇ ਗਏ ਪ੍ਰਸ਼ਨ ਪੱਤਰ ਕੋਡ ਨੂੰ ਪ੍ਰੀਖਿਆਰਥੀ ਉੱਤਰ ਪੁਸਤਿਕਾ ਦੇ ਮੁੱਖ ਪੰਨੇ ਉਪਰ ਲਿਖਣ ।
 - ਕਿਰਪਾ ਕਰਕੇ ਜਾਂਚ ਕਰ ਲਵੋ ਕਿ ਇਸ ਪ੍ਰਸ਼ਨ ਪੱਤਰ ਵਿਚ 37 ਪ੍ਰਸ਼ਨ ਹਨ ।
 - ਕਿਰਪਾ ਕਰਕੇ ਪ੍ਰਸ਼ਨ ਦਾ ਉੱਤਰ ਲਿਖਣਾ ਸ਼ੁਰੂ ਕਰਨ ਤੋਂ ਪਹਿਲਾਂ, ਉੱਤਰ ਪੁਸਤਿਕਾ ਵਿਚ ਪ੍ਰਸ਼ਨ ਦਾ ਕ੍ਰਮਾਂਕ (ਸੀਰੀਅਲ ਨੰਬਰ) ਜ਼ਰੂਰ ਲਿਖੋ ।
 - ਇਸ ਪ੍ਰਸ਼ਨ ਪੱਤਰ ਨੂੰ ਪੜ੍ਹਨ ਦੇ ਲਈ 15 ਮਿੰਟ ਦਾ ਸਮਾਂ ਦਿੱਤਾ ਗਿਆ ਹੈ । ਪ੍ਰਸ਼ਨ ਪੱਤਰ ਸਵੇਰੇ 10.15 ਵਜੇ ਵੰਡੇ ਜਾਣਗੇ । 10.15 ਵਜੇ ਤੋਂ 10.30 ਵਜੇ ਤਕ ਪ੍ਰੀਖਿਆਰਥੀ ਕੇਵਲ ਪ੍ਰਸ਼ਨ ਪੱਤਰ ਨੂੰ ਪੜ੍ਹਨਗੇ ਅਤੇ ਇਸ ਸਮੇਂ ਵਿਚ ਉਹ ਉੱਤਰ ਪੁਸਤਿਕਾ ਵਿਚ ਕੋਈ ਉੱਤਰ ਨਹੀਂ ਲਿਖਣਗੇ ।
 - Please check that this question paper contains 13 printed pages + 1 Map.
 - Q.P. Code given on the right hand side of the question paper should be written on the title page of the answer-book by the candidate.
 - Please check that this question paper contains 37 questions.
 - Please write down the serial number of the question in the answer-book before attempting it.
 - 15 minute time has been allotted to read this question paper. The question paper will be distributed at 10.15 a.m. From 10.15 a.m. to 10.30 a.m., the students will read the question paper only and will not write any
- * answer on the answer-book during this period.



ਵਿਆਪਕ ਨਿਰਦੇਸ਼ :

ਹੇਠ ਲਿਖੇ ਨਿਰਦੇਸ਼ਾਂ ਨੂੰ ਬਹੁਤ ਧਿਆਨ ਨਾਲ ਪੜ੍ਹੋ ਅਤੇ ਉਨ੍ਹਾਂ ਦਾ ਸਖਤੀ ਨਾਲ ਪਾਲਨ ਕਰੋ :

- (i) ਇਸ ਪ੍ਰਸ਼ਨ ਪੱਤਰ ਵਿਚ 37 ਪ੍ਰਸ਼ਨ ਹਨ । ਸਾਰੇ ਪ੍ਰਸ਼ਨ ਜ਼ਰੂਰੀ ਹਨ ।
- (ii) ਇਹ ਪ੍ਰਸ਼ਨ ਪੱਤਰ ਛੇ ਖੰਡਾਂ ਵਿੱਚ ਵੰਡਿਆ ਗਿਆ ਹੈ – ਖੰਡ A, B, C, D, E ਅਤੇ F ।
- (iii) ਖੰਡ A – ਪ੍ਰਸ਼ਨ ਸੰਖਿਆ 1 ਤੋਂ 20 ਤਕ ਬਹੁਵਿਕਲਪੀ ਪ੍ਰਸ਼ਨ ਹਨ । ਹਰ ਇਕ ਪ੍ਰਸ਼ਨ 1 ਅੰਕ ਦਾ ਹੈ ।
- (iv) ਖੰਡ B – ਪ੍ਰਸ਼ਨ ਸੰਖਿਆ 21 ਤੋਂ 24 ਤਕ ਬਹੁਤ ਛੋਟੇ ਉੱਤਰ ਵਾਲੇ ਪ੍ਰਸ਼ਨ ਹਨ । ਹਰ ਇਕ ਪ੍ਰਸ਼ਨ 2 ਅੰਕ ਦਾ ਹੈ । ਹਰ ਇਕ ਪ੍ਰਸ਼ਨ ਦਾ ਉੱਤਰ 40 ਸ਼ਬਦਾਂ ਤੋਂ ਜ਼ਿਆਦਾ ਨਹੀਂ ਹੋਣਾ ਚਾਹੀਦਾ ਹੈ ।
- (v) ਖੰਡ C – ਪ੍ਰਸ਼ਨ ਸੰਖਿਆ 25 ਤੋਂ 29 ਤਕ ਛੋਟੇ ਉੱਤਰ ਵਾਲੇ ਪ੍ਰਸ਼ਨ ਹਨ । ਹਰ ਇਕ ਪ੍ਰਸ਼ਨ 3 ਅੰਕ ਦਾ ਹੈ । ਹਰ ਇਕ ਪ੍ਰਸ਼ਨ ਦਾ ਉੱਤਰ 60 ਸ਼ਬਦਾਂ ਤੋਂ ਜ਼ਿਆਦਾ ਨਹੀਂ ਹੋਣਾ ਚਾਹੀਦਾ ਹੈ ।
- (vi) ਖੰਡ D – ਪ੍ਰਸ਼ਨ ਸੰਖਿਆ 30 ਤੋਂ 33 ਲੰਬੇ ਉੱਤਰ ਵਾਲੇ ਪ੍ਰਸ਼ਨ ਹਨ । ਹਰ ਇਕ ਪ੍ਰਸ਼ਨ 5 ਅੰਕ ਦਾ ਹੈ । ਹਰ ਇਕ ਪ੍ਰਸ਼ਨ ਦਾ ਉੱਤਰ 120 ਸ਼ਬਦਾਂ ਤੋਂ ਜ਼ਿਆਦਾ ਨਹੀਂ ਹੋਣਾ ਚਾਹੀਦਾ ਹੈ ।
- (vii) ਖੰਡ E – ਪ੍ਰਸ਼ਨ ਸੰਖਿਆ 34 ਤੋਂ 36 ਤਕ ਸਰੋਤ/ਕੇਸ ਅਧਾਰਿਤ ਪ੍ਰਸ਼ਨ ਹਨ । ਹਰ ਇਕ ਪ੍ਰਸ਼ਨ ਦੇ 3-3 ਉਪ-ਪ੍ਰਸ਼ਨ ਹਨ । ਹਰ ਇਕ ਪ੍ਰਸ਼ਨ 4 ਅੰਕ ਦਾ ਹੈ ।
- (viii) ਖੰਡ F ਵਿਚ ਪ੍ਰਸ਼ਨ ਸੰਖਿਆ 37 ਮਾਨਚਿੱਤਰ ਅਧਾਰਿਤ ਪ੍ਰਸ਼ਨ ਹੈ । ਇਹ ਪ੍ਰਸ਼ਨ 5 ਅੰਕ ਦਾ ਹੈ, ਜੋ ਕਿ ਇਤਿਹਾਸ (37(a) – 2 ਅੰਕ) ਅਤੇ ਭੂਗੋਲ (37(b) – 3 ਅੰਕ) ਨਾਲ ਸੰਬੰਧਤ ਹਨ ।
- (ix) ਪ੍ਰਸ਼ਨ ਪੱਤਰ ਵਿਚ ਕੋਈ ਵਿਆਪਕ ਵਿਕਲਪ ਨਹੀਂ ਹੈ । ਹਾਲਾਂਕਿ, ਕੁਝ ਪ੍ਰਸ਼ਨਾਂ ਵਿਚ ਅੰਦਰੂਨੀ ਵਿਕਲਪ ਦਿਤੇ ਗਏ ਹਨ । ਅਜੇਹੇ ਪ੍ਰਸ਼ਨਾਂ ਵਿਚੋਂ ਸਿਰਫ ਇਕ ਹੀ ਵਿਕਲਪ ਦਾ ਉੱਤਰ ਲਿਖੋ ।
- (x) ਇਨ੍ਹਾਂ ਤੋਂ ਇਲਾਵਾ, ਕੁਝ ਪ੍ਰਸ਼ਨਾਂ ਵਿਚ ਅਲਗ ਤੋਂ ਲੋੜ ਅਨੁਸਾਰ ਨਿਰਦੇਸ਼ ਦਿਤੇ ਗਏ ਹਨ ।

ਖੰਡ A

(ਬਹੁਵਿਕਲਪੀ ਪ੍ਰਸ਼ਨ)

(20×1=20)

1. 1815 ਵਿਚ ਨੇਪੋਲਿਅਨ ਦੀ ਹਾਰ ਤੋਂ ਪਿਛੋਂ ਯੂਰੋਪੀ ਸਰਕਾਰਾਂ ਹੇਠ ਲਿਖੀਆਂ ਵਿਚੋਂ ਕਿਹੜੀ ਭਾਵਨਾ ਨਾਲ ਪ੍ਰੇਰਿਤ ਸਨ ?
 - (a) ਸਮਾਜਵਾਦ
 - (b) ਰੂੜੀਵਾਦ
 - (c) ਉਦਾਰਵਾਦ
 - (d) ਰੁਮਾਨੀਵਾਦ



-
2. ਪਹਿਲੇ ਵਿਸ਼ਵ ਯੁੱਧ ਵਿਚ ਕੇਂਦਰੀ ਸ਼ਕਤੀਆਂ ਨਾਲ ਸੰਬੰਧਤ ਹੇਠ ਲਿਖਿਆਂ ਵਿਚੋਂ ਸਹੀ ਵਿਕਲਪ ਚੁਣੋ :
- (a) ਜਰਮਨੀ, ਆਸਟ੍ਰੀਆ-ਹੰਗਰੀ ਅਤੇ ਆਟੋਮਨ ਤੁਰਕੀ
(b) ਬ੍ਰਿਟੇਨ, ਫਰਾਂਸ ਅਤੇ ਰੂਸ
(c) ਇਟਲੀ, ਜਪਾਨ ਅਤੇ ਰੂਸ
(d) ਫਰਾਂਸ, ਆਸਟ੍ਰੀਆ-ਹੰਗਰੀ ਅਤੇ ਚੀਨ
3. 1920 ਦੇ ਦਹਾਕੇ ਵਿਚ ਹੇਠ ਲਿਖੇ ਕਿਸ ਦੇਸ਼ ਦੀ ਮਹਤਵਪੂਰਨ ਵਿਸ਼ੇਸ਼ਤਾ 'ਵੱਡੇ ਪਧਰ ਤੇ ਉਤਪਾਦਨ' ਦਾ ਚਲਨ ਸੀ ?
- (a) ਸੰਯੁਕਤ ਰਾਜ ਅਮੇਰਿਕਾ (b) ਪੋਲੈਂਡ
(c) ਫਰਾਂਸ (d) ਜਪਾਨ
4. ਹੇਠ ਦਿੱਤੇ ਗਏ ਚਿਤਰ ਨੂੰ ਦੇਖੋ । ਚਿਤਰ ਵਿਚ ਦਿਖਾਏ ਗਏ ਸੀਨਿਅਰ ਸਾਹਿਤਕਾਰ ਦੇ ਨਾਮ ਨੂੰ ਪਛਾਣੋ ਅਤੇ ਸਹੀ ਵਿਕਲਪ ਚੁਣੋ ।



ਵਿਕਲਪ :

- (a) ਰਾਮ ਮੋਹਨ ਰਾਇ
(b) ਰਾਜਾ ਰਵਿ ਵਰਮਾ
(c) ਲਕਸ਼ਮੀ ਨਾਥ ਬੇਜਬਰੂਆ
(d) ਗੰਗਾਧਰ ਭੱਟਾਚਾਰੀਆ



ਨੋਟ: ਹੇਠ ਲਿਖੇ ਪ੍ਰਸ਼ਨ ਸਿਰਫ ਦਰਿਸ਼ਟੀਵਿਕਲਾਂਗ ਪ੍ਰੀਖਿਆਰਥੀਆਂ ਦੇ ਲਈ ਪ੍ਰਸ਼ਨ ਸੰਖਿਆ 4 ਦੇ ਥਾਂ ਤੇ ਬਦਲਵੇਂ ਪ੍ਰਸ਼ਨ ਹਨ ।

ਹੇਠ ਲਿਖਿਆਂ ਵਿਚੋਂ ਕੋਣ 'ਗੁਲਾਮਗੀਰੀ' ਦਾ ਲੇਖਕ ਹੈ ?

- (a) ਡਾ. ਬੀ.ਆਰ. ਅੰਬੇਡਕਰ
- (b) ਈ.ਵੀ. ਪੇਰਿਯਾਰ
- (c) ਜਯੋਤਿਬਾ ਫੁਲੇ
- (d) ਰਾਮ ਮੋਹਨ ਰਾਏ

5. ਹੇਠ ਲਿਖਿਆਂ ਵਿਚੋਂ ਕਿਹੜੀ ਮਿੱਟੀ ਉੱਚੇ ਤਾਪਮਾਨ ਅਤੇ ਭਾਰੀ ਬਰਸਾਤ ਵਾਲੇ ਖੇਤਰਾਂ ਵਿਚ ਵਿਕਸਿਤ ਹੁੰਦੀ ਹੈ ?

- (a) ਲਾਲ ਅਤੇ ਪੀਲੀ
- (b) ਕਾਲੀ
- (c) ਜਲੋੜ
- (d) ਲੇਟਰਾਇਟ

6. ਦੋ ਕਥਨ, ਦ੍ਰਿੜਕਥਨ (A) ਅਤੇ ਕਾਰਨ (R) ਦੇ ਰੂਪ ਵਿਚ ਦਿਤੇ ਗਏ ਹਨ । ਦੋਨੋਂ ਕਥਨਾਂ ਨੂੰ ਧਿਆਨ ਨਾਲ ਪੜ੍ਹੋ ਅਤੇ ਸਹੀ ਵਿਕਲਪ ਚੁਣੋ ।

ਦ੍ਰਿੜਕਥਨ (A) : ਖੇਤੀ ਬਾੜੀ ਅਤੇ ਉਦਯੋਗ ਇਕ ਦੂਸਰੇ ਦੇ ਪੂਰਕ ਹਨ ।

ਕਾਰਨ (R) : ਦੇਸ਼ ਵਿਚ ਉਦਯੋਗਿਕ ਵਿਕਾਸ ਬੇਰੋਜਗਾਰੀ ਅਤੇ ਗਰੀਬੀ ਖਤਮ ਕਰਨ ਦੀ ਜ਼ਰੂਰੀ ਸ਼ਰਤ ਹੈ ।

- (a) ਦ੍ਰਿੜਕਥਨ (A) ਅਤੇ ਕਾਰਨ (R) ਦੋਨੋਂ ਸਹੀ ਹਨ ਅਤੇ ਕਾਰਨ (R), ਦ੍ਰਿੜਕਥਨ (A) ਦੀ ਸਹੀ ਵਿਆਖਿਆ ਕਰਦਾ ਹੈ ।
- (b) ਦ੍ਰਿੜਕਥਨ (A) ਅਤੇ ਕਾਰਨ (R) ਦੋਨੋਂ ਸਹੀ ਹਨ, ਪਰ ਕਾਰਨ (R), ਦ੍ਰਿੜਕਥਨ (A) ਦੀ ਸਹੀ ਵਿਆਖਿਆ ਨਹੀਂ ਕਰਦਾ ਹੈ ।
- (c) ਦ੍ਰਿੜਕਥਨ (A) ਸਹੀ ਹੈ, ਪਰ ਕਾਰਨ (R) ਗਲਤ ਹੈ ।
- (d) ਦ੍ਰਿੜਕਥਨ (A) ਗਲਤ ਹੈ, ਪਰ ਕਾਰਨ (R) ਸਹੀ ਹੈ ।



7. ਕਾਲਮ I ਦਾ ਮਿਲਾਨ ਕਾਲਮ II ਨਾਲ ਕਰੋ ਅਤੇ ਸਹੀ ਵਿਕਲਪ ਚੁਣੋ ।

ਕਾਲਮ I (ਪੱਤਣ)	ਕਾਲਮ II (ਪ੍ਰਕਾਰ)
i. ਕਾਂਡਲਾ	1. ਨਦੀ ਵਾਲਾ ਪੱਤਣ
ii. ਮੂੰਬਈ	2. ਸਥਲ ਨਾਲ ਘਿਰਿਆ ਪੱਤਣ
iii. ਵਿਸ਼ਾਖਾਪਟਨਮ	3. ਸਭ ਤੋਂ ਵੱਡਾ ਪੱਤਣ
iv. ਕੋਲਕਾਤਾ	4. ਆਜ਼ਾਦੀ ਪ੍ਰਾਪਤ ਕਰਨ ਤੋਂ ਪਿਛੋਂ ਵਿਕਸਿਤ ਪੱਤਣ

ਵਿਕਲਪ :

- (a) i - 4, ii - 3, iii - 2, iv - 1
(b) i - 2, ii - 1, iii - 3, iv - 4
(c) i - 2, ii - 4, iii - 1, iv - 3
(d) i - 1, ii - 2, iii - 4, iv - 3

8. ਦੋ ਕਥਨ, ਦ੍ਰਿੜਕਥਨ (A) ਅਤੇ ਕਾਰਨ (R) ਦੇ ਰੂਪ ਵਿਚ ਦਿਤੇ ਗਏ ਹਨ । ਦੋਨੋਂ ਕਥਨਾਂ ਨੂੰ ਧਿਆਨ ਨਾਲ ਪੜ੍ਹੋ ਅਤੇ ਸਹੀ ਵਿਕਲਪ ਚੁਣੋ ।

ਦ੍ਰਿੜਕਥਨ (A) : ਬੇਲਜਿਅਮ ਨੇ ਆਪਣੇ ਸੰਵਿਧਾਨ ਵਿਚ ਚਾਰ ਵਾਰ ਸੰਸ਼ੋਧਨ ਕੀਤੇ ।

ਕਾਰਨ (R) : ਸੰਸ਼ੋਧਨ ਸਾਰਿਆਂ ਨੂੰ ਇੱਕ ਹੀ ਦੇਸ਼ ਵਿਚ ਇਕੱਠੇ ਰਹਿਣ ਵਾਸਤੇ ਸਮਰਥ ਬਨਾਉਣ ਲਈ ਸਨ ।

- (a) ਦ੍ਰਿੜਕਥਨ (A) ਅਤੇ ਕਾਰਨ (R) ਦੋਨੋਂ ਸਹੀ ਹਨ ਅਤੇ ਕਾਰਨ (R), ਦ੍ਰਿੜਕਥਨ (A) ਦੀ ਸਹੀ ਵਿਆਖਿਆ ਕਰਦਾ ਹੈ ।
(b) ਦ੍ਰਿੜਕਥਨ (A) ਅਤੇ ਕਾਰਨ (R) ਦੋਨੋਂ ਸਹੀ ਹਨ, ਪਰ ਕਾਰਨ (R), ਦ੍ਰਿੜਕਥਨ (A) ਦੀ ਸਹੀ ਵਿਆਖਿਆ ਨਹੀਂ ਕਰਦਾ ਹੈ ।
(c) ਦ੍ਰਿੜਕਥਨ (A) ਸਹੀ ਹੈ, ਪਰ ਕਾਰਨ (R) ਗਲਤ ਹੈ ।
(d) ਦ੍ਰਿੜਕਥਨ (A) ਗਲਤ ਹੈ, ਪਰ ਕਾਰਨ (R) ਸਹੀ ਹੈ ।

9. ਹੇਠ ਲਿਖਿਆਂ ਵਿਚੋਂ ਕਿਹੜਾ 'ਕੋਲ ਆਕੇ ਸੰਘ' ਬਨਣ ਦਾ ਉਦਾਹਰਣ ਹੈ ?

- (a) ਭਾਰਤ (b) ਸੰਯੁਕਤ ਰਾਜ ਅਮੇਰਿਕਾ
(c) ਬੇਲਜਿਅਮ (d) ਸਪੇਨ



10. ਕਾਲਮ I ਦਾ ਮਿਲਾਨ ਕਾਲਮ II ਨਾਲ ਕਰੋ ਅਤੇ ਸਹੀ ਵਿਕਲਪ ਚੁਣੋ ।

ਕਾਲਮ I	ਕਾਲਮ II
i. ਸੰਘ ਸੂਚੀ	1. ਖੇਤੀ ਬਾੜੀ
ii. ਰਾਜ ਸੂਚੀ	2. ਕੰਪਿਊਟਰ ਸਾਫਟਵੇਅਰ
iii. ਸਮਵਰਤੀ ਸੂਚੀ	3. ਬੈਕਿੰਗ
iv. ਬਾਕੀ ਬਚੇ ਵਿਸ਼ੇ	4. ਸਿਖਿਆ

ਵਿਕਲਪ :

- (a) i - 3, ii - 1, iii - 4, iv - 2 (b) i - 4, ii - 3, iii - 2, iv - 1
(c) i - 2, ii - 4, iii - 3, iv - 1 (d) i - 1, ii - 2, iii - 3, iv - 4

11. ਹੇਠ ਲਿਖੇ ਖੇਤਰਾਂ ਵਿੱਚੋਂ ਕਿਸ ਵਿੱਚ ਸਾਰਵਜਨਿਕ ਜੀਵਨ ਵਿੱਚ ਇਸਤ੍ਰੀਆਂ ਦੀ ਹਿੱਸੇਦਾਰੀ ਸਭ ਤੋਂ ਵੱਧ ਹੈ ?

- (a) ਨੌਰਡਿਕ ਦੇਸ਼ (b) ਅਰਬ ਰਾਜ
(c) ਯੂਰੋਪੀ ਦੇਸ਼ (d) ਏਸ਼ਿਆਈ ਦੇਸ਼

12. ਹੇਠ ਲਿੱਖੇ ਰਾਜਾਂ ਵਿੱਚੋਂ ਕਿਹੜਾ ਖੇਤਰੀ ਦਲ ਰਾਹੀਂ ਸ਼ਾਸ਼ਿਤ ਹੈ ?

- (a) ਹਰਿਆਣਾ (b) ਮੱਧ ਪ੍ਰਦੇਸ਼
(c) ਐਂਡਿਸਾ (d) ਰਾਜਸਥਾਨ

13. ਹੇਠ ਲਿੱਖੇ ਦੇਸ਼ਾਂ ਵਿੱਚੋਂ ਕਿਸ ਬਹੁਦਲੀ ਵਿਵਸਥਾ ਨੂੰ ਅਪਣਾਇਆ ਹੈ ?

- (a) ਸੰਯੁਕਤ ਰਾਜ ਅਮੇਰਿਕਾ (b) ਭਾਰਤ
(c) ਚੀਨ (d) ਯੂਨਾਈਟਿਡ ਕਿੰਗਡਮ

14. ਖਾਲੀ ਥਾਂ ਭਰਨ ਦੇ ਲਈ ਸਹੀ ਵਿਕਲਪ ਚੁਣੋ ।

ਵਿਸ਼ਵ ਬੈਂਕ ਰਾਹੀਂ ਦੇਸ਼ਾਂ ਦੀ ਤੁਲਨਾ ਕਰਨ ਦੇ ਲਈ ਉਨ੍ਹਾਂ ਦੀ _____ ਨੂੰ ਸਭ ਤੋਂ ਮਹੱਤਵਪੂਰਨ ਨਵੇਕਲਾਪਨ ਸਮਝਿਆ ਜਾਂਦਾ ਹੈ ।

- (a) ਸਿੱਖਿਆ (b) ਆਮਦਨ
(c) ਸਿਹਤ ਦਾ ਮਿਆਰ (d) ਜੀਵਨ ਦਾ ਮਿਆਰ



15. ਦਿੱਤੀ ਗਈ ਸਾਰਣੀ ਨੂੰ ਧਿਆਨ ਨਾਲ ਦੇਖੋ ਅਤੇ ਉਸਦੇ ਹੇਠ ਦਿੱਤੇ ਗਏ ਪ੍ਰਸ਼ਨ ਦਾ ਉੱਤਰ ਦਿਓ :

ਸਾਲ 2019 ਲਈ ਭਾਰਤ ਅਤੇ ਉਸਦੇ ਗੁਆਂਢੀ ਦੇਸ਼ਾਂ ਦੇ ਅੰਕੜੇ

ਦੇਸ਼	ਸਕਲ ਰਾਸ਼ਟਰੀ ਆਮਦਨ (GNI) ਪ੍ਰਤੀ ਵਿਅਕਤੀ ਅਮਰੀਕੀ ਡਾਲਰ ਵਿਚ (2011 ਖਰੀਦਨ ਦੀ ਸਮਰੱਥਾ)	ਜਨਮ ਦੇ ਸਮੇਂ ਸੰਭਾਵੀ ਉਮਰ	ਸਕੂਲੀ ਔਸਤ ਉਮਰ 25 ਸਾਲ ਜਾਂ ਉਸ ਤੋਂ ਵੱਧ	ਸੰਸਾਰ ਵਿੱਚ ਮਨੁੱਖੀ ਵਿਕਾਸ ਦਾ ਸੂਚਕ ਅੰਕ (HDI) ਦਾ ਕ੍ਰਮ ਅੰਕ (2018)
ਸ਼੍ਰੀ ਲੰਕਾ	12,707	77	10.6	73
ਭਾਰਤ	6,681	69.7	6.5	130
ਮਯਾਂਮਾਰ	4,961	67.1	5.0	148
ਪਾਕਿਸਤਾਨ	5,005	67.3	5.2	154
ਨੇਪਾਲ	3,457	70.8	5.0	143
ਬੰਗਲਾਦੇਸ਼	4,976	72.6	6.2	134

ਹੇਠ ਲਿਖੇ ਦੇਸ਼ਾਂ ਵਿੱਚੋਂ ਕਿਸ ਦਾ 'ਮਨੁੱਖੀ ਵਿਕਾਸ ਸੂਚਕ ਅੰਕ (HDI)' ਦਾ ਸਤਰ ਸਭ ਤੋਂ ਅਧਿਕ ਹੈ ?

- (a) ਭਾਰਤ (b) ਬੰਗਲਾਦੇਸ਼
(c) ਸ਼੍ਰੀ ਲੰਕਾ (d) ਨੇਪਾਲ
16. ਕੁਦਰਤੀ ਉਤਪਾਦਾਂ ਨੂੰ ਹੋਰ ਰੂਪਾਂ ਵਿਚ ਬਦਲਣ ਨੂੰ ਕਿਹਾ ਜਾਂਦਾ ਹੈ :
- (a) ਮੁਢਲਾ (ਪ੍ਰਾਥਮਿਕ) ਉਤਪਾਦ
(b) ਦ੍ਰਿਤੀਅਕ ਉਤਪਾਦ
(c) ਤ੍ਰਿਤੀਅਕ ਉਤਪਾਦ
(d) ਚਤੁਰਥਕ ਉਤਪਾਦ
17. ਹੇਠ ਲਿਖਿਆਂ ਵਿੱਚੋਂ ਕਿਹੜੀ ਅਸੰਗਠਿਤ ਖੇਤਰਕ ਦੀ ਇਕ ਵਿਸ਼ੇਸ਼ਤਾ ਹੈ ?
- (a) ਰੁਜ਼ਗਾਰ ਦੀ ਅਵਧੀ ਨਿਯਮਿਤ ਹੁੰਦੀ ਹੈ ।
(b) ਲੋਕਾਂ ਦੇ ਕੋਲ ਸੁਨਿਸ਼ਚਿਤ ਕੰਮ ਹੁੰਦਾ ਹੈ ।
(c) ਉਨ੍ਹਾਂ ਦੀ ਕੁਝ ਉਪਚਾਰਿਕ ਪ੍ਰਕਿਰਿਆ ਅਤੇ ਕਾਰਜਵਿਧੀ ਹੈ ।
(d) ਨਿਯਮ ਅਤੇ ਅਧਿਨਿਯਮ ਹੁੰਦੇ ਹਨ ਪਰ ਉਨ੍ਹਾਂ ਦਾ ਪਾਲਨ ਨਹੀਂ ਹੁੰਦਾ ਹੈ ।



18. ਹੇਠ ਲਿਖਿਆਂ ਵਿਚੋਂ ਕਿਹੜੀ ਆਧੁਨਿਕ ਰੂਪ ਦੀ ਕਰੋਮੀ ਹੈ ?
- (a) ਕਾਗਜ਼ ਦੇ ਨੋਟ (b) ਸੋਨੇ ਦੇ ਸਿੱਕੇ
(c) ਚਾਂਦੀ ਦੇ ਸਿੱਕੇ (d) ਤਾਂਬੇ ਦੇ ਸਿੱਕੇ
19. ਹੇਠ ਲਿਖੇ ਸ਼ਹਿਰੀ ਪਰਿਵਾਰਾਂ ਦਾ ਕਿਹੜਾ ਵਰਗ ਉਪਚਾਰਿਕ ਖੇਤਰਕ ਤੋਂ ਉਧਾਰ ਦਾ ਸਭ ਤੋਂ ਜ਼ਿਆਦਾ ਪ੍ਰਤਿਸ਼ਤ ਪ੍ਰਾਪਤ ਕਰਦਾ ਹੈ ?
- (a) ਗਰੀਬ ਪਰਿਵਾਰ
(b) ਬੋੜੀ ਜਾਇਦਾਦ ਵਾਲੇ ਪਰਿਵਾਰ
(c) ਸਮਰਿਧ ਪਰਿਵਾਰ
(d) ਅਮੀਰ ਪਰਿਵਾਰ
20. ਹੇਠ ਲਿਖਿਆਂ ਵਿਚੋਂ ਕਿਹੜੀ ਵਿਸ਼ਵੀਕਰਨ ਦੀ ਇੱਕ ਚੁਣੌਤੀ ਹੈ ?
- (a) ਨਵੇਂ ਬਾਜ਼ਾਰਾਂ ਤੱਕ ਪਹੁੰਚ
(b) ਨਵੀਂ ਪ੍ਰਤਿਭਾ ਤੱਕ ਪਹੁੰਚ
(c) ਅੰਤਰਰਾਸ਼ਟਰੀ ਭਰਤੀ
(d) ਅਨੁਪਾਤਹੀਨ ਵਾਧਾ

ਖੰਡ B

(ਬਹੁਤ ਛੋਟੇ ਉੱਤਰ ਵਾਲੇ ਪ੍ਰਸ਼ਨ)

(4×2=8)

21. (a) ਇਟਲੀ ਦੇ ਪ੍ਰਦੇਸ਼ਾਂ ਨੂੰ ਇਕਠਿਆਂ ਕਰਨ ਵਾਲੇ ਅੰਦੋਲਨ ਦੀ ਅਗਵਾਈ ਕਰਨ ਵਾਲੇ ਮੁਖ ਮੰਤਰੀ ਕਾਵੂਰ ਦੀ ਭੂਮਿਕਾ ਦਾ ਵਿਸ਼ਲੇਸ਼ਣ ਕਰੋ । 2
- ਜਾਂ
- (b) ਉਨ੍ਹੀਵੀਂ ਸਦੀ ਦੇ ਦੌਰਾਨ ਯੂਰੋਪ ਵਿਚ ਉਦਾਰਵਾਦੀ ਰਾਸ਼ਟਰਵਾਦ ਦੇ ਵਿਚਾਰਾਂ ਦੀ ਪਰਖ ਕਰੋ । 2
22. ਭਾਰਤ ਵਿਚ ਜੰਗਲੀ ਜੀਵਾਂ ਦੇ ਸੁਰਖਿਅਣ ਦੇ ਲਈ ਕੋਈ ਦੋ ਉਪਾਵ ਸੁਝਾਓ ? 2×1=2
23. 1956 ਵਿਚ ਸ਼੍ਰੀ ਲੰਕਾਈ ਤਮਿਲਾਂ ਦੀ ਨਰਾਜ਼ਗੀ ਕਿਉਂ ਵਧ ਗਈ ? ਸਪਸ਼ਟ ਕਰੋ । 2
24. “ਉਧਾਰ ਕਰਜ਼ਦਾਰ ਨੂੰ ਅਜੇਹੀ ਹਾਲਤ ਵਿਚ ਧੱਕ ਦਿੱਤਾ ਹੈ, ਜਿਥੋਂ ਬਾਹਰ ਨਿਕਲਣਾ ਬਹੁਤ ਤਕਲੀਫ਼ਦੇਹ ਹੈ ।” ਇਸ ਕਥਨ ਦੀ ਪਰਖ ਕਰੋ । 2



ਖੰਡ C
(ਛੋਟੇ ਉੱਤਰ ਵਾਲੇ ਪ੍ਰਸ਼ਨ)

(5×3=15)

25. (a) ਯੂਰੋਪ ਵਿਚ ਛਾਪਾ ਖਾਨਾ ਕਿਵੇਂ ਹੋਂਦ ਵਿਚ ਆਇਆ ? ਵਿਆਖਿਆ ਕਰੋ । 3
ਜਾਂ
(b) ਕਿਤਾਬਾਂ ਤਕ ਪਹੁੰਚ ਅਸਾਨ ਹੋਣ ਨਾਲ ਇਸ ਤਰ੍ਹਾਂ ਪੜ੍ਹਨ ਦਾ ਨਵਾਂ ਸਭਿਆਚਾਰ ਵਿਕਸਿਤ ਹੋਇਆ ? ਵਿਆਖਿਆ ਕਰੋ । 3
26. “ਉਰਜਾ ਸਾਰੀਆਂ ਗਤੀਵਿਧੀਆਂ ਦੇ ਲਈ ਜ਼ਰੂਰੀ ਹੈ ।” ਇਸ ਕਥਨ ਦੀ ਉਦਾਹਰਣਾ ਦੇ ਕੇ ਵਿਆਖਿਆ ਕਰੋ । 3
27. ਭਾਰਤ ਵਿਚ ਇਸਤ੍ਰੀਆਂ ਦੀ ਸਾਖਰਤਾ ਦਰ ਨੂੰ ਵਧਾਉਣ ਦੇ ਤਿੰਨ ਉਪਾਅ ਸੁਝਾਉ । 3×1=3
28. ਪ੍ਰਾਥਮਿਕ ਅਤੇ ਦ੍ਰਿਤੀਅਕ ਖੇਤਰਕ ਵਿਚ ਉਦਾਹਰਣ ਦੇ ਕੇ ਅੰਤਰ ਸਪਸ਼ਟ ਕਰੋ । 3
29. ਭਾਰਤ ਵਿਚ ਤ੍ਰਿਤੀਅਕ ਖੇਤਰਕ ਦੀ ਵਧਦੀ ਮਹੱਤਤਾ ਦੀ ਪਰਖ ਕਰੋ । 3

ਖੰਡ D
(ਲੰਬੇ ਉੱਤਰ ਵਾਲੇ ਪ੍ਰਸ਼ਨ)

(4×5=20)

30. (a) ਸਵਿਨਅ ਅਵੱਗਿਆ ਅੰਦੋਲਨ ਵਿੱਚ ਵਪਾਰੀ ਵਰਗ ਦੀ ਭੂਮਿਕਾ ਦਾ ਵਿਸ਼ਲੇਸ਼ਣ ਕਰੋ । 5
ਜਾਂ
(b) ਸਵਿਨਅ ਅਵੱਗਿਆ ਅੰਦੋਲਨ ਵਿਚ ਇਸਤ੍ਰੀਆਂ ਦੀ ਭੂਮਿਕਾ ਦਾ ਵਿਸ਼ਲੇਸ਼ਣ ਕਰੋ । 5
31. (a) ਭਾਰਤ ਵਿੱਚ ਪ੍ਰਿਮੀਟਿਵ (ਮੁੱਢਲਾ) ਜੀਵਿਕਾ ਨਿਰਵਾਹ ਅਤੇ ਵਪਾਰਕ ਖੇਤੀਬਾੜੀ ਦੀਆਂ ਵਿਸ਼ੇਸ਼ਤਾਵਾਂ ਦੀ ਵਿਆਖਿਆ ਕਰੋ । 2+3=5
ਜਾਂ
(b) ਭਾਰਤ ਵਿੱਚ ਸੰਘਣੀ ਜੀਵਿਕਾ ਅਤੇ ਰੋਪਣ ਖੇਤੀਬਾੜੀ ਦੀਆਂ ਵਿਸ਼ੇਸ਼ਤਾਵਾਂ ਦੀ ਵਿਆਖਿਆ ਕਰੋ । 2+3=5



32. (a) ਉਨ੍ਹਾਂ ਹਾਲਾਤਾਂ ਦਾ ਵਿਸ਼ਲੇਸ਼ਣ ਕਰੋ ਜਿਨ੍ਹਾਂ ਵਿੱਚ ਲੋਕਤੰਤਰੀ ਸ਼ਾਸਨ ਵਿਅਵਸਥਾਵਾਂ ਸਾਮਾਜਿਕ ਵਖੇਵਿਆਂ ਵਿਚ ਤਾਲਮੇਲ ਸਥਾਪਿਤ ਕਰਦੀਆਂ ਹਨ । 5

ਜਾਂ

- (b) ਉਨ੍ਹਾਂ ਹਾਲਾਤਾਂ ਦਾ ਵਿਸ਼ਲੇਸ਼ਣ ਕਰੋ ਜਿਨ੍ਹਾਂ ਵਿੱਚ ਲੋਕਤੰਤਰੀ ਸ਼ਾਸਨ ਵਿਅਵਸਥਾਵਾਂ ਨਾਗਰਿਕਾਂ ਦੀ ਵਕਾਰ ਅਤੇ ਆਜ਼ਾਦੀ ਨੂੰ ਅਗਾਹਾਂ ਵਧਾਉਂਦੇ ਹਨ । 5
33. (a) ਬਹੁਰਾਸ਼ਟਰੀ ਕੰਪਨੀਆਂ ਸੰਸਾਰਭਰ ਦੇ ਉਤਪਾਦਨ ਨੂੰ ਇਕ ਦੂਸਰੇ ਨਾਲ ਜੋੜਦੇ ਹਨ ? ਉਦਾਹਰਣ ਸਹਿਤ ਸਪਸ਼ਟ ਕਰੋ । 5

ਜਾਂ

- (b) ਵਿਦੇਸ਼ੀ ਨਿਵੇਸ਼ ਨੂੰ ਆਪਣੇ ਵਲ ਖਿੱਚਣ ਦੇ ਲਈ ਕੇਂਦਰ ਅਤੇ ਰਾਜ-ਸਰਕਾਰਾਂ ਰਾਹੀਂ ਕੀਤੇ ਗਏ ਕਿਸੇ ਪੰਜ ਉਪਾਵਾਂ ਦੀ ਵਿਆਖਿਆ ਕਰੋ । $5 \times 1 = 5$

ਖੰਡ E

(ਸਰੋਤ/ਕਿਸ ਅਧਾਰਿਤ ਪ੍ਰਸ਼ਨ)

($3 \times 4 = 12$)

34. ਹੇਠ ਦਿੱਤੇ ਗਏ ਸਰੋਤ ਨੂੰ ਧਿਆਨ ਨਾਲ ਪੜ੍ਹੋ ਅਤੇ ਉਸ ਹੇਠ ਲਿਖੇ ਪ੍ਰਸ਼ਨਾਂ ਦੇ ਉੱਤਰ ਲਿਖੋ :

ਪਹਿਲੇ ਵਿਸ਼ਵ ਯੁੱਧ ਤਕ ਉਦਯੋਗਿਕ ਵਿਕਾਸ ਬਹੁਤ ਘੱਟ ਰਿਹਾ । ਯੁੱਧ ਨੇ ਇਕ ਬਿਲਕੁਲ ਨਵੀਂ ਹਾਲਤ ਪੈਦਾ ਕਰ ਦਿੱਤੀ ਸੀ । ਬ੍ਰਿਟਿਸ਼ ਕਾਰਖਾਨੇ ਸੈਨਾਂ ਦੀ ਜਰੂਰਤਾਂ ਨੂੰ ਪੂਰਾ ਕਰਨ ਦੇ ਲਈ ਯੁੱਧ ਸੰਬੰਧੀ ਉਤਪਾਦਨ ਵਿੱਚ ਰੁੱਝੇ ਹੋਏ ਸਨ, ਇਸ ਲਈ ਭਾਰਤ ਵਿੱਚ ਮੈਨਚੈਸਟਰ ਦੇ ਮਾਲ ਦਾ ਆਯਾਤ ਘੱਟ ਹੋ ਗਿਆ । ਭਾਰਤੀ ਬਜ਼ਾਰਾਂ ਨੂੰ ਰਾਤੋ ਰਾਤ ਇੱਕ ਬਹੁਤ ਵੱਡਾ ਸਵਦੇਸ਼ੀ ਬਜ਼ਾਰ ਮਿਲ ਗਿਆ । ਯੁੱਧ ਲੰਬਾ ਚਲਿਆ ਤਾਂ ਭਾਰਤੀ ਕਾਰਖਾਨਿਆਂ ਵਿੱਚ ਵੀ ਫੌਜ ਦੇ ਲਈ ਜੂਟ ਦੀਆਂ ਬੋਰੀਆਂ, ਫੌਜੀਆਂ ਦੇ ਲਈ ਵਰਦੀ ਦੇ ਕਪੜੇ, ਟੈਂਟ ਅਤੇ ਚਮੜੇ ਦੀਆਂ ਜੁੱਤੀਆਂ (ਬੂਟ) ਘੋੜੇ ਅਤੇ ਖੱਚਰਾਂ ਦੀਆਂ ਕਾਠੀਆਂ ਅਤੇ ਬਹੁਤ ਸਾਰੇ ਹੋਰ ਸਮਾਨ ਬਣਨ ਲੱਗੇ । ਨਵੇਂ ਕਾਰਖਾਨੇ ਲਗਾਏ ਗਏ । ਪੁਰਾਨੇ ਕਾਰਖਾਨੇ ਕਈ ਸ਼ਿਫਟਾਂ ਵਿੱਚ ਚੱਲਣ ਲੱਗੇ । ਬਹੁਤ ਸਾਰੇ ਨਵੇਂ ਮਜ਼ਦੂਰਾਂ ਨੂੰ ਕੰਮ ਤੇ ਲਗਾਇਆ ਗਿਆ ਅਤੇ ਹਰ ਇਕ ਨੂੰ ਪਹਿਲੇ ਤੋਂ ਜ਼ਿਆਦਾ ਸਮਾਂ ਕੰਮ ਕਰਨਾ ਪੈਂਦਾ ਸੀ । ਯੁੱਧ ਦੇ ਦੌਰਾਨ ਉਦਯੋਗਿਕ ਉਤਪਾਦਨ ਤੇਜ਼ੀ ਨਾਲ ਵੱਧਿਆ ।



ਯੁੱਧ ਤੋਂ ਪਿੱਛੋਂ ਭਾਰਤੀ ਬਾਜ਼ਾਰ ਵਿਚ ਮੈਨਚੈਸਟਰ ਨੂੰ ਪਹਿਲੇ ਵਾਲੀ ਹੈਸੀਅਤ ਕਦੇ ਵੀ ਹਾਸਲ ਨਹੀਂ ਹੋ ਸਕੀ । ਯੁੱਧ ਤੋਂ ਪਿੱਛੋਂ ਆਧੁਨਿਕੀਕਰਣ ਨਾ ਕਰ ਸੱਕਣ ਅਤੇ ਅਮੇਰੀਕਾ ਜਰਮਨੀ ਅਤੇ ਜਾਪਾਨ ਦੇ ਮੁਕਾਬਲੇ ਕਮਜ਼ੋਰ ਪੈ ਜਾਣ ਕਰਕੇ ਬ੍ਰਿਟੇਨ ਦੀ ਅਰਥਵਿਵਸਥਾ ਕਮਜ਼ੋਰ ਪੈ ਗਈ । ਕਪਾਹ ਦਾ ਉਤਪਾਦਨ ਬਹੁਤ ਘੱਟ ਗਿਆ ਸੀ ਅਤੇ ਬ੍ਰਿਟੇਨ ਤੋਂ ਹੋਣ ਵਾਲੇ ਸੂਤੀ ਕੱਪੜੇ ਦੀ ਨਿਰਯਾਤ ਵਿੱਚ ਬਹੁਤ ਗਿਰਾਵਟ ਆਈ । ਬਸਤੀਆਂ ਵਿੱਚੋਂ ਵਿਦੇਸ਼ੀ ਉਤਪਾਦਾਂ ਨੂੰ ਹਟਾ ਕੇ ਸਥਾਨਕ ਉਦਿਓਗਪਤੀਆਂ ਨੇ ਘਰੇਲੂ ਬਾਜ਼ਾਰਾਂ ਤੇ ਕਬਜ਼ਾ ਕਰ ਲਿਆ ਅਤੇ ਹੌਲੀ-ਹੌਲੀ ਅਪਣੀ ਸਥਿਤੀ ਮਜ਼ਬੂਤ ਬਣਾ ਲਈ ।

- (34.1) ਭਾਰਤ ਵਿੱਚ ਮੈਨਚੈਸਟਰ ਦੇ ਸਾਮਾਨ ਦੀ ਆਯਾਤ ਘੱਟ ਕਿਉਂ ਹੋ ਗਈ ? 1
- (34.2) ਪਹਿਲੇ ਵਿਸ਼ਵ ਯੁੱਧ ਤੋਂ ਬਾਦ ਭਾਰਤੀ ਬਜ਼ਾਰਾਂ ਵਿੱਚ ਮੈਨਚੈਸਟਰ ਨੂੰ ਪਹਿਲੇ ਵਾਲੀ ਥਾਂ ਕਦੇ ਵੀ ਹਾਸਲ ਕਿਉਂ ਨਹੀਂ ਹੋ ਸਕੀ ? 1
- (34.3) ਪਹਿਲੇ ਵਿਸ਼ਵ ਯੁੱਧ ਤੋਂ ਭਾਰਤ ਨੂੰ ਹੋਣ ਵਾਲੇ ਕਿਸੇ ਦੋ ਲਾਭਾਂ ਦਾ ਵਿਸ਼ਲੇਸ਼ਣ ਕਰੋ । 2×1=2

35. ਹੇਠ ਦਿੱਤੇ ਗਏ ਸਰੋਤ ਨੂੰ ਧਿਆਨ ਨਾਲ ਪੜ੍ਹੋ ਤੇ ਉਸਦੇ ਹੇਠ ਲਿਖੇ ਪ੍ਰਸ਼ਨਾਂ ਦੇ ਉੱਤਰ ਦਿਓ :

ਨਦੀ ਪਰਿਯੋਜਨਾਵਾਂ ਦੇ ਬਾਰੇ ਉਠਾਏ ਗਏ ਜ਼ਿਆਦਾਤਰ ਸਵਾਲ ਉਨ੍ਹਾਂ ਦੇ ਉਦੇਸ਼ਾਂ ਦੇ ਅਸਫਲ ਹੋਣ ਜਾਣ ਤੇ ਹਨ । ਇਹ ਇੱਕ ਅਸਚਰਜ ਗਲ ਹੈ ਕਿ ਜਿਹੜੇ ਡੈਮ (ਬੰਧ) ਹੜਾਂ ਨੂੰ ਰੋਕਣ ਲਈ ਬਣਾਏ ਜਾਂਦੇ ਹਨ, ਉਹਨਾਂ ਦੇ ਸਰੋਤਾਂ ਦੇ ਉੱਤੇ ਪਪੜੀ ਜਮਾਂ ਹੋ ਜਾਣ ਕਰਕੇ ਹੜ੍ਹ ਆਉਣ ਦਾ ਕਾਰਨ ਬਣ ਜਾਂਦੇ ਹਨ । ਬਹੁਤ ਜ਼ਿਆਦਾ ਬਰਸਾਤ ਹੋਣ ਕਾਰਨ ਵੱਡੇ-ਵੱਡੇ ਡੈਮ ਵੀ ਹੜਾਂ ਨੂੰ ਰੋਕਣ ਵਿਚ ਅਸਫਲ ਹੋ ਜਾਂਦੇ ਹਨ । ਤੁਸੀਂ ਪੜ੍ਹਿਆ ਹੋਵੇਗਾ ਕਿ ਸਾਲ 2006 ਵਿੱਚ ਮਹਾਰਾਸ਼ਟਰ ਅਤੇ ਗੁਜਰਾਤ ਵਿਚ ਭਾਰੀ ਬਾਰਿਸ਼ ਦੇ ਦੌਰਾਨ ਬਹੁਤ ਦੇ ਵਿੱਚੋਂ ਛੋੜੇ ਗਏ ਪਾਣੀ ਦੇ ਕਾਰਣ ਹੜਾਂ ਦੀ ਸਥਿਤਿ ਹੋਰ ਵੀ ਭਿਆਨਕ ਹੋ ਗਈ । ਇਨ੍ਹਾਂ ਹੜਾਂ ਦੇ ਕਾਰਣ ਨਾ ਸਿਰਫ ਜਾਨ ਅਤੇ ਮਾਲ ਦਾ ਨੁਕਸਾਨ ਹੋਇਆ ਬਲਕਿ ਬਹੁਤ ਵੱਡੇ ਪੈਮਾਨੇ ਤੇ ਮਿੱਟੀ ਦਾ ਕਟਾਵ ਵੀ ਹੋਇਆ । ਬੰਧ (ਡੈਮ) ਦੇ ਸਰੋਤ ਉਪਰ ਕਾਈ ਜਮਾਂ ਹੋਣ ਦਾ ਅਰਥ ਇਹ ਵੀ ਹੈ ਕਿ ਉਹ ਪਰਤ ਜਿਹੜੀ ਇਕ ਕੁਦਰਤੀ ਖਾਦ ਹੈ, ਹੜ੍ਹ ਦੇ ਮੈਦਾਨ ਤਕ ਨਹੀਂ ਪਹੁੰਚਦੀ ਜਿਸਦੇ ਕਾਰਣ ਧਰਤੀ ਦੀ ਨਿਮਨੀਕਰਣ ਦੀ ਸਮੱਸਿਆ ਵਧਦੀ ਹੈ । ਇਹ ਵੀ ਮੰਨਿਆ ਜਾਂਦਾ ਹੈ ਕਿ ਬਹੁਉਦੇਸ਼ੀ ਯੋਜਨਾਵਾਂ ਦੇ ਕਾਰਣ ਭੁਚਾਲ ਆਉਣ ਦੀ ਸੰਭਾਵਨਾ ਵੀ ਵਧ ਜਾਂਦੀ ਹੈ ਅਤੇ ਪਾਣੀ ਦੀ ਬਹੁਤ ਜ਼ਿਆਦਾ ਵਰਤੋਂ ਦੇ ਕਾਰਣ ਪਾਣੀ ਨਾਲ ਪੈਦਾ ਹੋਣ ਵਾਲੀਆਂ ਬਿਮਾਰੀਆਂ, ਫਸਲਾਂ ਵਿਚ ਕਿਟਾਣੂਆਂ ਨਾਲ ਪੈਦਾ ਹੋਈਆਂ ਬਿਮਾਰੀਆਂ ਅਤੇ ਪ੍ਰਦੂਸ਼ਣ ਫੈਲਦੇ ਹਨ ।



- (35.1) ਗੁਜਰਾਤ ਵਿੱਚ ਨਦੀ ਪਰਿਯੋਜਨਾਂ ਦੇ ਵਿਰੁੱਧ ਅੰਦੋਲਨ ਦਾ ਨਾਂ ਲਿਖੋ । 1
- (35.2) ਬਹੁਤ ਜ਼ਿਆਦਾ ਬਰਸਾਤ ਹੋਣ ਦੀ ਹਾਲਤ ਵਿਚ ਵੱਡੇ ਬੰਧ (ਡੈਮ) ਹੜ੍ਹਾਂ ਤੇ ਕਾਬੂ ਪਾਉਣ ਵਿਚ ਅਸਫਲ ਕਿਵੇਂ ਰਹਿੰਦੇ ਹਨ ? 1
- (35.3) ਬਹੁਉਦੇਸ਼ੀ ਨਦੀ ਪਰਿਯੋਜਨਾਵਾਂ ਦੇ ਕਿਸੇ ਦੋ ਲਾਭਾਂ ਦਾ ਵਿਸ਼ਲੇਸ਼ਣ ਕਰੋ ? $2 \times 1 = 2$

36. ਹੇਠ ਦਿੱਤੇ ਗਏ ਸਰੋਤ ਨੂੰ ਧਿਆਨ ਨਾਲ ਪੜ੍ਹੋ ਤੇ ਉਸਦੇ ਹੇਠ ਲਿਖੇ ਪ੍ਰਸ਼ਨਾਂ ਦੇ ਉੱਤਰ ਦਿਓ :

ਰਾਜਨੀਤਿਕ ਦਲਾਂ ਦਾ ਜਨਮ ਪ੍ਰਤਿਨਿਧਤਾ ਉਪਰ ਅਧਾਰਿਤ ਲੋਕਤੰਤਰੀ ਵਿਵਸਥਾ ਦੇ ਉਭਾਰ ਦੇ ਨਾਲ ਜੁੜਿਆ ਹੈ । ਅਸੀਂ ਪੜ੍ਹ ਚੁਕੇ ਹਾਂ ਕਿ ਵੱਡੇ ਸਮਾਜਾਂ ਦੇ ਲਈ ਪ੍ਰਤਿਨਿਧਤਾ ਅਧਾਰਿਤ ਲੋਕਤੰਤਰ ਦੀ ਜ਼ਰੂਰਤ ਹੁੰਦੀ ਹੈ । ਜਦੋਂ ਸਮਾਜ ਵੱਡੇ ਅਤੇ ਮੁਸ਼ਕਿਲ (ਜਟਿਲ) ਹੋ ਜਾਂਦੇ ਹਨ ਤਾਂ ਉਨ੍ਹਾਂ ਨੂੰ ਵੱਖੋ ਵੱਖ ਮੁੱਦਿਆਂ ਉਪਰ ਵੱਖੋ ਵੱਖ ਵਿਚਾਰਾਂ ਨੂੰ ਸਮੇਟਨ ਅਤੇ ਸਰਕਾਰ ਦੀ ਨਜ਼ਰ ਵਿੱਚ ਲਿਆਉਣ ਦੇ ਲਈ ਕਿਸੇ ਮਾਧਿਅਮ ਜਾਂ ਏਜੈਂਸੀ ਦੀ ਜ਼ਰੂਰਤ ਹੁੰਦੀ ਹੈ । ਵੱਖੋ ਵੱਖ ਥਾਵਾਂ ਤੋਂ ਆਏ ਪ੍ਰਤਿਨਿਧੀਆਂ ਨੂੰ ਇਕੱਠੇ ਕਰਨ ਦੀ ਜ਼ਰੂਰਤ ਹੁੰਦੀ ਹੈ ਤਾਕਿ ਇੱਕ ਜਿੰਮੇਵਾਰ ਸਰਕਾਰ ਬਣਾਈ ਜਾ ਸਕੇ । ਉਨ੍ਹਾਂ ਨੂੰ ਸਰਕਾਰ ਦਾ ਸਮਰਥਨ ਕਰਨ ਜਾਂ ਉਸ ਉਪਰ ਕਾਬੂ ਰੱਖਣ, ਨੀਤੀਆਂ ਬਨਵਾਉਣੀਆਂ ਅਤੇ ਨੀਤੀਆਂ ਦਾ ਸਮਰਥਣ ਕਰਨਾ ਜਾਂ ਵਿਰੋਧ ਕਰਨ ਦੇ ਲਈ ਉਪਕਰਣਾਂ ਦੀ ਲੋੜ ਹੁੰਦੀ ਹੈ । ਹਰ ਇਕ ਪ੍ਰਤਿਨਿਧੀ-ਸਰਕਾਰ ਦੀਆਂ ਜੋ ਵੀ ਜ਼ਰੂਰਤਾਂ ਹੁੰਦੀਆਂ ਹਨ, ਰਾਜਨੀਤਿਕ ਦਲ ਉਨ੍ਹਾਂ ਨੂੰ ਪੂਰਾ ਕਰਦੇ ਹਨ । ਇਸ ਤਰ੍ਹਾਂ ਅਸੀਂ ਕਹਿ ਸਕਦੇ ਹਾਂ ਕਿ ਰਾਜਨੀਤਿਕ ਦਲ ਲੋਕਤੰਤਰ ਦੀ ਇੱਕ ਜ਼ਰੂਰੀ ਸ਼ਰਤ ਹਨ ।

- (36.1) ‘ਰਾਜਨੀਤਿਕ ਦਲ’ ਦੇ ਅਰਥ ਨੂੰ ਸਪਸ਼ਟ ਕਰੋ । 1
- (36.2) “ਰਾਜਨੀਤਿਕ ਦਲਾਂ ਦਾ ਜਨਮ ਪ੍ਰਤਿਨਿਧਤਾ ਉਪਰ ਅਧਾਰਿਤ ਲੋਕਤੰਤਰੀ ਵਿਵਸਥਾ ਦੇ ਉਭਾਰ ਨਾਲ ਜੁੜਿਆ ਹੋਇਆ ਹੈ ।” ਇਸ ਕਥਨ ਦੀ ਪੁਸ਼ਟੀ ਕਰੋ । 1
- (36.3) ਰਾਜਨੀਤਿਕ ਦਲ ਲੋਕਤੰਤਰ ਦੀ ਕਿਉਂ ਇੱਕ ਜ਼ਰੂਰੀ ਸ਼ਰਤ ਹੈ ? ਸਪਸ਼ਟ ਕਰੋ । 2



ਖੰਡ F
(ਮਾਨਚਿੱਤਰ ਅਧਾਰਿਤ ਪ੍ਰਸ਼ਨ)

(2+3=5)

37. (a) **ਭਾਰਤ** ਦੇ ਦਿੱਤੇ ਗਏ ਰਾਜਨੀਤਕ ਰੇਖਾ ਮਾਨਚਿੱਤਰ (ਪੰਨਾ 15 ਤੇ) ਉਪਰ ਦੋ ਸਥਾਨ A ਅਤੇ B ਦੇ ਰੂਪ ਵਿਚ ਦਰਸਾਏ ਗਏ ਹਨ । ਹੇਠ ਲਿਖੀਆਂ ਜਾਣਕਾਰੀਆਂ ਦੀ ਸਹਾਇਤਾ ਨਾਲ ਉਨ੍ਹਾਂ ਦੇ ਸਹੀ ਨਾਮ ਉਨ੍ਹਾਂ ਦੇ ਨਜ਼ਦੀਕ ਖਿੱਚੀਆਂ ਗਈਆਂ ਰੇਖਾਵਾਂ ਉਪਰ ਲਿਖੋ ।
- (i) ਉਹ ਥਾਂ ਜਿੱਥੇ ਦਸੰਬਰ 1920 ਭਾਰਤ ਰਾਸ਼ਟਰੀ ਕਾਂਗਰਸ ਦਾ ਅਜਲਾਸ (ਸੈਸ਼ਨ) ਹੋਇਆ ਸੀ । 1
- (ii) ਉਹ ਥਾਂ ਜਿੱਥੇ ਜਲਿਆਂਵਾਲਾ ਬਾਗ ਦੀ ਘਟਨਾ ਹੋਈ । 1
- (b) **ਭਾਰਤ** ਦੇ ਇਸ ਰੇਖਾ ਮਾਨਚਿੱਤਰ ਵਿੱਚ ਹੇਠ ਲਿਖੀਆਂ ਵਿੱਚੋਂ ਕਿਸੇ **ਤਿੰਨ** ਨੂੰ ਢੁਕਵੇਂ ਚਿਨ੍ਹਾਂ ਨਾਲ ਦਰਸਾਓ ਅਤੇ ਉਨ੍ਹਾਂ ਦੇ ਨਾਮ ਲਿਖੋ । 3×1=3
- (i) ਨੋਬੇਡਾ – ਸਾਫਟਵੇਅਰ ਟੈਕਨੋਲੋਜੀ ਪਾਰਕ
- (ii) ਬੇਲਾਡਿਲਾ – ਲੋਹਾ-ਕੱਚੀ ਧਾਤ ਦੀਆਂ ਖਾਣਾਂ
- (iii) ਤਾਰਾਪੁਰ – ਪਰਮਾਣੂ ਊਰਜਾ ਦਾ ਕਾਰਖਾਨਾ
- (iv) ਹਲਦੀਆ – ਸਮੁੰਦਰੀ ਬੰਦਰਗਾਹ

ਨੋਟ: ਹੇਠ ਲਿਖੇ ਪ੍ਰਸ਼ਨ ਸਿਰਫ ਦਰਿਸ਼ਟੀਵਿਕਲਾਂਗ ਪ੍ਰੀਖਿਆਰਥੀਆਂ ਦੇ ਲਈ ਪ੍ਰਸ਼ਨ ਸੰਖਿਆ 37 ਦੇ ਥਾਂ ਬਦਲਵੇਂ ਪ੍ਰਸ਼ਨ ਹਨ ।

ਕਿਸੇ ਪੰਜ ਪ੍ਰਸ਼ਨਾਂ ਦੇ ਉੱਤਰ ਦਿਓ ।

5×1=5

- (37.1) ਉਸ ਥਾਂ ਦਾ ਨਾਂ ਲਿਖੋ ਜਿੱਥੇ ਦਸੰਬਰ 1920 ਵਿੱਚ ਭਾਰਤੀ ਰਾਸ਼ਟਰੀ ਕਾਂਗਰਸ ਦਾ ਅਜਲਾਸ ਹੋਇਆ ਸੀ ।
- (37.2) ਉਸ ਥਾਂ ਦਾ ਨਾਂ ਲਿਖੋ ਜਿੱਥੇ ਜਲਿਆਂਵਾਲੇ ਬਾਗ ਦੀ ਘਟਨਾ ਹੋਈ ਸੀ ।
- (37.3) ਭਾਰਤ ਦੇ ਕਾਫੀ ਦੇ ਕਿਸੇ ਇੱਕ ਪ੍ਰਮੁੱਖ ਉਤਪਾਦਕ ਰਾਜ ਦਾ ਨਾਂ ਲਿਖੋ ।
- (37.4) ਉਸ ਰਾਜ ਦਾ ਨਾਂ ਲਿਖੋ ਜਿੱਥੇ ਬੇਲਾਡਿਲਾ ਲੋਹਾ ਕੱਚੀ ਧਾਤ ਦੀਆਂ ਖਾਣਾਂ ਹਨ ।
- (37.5) ਉਸ ਰਾਜ ਦਾ ਨਾਂ ਲਿਖੋ ਜਿੱਥੇ ਤਾਰਾਪੁਰ ਪਰਮਾਣੂ ਊਰਜਾ ਪਲਾਂਟ (ਕਾਰਖਾਨਾ) ਸਥਿਤ ਹੈ ।
- (37.6) ਉਸ ਰਾਜ ਦਾ ਨਾਂ ਲਿਖੋ ਜਿੱਥੇ ਹਲਦੀਆ ਸਮੁੰਦਰੀ ਬੰਦਰਗਾਹ ਸਥਿਤ ਹੈ ।



ਪ੍ਰਸ਼ਨ ਸੰ. 37 ਦੇ ਲਈ



Series ZZYY1/4



SET-1

کیو۔ پی۔ کوڈ

48/4/1

Q. P. Code

رول نمبر

--	--	--	--	--	--	--	--

Roll No.

طالب علم کیو۔ پی۔ کوڈ کو جواب کا پی کے سرورق پر ضرور لکھیں
Candidates must write the Q.P. Code
on the title page of the answer-book.

سوشل سائنس

SOCIAL SCIENCE

(Urdu Version)

حاصل وقت : 3 گھنٹے

کل نمبر : 80

Time allowed : 3 hours

Maximum Marks : 80

- برائے مہربانی جانچ لیں کہ اس پرچہ سوالات میں 14 چھپے ہوئے صفحات اور ایک نقشہ ہیں۔
- پرچہ سوالات کے دائیں جانب دیئے ہوئے کیو۔ پی۔ کوڈ کو امیدوار جواب کی کاپی کے سرورق پر ضرور لکھیں۔
- برائے مہربانی جانچ لیں کہ اس پرچہ سوالات میں 37 سوال ہیں۔
- برائے مہربانی سوال کا سلسلہ نمبر، اپنی جواب کی کاپی میں، سوال کا جواب لکھنا شروع کرنے سے پہلے لکھیں۔
- اس پرچہ سوالات کو پڑھنے کے لیے 15 منٹ کا وقت دیا گیا ہے۔ پرچہ سوالات 10.15 بجے (صبح) تقسیم کیا جائے گا۔ 10.15 سے 10.30 بجے تک طالب علم صرف پرچہ سوالات پڑھیں گے اور اس دوران اپنی جواب کی کاپی میں کوئی جواب نہیں لکھیں گے۔

- Please check that this question paper contains 14 printed pages + ONE MAP.
- Q.P. Code given on the right hand side of the question paper should be written on the title page of the answer-book by the candidate.
- Please check that this question paper contains 37 questions.
- Please write down the Serial Number of the question in the answer-book before attempting it.
- 15 minute time has been allotted to read this question paper. The question paper will be distributed at 10. 15 a.m. From 10.15 a.m. to 10.30 a.m., the students will read the question paper only and will not write any answer on the answer-book during this period.

#

[P.T.O.]



1

48/4/1



عام ہدایات :

مندرجہ ذیل ہدایات کو بغور پڑھیں اور ان پر عمل کریں :

- (i) اس سوالنامے میں 37 سوال ہیں۔ تمام سوال کرنے لازمی ہیں۔
- (ii) سوالنامے میں 6 حصے 'A' 'B' 'C' 'D' 'E' اور 'F' ہیں۔
- (iii) حصہ A میں سوال نمبر 1 تا سوال نمبر 20 کثیر انتخابی سوالات ہیں۔ ہر ایک سوال 1 نمبر کا ہے۔
- (iv) حصہ B میں سوال نمبر 21 تا سوال نمبر 24 بہت چھوٹے جواب کے ہیں ہر ایک سوال 2 نمبر کا ہے۔ ہر سوال کا جواب 40 الفاظ سے زیادہ نہیں ہونا چاہئے۔
- (v) حصہ C میں سوال نمبر 25 تا سوال نمبر 29 چھوٹے جواب کے سوالات ہیں۔ ہر ایک سوال 3 نمبر کا ہے۔ ہر ایک سوال کا جواب 60 الفاظ سے زیادہ نہیں ہونا چاہئے۔
- (vi) حصہ D میں سوال نمبر 30 تا سوال نمبر 33 لمبے جواب کے سوالات ہیں۔ ہر ایک سوال 5 نمبر کا ہے۔ ہر ایک سوال کا جواب 120 الفاظ سے زیادہ نہیں ہونا چاہئے۔
- (vii) حصہ E میں سوال نمبر 34 تا 36 کیس پر مبنی سوالات ہیں ہر ایک سوال کے 3 ذیلی سوالات ہیں۔ ہر ایک سوال 4 نمبر کا ہے۔
- (viii) حصہ F میں سوال نمبر 37 نقشہ کا سوال 5 نمبر کا ہے۔ جس کے دو حصے ہیں۔ 37 (i) ہسٹری سے 2 نمبر کا ہے اور 37 (ii) جغرافیہ سے 3 نمبر کا ہے۔
- (ix) اس سوالنامے میں مجموعی طور پر کوئی انتخاب (Choice) نہیں ہے۔ حالانکہ کچھ سوالوں میں اندرونی انتخاب کرنے کا اختیار (Internal Choice) دیا گیا ہے۔ ان سوالوں میں سے صرف ایک سوال کا ہی جواب لکھنا ہے۔
- (x) اس کے علاوہ ہر ایک حصے میں اور ہر ایک سوال کے ساتھ جہاں ضروری ہے۔ ہدایات دی گئی ہیں۔





حصہ - A

(20×1=20)

(کثیر متبادل والے سوالات)

1 درج ذیل کوتا رہنچی ترتیب کے ساتھ ترتیب دیجئے اور صحیح جواب منتخب کیجئے۔ 1.

(I) نیپولین جنگ

(II) ویانہ معاہدہ

(III) آزادی کے لیے یونان کی جنگ

(IV) سلطنت اوٹومن میں سلاوا کی قوم پرستی

جواب :

(b) IV اور III 'II 'I

(a) IV اور I 'II 'III

(d) I اور III 'II 'IV

(c) I اور II 'III 'IV

1 کیلاش ہاشنی دیوی، تارا بانی ہنڈے اور پنڈت تارا مابائی کی کتابوں میں درج ذیل میں سے کون سا پہلو ایک جیسا ہے؟ 2.

(a) عوام کے لیے معاشی برابری کی مانگ کی

(b) عورتوں کے تجربات پر روشنی ڈالی

(c) کلچرل وراثت کے بارے میں بیدار کیا

(d) ہندوستانیوں کو ان کی قومی آزادی کے لیے ترغیب دی

1 تجارت کی لہر میں تین اہم ترقیات نے جدید دنیا سے قبل (Pre-modern) کی دنیا کو بہت چھوٹا کر دیا۔ 3.

درج ذیل متبادل جوابوں میں سے غلط جواب کو پہچان کر لکھئے۔

(a) تجارت کی لہر (The flow of trade)

(b) مزدوروں کی لہر (The flow of labour)

(c) سرمایہ کی لہر (The flow of capital)

(d) ٹکنالوجی کی لہر (The flow of technology)

1 درج ذیل میں سے کس نے اسٹیم انجن کو بہتر کیا؟ 4.

(b) تھامس ایڈیسن

(a) جیمس واٹ

(d) الکسینڈر فلیمنگ

(c) پیجا من فرینکلن





5. درج ذیل میں سے کون سی لوہے کی دھات کی مثال ہے۔

1

- (a) تانبہ
(b) جستہ
(c) باکسائٹ
(d) نکل

6. کالم-1 سے کالم-2 کا صحیح جوڑ ملائیے۔ اور صحیح جواب منتخب کیجئے۔

1

- | | |
|--------------------|-----------------|
| کالم-1 | کالم-2 |
| (ذرائع) | (مثال) |
| (I) نامیاتی | 1. کونکہ |
| (II) قابل تجدید | 2. جنگلی جانور |
| (III) ناقابل تجدید | 3. شمسی توانائی |
- جواب :

	I	II	III
(a)	1	3	2
(b)	3	2	1
(c)	2	3	1
(d)	1	2	3

7. درج ذیل میں سے کون سا صحیح جوڑا (ملان) ہے؟

1

- (a) اسوہی یا سیلابی مٹی - جس میں ریت اور سہلٹ ہوتی ہے۔
(b) کالی مٹی - جس میں نمک کی مقدار بہت زیادہ ہوتی ہے۔
(c) بنجر یا خشک مٹی - جس میں منتشر لوہے کا پھیلاؤ ہوتا ہے۔
(d) لیٹرائٹ مٹی - جو لاوا کی روانی سے بنی ہوتی ہے۔





8. درج ذیل میں سے انسانی ترقیاتی اشاریہ (Human Development Index) میں کس ملک کا بہتر مقام ہے؟
- (a) افغانستان (b) مینار
(c) ہندوستان (d) نیپال
9. درج ذیل میں سے ہندوستان کے کس سیکٹر (شعبہ) کی 'مجموعی ملکی پیداوار' (GDP) میں حصہ داری زیادہ ہے۔
- (a) ابتدائی شعبہ (b) ثانوی شعبہ
(c) ثالثی شعبہ (d) رابعی شعبہ
10. ہندوستانی حکومت نے 1991 میں تجارت کے اصولوں میں نرمی پیدا کیوں کی یا لبرلائز (Liberalize) کیوں کیا؟
- (a) حکومت غیر ملکی زرمبادلہ کو ہندوستانی زر کے برابر لانا چاہتی تھی۔
(b) حکومت مغربی ملکوں کے ساتھ اچھے تعلقات بنائے رکھنا چاہتی تھی۔
(c) حکومت چاہتی تھی کہ ہندوستانی پیدا کار پوری دنیا کے پیدا کاروں کے ساتھ مسابقت کریں۔
(d) حکومت چاہتی تھی کہ سبھی کو سماجی و معاشی انصاف ملے۔
11. انسانی ترقی سے متعلق درج ذیل بیانات کو پڑھیے اور صحیح جواب کا انتخاب کیجئے۔
- (I) یہ یونائیٹڈ نیشن ڈولپمنٹ پروگرام (UNDP) کے ذریعے تیار کیا گیا ایک ترتیب دیا گیا اشاریہ ہے (Composite Index)
- (II) اس کی پیمائش کے لیے لمبی عمر، خواندگی اور فی کس آمدنی کا معیار ہے۔
- (III) ترقی یافتہ اور کم ترقی پذیر ملکوں کے مطابق ملکوں کی رینٹنگ (Ranking) کی جاتی ہے۔
- (IV) عالمی بینک زندگی کی کوالٹی کی بنیاد پر انسانی ترقی کی رپورٹ تیار کرتے ہیں۔
- جواب :
- (a) I اور II (b) II اور III
(c) I اور III (d) II اور IV





1

12. درج ذیل مواد کو پڑھیے اور اس کے نیچے دیے گئے سوال کا جواب لکھئے۔

ہریانہ-کیرل اور بہار پر کچھ تقابلی مواد			
ریاست	بچوں کی شرح اموات ایک ہزار اشخاص پر	شرح خواندگی %	خالص حاضری تناسب یا فی صد
ہریانہ	30	82	61
کیرل	7	94	83
بہار	32	62	43

ہریانہ کا خالص غیر حاضری تناسب (فی صد) کتنا ہے؟ صحیح جواب منتخب کیجئے۔

(a) 39 (b) 27 (c) 38 (d) 18

1

13. درج ذیل میں سے فیکٹری میں کام کرنے والے مزدوروں کا کون سا ترقیاتی مقصد ہے؟

(a) بہتر مزدوری (بہتر اجرتیں)

(b) بہتر تکنیک

(c) کام کے زیادہ گھنٹے

(d) زیادہ محنت کا کام

1

14. درج ذیل میں سے کس جوڑے کا صحیح ملان ہے؟

(a) ابتدائی سیکٹر - پھول کی کھیتی کرنے والا

(b) ثانوی سیکٹر - دودھ نیچنے والا

(c) ثالثی سیکٹر - چھیرے

(d) مینوفیکچرنگ سیکٹر - مالی





15. تقسیم اختیارات (Power Sharing) سے متعلق درج ذیل بیانات پر غور کیجئے اور صحیح جواب منتخب کیجئے۔
- (I) اکثریت پسندی جمہوریت کی اصل روح ہے۔
 (II) یہ مختلف گروپوں میں توازن اور ہم آہنگی بناتا ہے۔
 (III) اس سے سماجی فرقوں کے درمیان تنازعات کے امکان کم ہوتے ہیں۔
 (IV) تقسیم اختیارات جمہوریت کا نچوڑ ہے۔

جواب :

- (a) I ، II اور III (b) II ، III اور IV
 (c) I ، III اور IV (d) I ، II اور IV

16. نیچے دئے گئے سوال میں دو بیانات دعویٰ (A) Assertion اور وجہ (R) Reason دیے گئے ہیں۔ انہیں پڑھئے۔ اور صحیح جواب منتخب کیجئے :

دعویٰ (A) Assertion : سری لنکا نے 'تمل' کو سرکاری زبان کی حیثیت سے تسلیم کیا
 وجہ (R) Reason : سری لنکا کی سرکار نے اکثریت کے تحت کئی اقدامات اٹھائے

جواب :

- (a) (A) اور (R) دونوں صحیح ہیں لیکن (R) صحیح وضاحت ہے (A) کی
 (b) (A) اور (R) دونوں صحیح ہیں۔ لیکن (R) صحیح وضاحت نہیں ہے (A) کی
 (c) (A) صحیح ہے لیکن (R) غلط ہے
 (d) (A) غلط ہے لیکن (R) صحیح ہے۔

17. کالم-A کا کالم-B سے جوڑ ملائیے۔ اور صحیح جواب منتخب کیجئے :

کالم-A (موضوع)	کالم-B (فہرست)
(I) بینک	1. مشترکہ فہرست
(II) زراعت	2. مرکزی فہرست
(III) تعلیم	3. صوبائی فہرست
(IV) کمپیوٹر	4. باقی ماندہ اختیارات

جواب :

- (a) I 4 3 2 IV
 (b) I 3 4 2 IV
 (c) I 2 3 4 IV
 (d) I 4 2 3 IV





18. 1 بکس میں دی گئی معلومات کی مدد سے ہندوستانی حکومت کی انتظامی سطح کو پہچانئے۔ اور صحیح جواب منتخب کیجئے۔

1.	مرکزی اور مقامی حکومتوں کے درمیان تقسیم اختیارات
2.	صوبائی حکومتوں کی مقامی حکومت کو انتظامیہ کے اختیارات اور مالیہ مدد کرنے کی ضرورت ہے۔
3.	اس کو تیسری سطح کی گورنٹ کہا جاتا ہے۔

جواب :

(a) آمرانہ (تانا شاہی) نظام (Dictatorial System)

(b) وحدانی وفاقی نظام (Unitary Federal System)

(c) لامرکزی نظام (Decentralized System)

(d) سامراجی نظام (Imperialistic System)

19. 1 درج ذیل میں سے کس ملک میں دو جماعتی نظام (Two Party System) ہے؟

(a) چین (b) روس

(c) امریکہ (d) ہندوستان

20. 1 دنیا میں زیادہ تر لوگ کس قسم کی حکومت کو پسند کرتے ہیں؟

(a) جمہوری (Democratic)

(b) ملٹری (Military)

(c) تانا شاہی (آمرایت) (Dictatorship)

(d) مذہبی (Theocratic)

حصہ - B

(4×2=8) (بہت چھوٹے جواب کے سوال)

21. (A) 2 بندھوا مزدوروں کو بھرتی کرنے کے لیے یورپی لوگوں کے ذریعے اپنائے گئے کوئی دو طریقے بیان کیجئے۔

یا

(B) 2 سولہویں صدی کے وسط میں 'چچک' (Small Pox) اسپینی فاتحین کا کس طرح سب سے زیادہ

2 طاقتور تھی ثابت ہوا؟ وضاحت کیجئے۔





22. ”زراعت اور صنعت ایک دوسرے سے شانہ بہ شانہ (hand in hand) ترقی کرتے ہیں؟“ اس قول کی تائید مثالوں کے ساتھ کیجئے۔ 2
23. ”مختلف لوگوں کی ترقی کے مقاصد مختلف ہو سکتے ہیں“ مثالوں کے ساتھ اس قول کی وضاحت کیجئے۔ 2
24. ”ہمارے سماج میں عورتیں مختلف طریقوں سے بھید بھاؤ کا سامنا کرتی ہیں۔“ کوئی دو طریقے بیان کیجئے۔ 2

حصہ - C

(5×3=15)

(چھوٹے جواب کے سوال)

25. ”ابتدائی انیسویں صدی کے یورپ میں قومی وحدت کا تعود رواداری یا فراخدلی کے ساتھ بہت مضبوطی سے جڑا ہوا تھا۔“ اس قول کی جانچ کیجئے۔ 3
26. ہندوستان کی زراعت کی ترقی کے لیے کی گئیں کوئی تین اداراتی اصلاحات بیان کیجئے۔ 3
27. انفارمیشن ٹکنالوجی، گلوبلائزیشن کے ساتھ کس طرح جڑی ہوئی ہے؟ وضاحت کیجئے۔ 3
28. جمہوریت میں سیاسی پارٹیوں کی ضرورت کا تجزیہ کیجئے۔ 3
29. (A) ہندوستان میں ’ثالثی شعبہ‘ (Tertiary Sector) اتنا اہم کیوں ہوتا جا رہا ہے؟ وضاحت کیجئے۔ 3

یا

- (B) غیر منظم شعبے کے مزدوروں کا تحفظ کرنا کیوں ضروری ہے؟ بیان کیجئے۔ 3

حصہ - D

(4× 5=20)

(لمبے جواب کے سوال)

30. (A) دیہی علاقوں میں سول نافرمانی تحریک (Civil Disobedience Movement) کی ترقی کی جانچ کیجئے۔ 5

یا

- (B) ہندوستان میں مختلف کمیونٹیز (Communities) میں اجتماعی تعلق کا احساس (Collective belonging) پیدا کرنے کے طریقوں کا تجزیہ کیجئے۔ 5





31. (A) پائپ لائین نقل و حمل نیٹ ورک ہندوستان کے نقل و حمل کے سسٹم میں کس طرح اہم ہے؟

5 مثالوں کے ساتھ وضاحت کیجئے۔

یا

(B) طبعی اور معاشی عوامل نے ہندوستان کے ریلوے نیٹ ورک کے تقسیمی سسٹم کو کس طرح متاثر کیا ہے؟

5 مثالوں کے ساتھ وضاحت کیجئے۔

32. (A) ”جمہوریت افراد کی آزادی اور وقار کو فروغ دینے میں کسی بھی دوسری طرز حکومت کے مقابلہ زیادہ اعلیٰ

5 مقام رکھتی ہے“ اس بیان کی تائید دلیلوں کے ساتھ کیجئے۔

یا

(B) ”جمہوریت‘ ایک جواب دہ، ذمہ دار اور قانونی حکومت فراہم کرتی ہے؟“

5 اس بیان کی تائید دلیلوں کے ساتھ کیجئے۔

33. (A) دیہی معیشت میں ’خودامدادی گروپوں‘ کے رول کو ثابت کیجئے۔

یا

(B) ”سستا اور قابل استطاعت قرض ملک کی ترقی کے لیے بہت زیادہ ضروری ہے“

5 اس قول کو ثابت کیجئے۔





حصہ - E

(3×4=12)

(کیس پر مبنی سوال)

34. دیئے گئے کیس کو پڑھئے اور اس کے نیچے دیئے گئے سوالوں کے جواب لکھیئے۔

اخبار کیوں؟

’مقامی دلچسپی کے ہر موضوع کے بارے میں مفید معلومات فراہم کرنے کے مقصد کے پیش نظر پونا کے باشندے کرشنا جی ترمبک رانا ڈے مراٹھی زبان میں ایک اخبار شائع کرنا چاہتے ہیں۔ یہ اخبار، عام افادیت، سائنسی تحقیقات، پرانے زمانے کی اشیاء، اعداد و شمار، عجائبات، ملک کے مختلف حصوں کے بارے میں عام طور پر، اور خصوصاً دکن سے متعلق جان کاریاں ہوں گی۔۔۔۔۔ عوام کی بہبود اور معلومات کی تبلیغ و ترویج میں دلچسپی رکھنے والے ہر فرد کی سرپرستی اور معاونت کا خیر مقدم کیا جائے گا۔‘

بامبے ٹیلی گراف اینڈ کوریئر، 6 جنوری، 1849

’دیسی اخباروں اور سیاسی تنظیموں کا کام لندن کی پارلیمنٹ میں ہاؤس آف کامنس میں حزب اختلاف کے کاموں سے مماثل ہے۔ یعنی حکومت کی پالیسی کو ناقدانہ جانچنا اور عوام کے لیے غیر مفید حصوں کو خارج کر کے اس کے بہتری کے لیے مشورے دینا اور ساتھ ہی اس کے نفاذ کو یقینی بنانا۔‘

ان تنظیموں کو خاص خاص مسائل کا محتاط اور غائر مطالعہ کرنا چاہئے ملک و قوم سے متعلق ضروری معلومات اکٹھا کرنا چاہیے ساتھ ہی پسندیدہ اور امکانی اصلاحات کے بارے میں بتانا چاہیے۔ یہ بات یقیناً تنظیم کے اثر و رسوخ میں معتد بہ اضافہ کرے گی۔‘

نیو اوپینین، 3 اپریل، 1870

- 1 (I) کرشنا جی کا اخبار شائع کرنے کا اہم سبب بیان کیجئے۔
- 1 (II) دیسی اخبار اور سیاسی تنظیم کے کاموں کو حزب اختلاف کے کاموں سے مماثل کیسے دیکھا گیا؟
- 2 (III) انیسویں صدی کے دوران اخباروں کی عوام میں مقبولیت کے اسباب کا تجزیہ کیجئے۔





35. دیے گئے کیس کو پڑھیے اور اس کے نیچے دیئے گئے سوالوں کے جواب لکھیے۔

بارش کے پانی کو جمع کر کے رکھنا

کئی لوگوں کا یہ خیال تھا کہ متذکرہ نقصانات اور بڑھتے ہوئے احتجاج کے پیش نظر سماجی، اقتصادی اور ماحولیاتی نقطہ نظر سے ان کثیر المقاصد منصوبوں کی جگہ واٹر ہارویسٹنگ سسٹم ایک مفید نعم البدل ہو سکتا ہے۔ قدیم ہندوستان میں، مصنوعی آبی تعمیرات کے ساتھ ساتھ غیر معمولی واٹر ہارویسٹنگ سسٹم کا بھی رواج تھا۔ لوگوں کو بارش کے نظام اور مٹی کے اقسام کے بارے میں گہری معلومات تھیں۔ انہوں نے بارش کے پانی کے وسیع اور ترقی یافتہ طریقہ کار زمین دوز پانی، ندی کے پانی اور سیلاب کے پانی اور ان کے ماحولیاتی تقاضوں اور اپنی ضرورتوں کے حساب سے کئی طریقے ایجاد کر لئے تھے۔ پہاڑی اور کوہستانی علاقوں میں لوگوں نے 'گل' یا 'گل' (مغربی ہمالیہ) جیسی نلیاں (Diversion Channels)، ندی کے بہاؤ کا راستہ بدل کر کھیتوں میں سچائی کے لئے بنائی ہیں۔

مغربی ہندوستان خاص کر راجستھان میں پینے کا پانی اکٹھا کرنے کے لئے 'چھت پر بارش کے پانی کا جماؤ' (Rooftop rainwater harvesting) کا طریقہ عام تھا۔ مغربی بنگال میں سیلاب کے میدانوں میں لوگ اپنے کھیتوں کی سچائی کے لئے سیلابی رودبار (Inundation Channels) بناتے تھے۔

ریگستانی اور نیم ریگستانی علاقوں میں کھیتوں میں بارش کا پانی اکٹھا کرنے کے لئے گڈھے بنائے جاتے تھے تاکہ مٹی کو مرطوب کیا جاسکے۔ اور اکٹھا کئے گئے پانی کو کھیتی کے لئے استعمال کیا جاسکے۔ راجستھان کے ضلع جیسلمیر میں 'کھادن' اور دوسرے علاقوں میں 'جوہڑ' اسکی مثالیں ہیں۔

(I) بارش کے پانی کو جمع کر کے رکھنا (واٹر ہارویسٹنگ سسٹم) ایک مفید نعم البدل (Viable alternative)

1 کیوں ہے؟

1 'چھت پر بارش کے پانی کو جمع کر کے رکھنے' کے عمل کو بیان کیجئے۔ (II)

2 قدیم ہندوستان میں واٹر ہارویسٹنگ (پانی کے تحفظ) کے لیے اپنائے گئے کوئی دو طریقے بیان کیجئے۔ (III)





36. دیے گئے ماخذ کو پڑھیے اور اس کے نیچے دیے گئے سوالوں کے جواب لکھیے۔

ہندوستان کا لسانی تنوع

ہمارے یہاں ہندوستان میں کتنی زبانیں ہیں۔ اس کا جواب شمار کرنے والے پر منحصر ہے۔ اس سلسلے میں ہمارے پاس 2011 کی مردم شماری کی تازہ معلومات ہیں۔ اس مردم شماری کے مطابق 1300 زبانیں ایسی ہیں جنہیں لوگوں نے اپنی مادری زبان کی حیثیت سے درج کیا تھا۔ ان زبانوں کو کچھ بڑی زبانوں کے تحت گروپ بند طور پر جمع کر دیا گیا۔ مثلاً بھوجپوری، مگدھی، بندیل کھنڈی، چھتیسگرھی، راجستھانی اور اسی طرح کی دوسری زبانوں کو ہندی کے گروپ میں شامل کر دیا گیا۔ اس گروپ ہندی کے بعد بھی مردم شماری میں 121 بڑی زبانیں سامنے آتی ہیں۔ ان سب میں سے 22 زبانیں ایسی ہیں جنہیں آئین ہندی کی آٹھویں فہرست بند میں شامل کیا گیا ہے۔ اور انہیں فہرست بند زبانیں کہا جاتا ہے۔ باقی کو غیر فہرست بند زبانیں کہتے ہیں۔ زبان کی حیثیت سے شاید ہندوستان دنیا کا سب سے زیادہ متنوع ملک ہے۔

1 (I) ہندوستان میں لسانی تنوع کی اہمیت بیان کیجئے۔

(II) فہرست بند اور غیر فہرست بند (Scheduled and Non-Scheduled) زبانوں میں

1 فرق واضح کیجئے۔

(III) 'زبانوں کو ملا کر ایک کرنے نے ملک کو ایک کلچرل اکائی میں اکٹھا کیا ہے'

2 اس قول کی مثالوں کے ساتھ وضاحت کیجئے۔





حصہ - F

(2+3=5)

(نقشے کی مہارت پر مبنی سوال)

37. (i) دیے گئے ہندوستان کے نقشے کے سیاسی خاکہ میں دو مقامات A اور B دکھائے گئے ہیں۔ دی گئی معلومات کی مدد سے ان کو پہچاننے اور ان کے ساتھ کھینچی ہوئی لائینوں پر ان کے صحیح نام لکھئے۔
- (a) وہ جگہ جہاں مہاتما گاندھی نے نیل کی کھیتی کرنے والے کسانوں کے لیے ستیہ گرہ شروع کیا تھا۔ 1
- (b) وہ جگہ جہاں انڈین نیشنل کانگریس کا دسمبر 1920 میں اجلاس منعقد ہوا۔ 1
- (ii) ہندوستان کے دیے گئے اسی نقشے پر درج ذیل میں سے کہیں تین کو مناسب علامات سے دکھائیے اور ان کے نام لکھئے۔
- (a) ٹہری باندھ 1
- (b) نرورہ ایٹمی پاور پلانٹ 1
- (c) پونہ سافٹ وریٹننا لوجی پارک 1
- (d) ہلدیا بحری بندرگاہ 1

(5×1=5)

نوٹ:- درج ذیل سوال صرف ناپیدنا طلباء اور طالبات کے لیے سوال نمبر 37 کے بدلے۔
کہیں پانچ کے جواب لکھیے۔

- (i) اس جگہ کا نام لکھیے، جہاں انڈین نیشنل کانگریس کا دسمبر 1920 کا اجلاس ہوا تھا۔ 1
- (ii) اس جگہ کا نام لکھیے، جہاں مہاتما گاندھی نے نیل کی کھیتی کرنے والے کسانوں کے لیے ستیہ گرہ شروع کیا تھا۔ 1
- (iii) اس ریاست کا نام لکھیے، جہاں نرورہ ایٹمی پاور پلانٹ واقع ہے۔ 1
- (iv) اس ریاست کا نام لکھیے، جہاں ٹہری باندھ (ڈیم) واقع ہے۔ 1
- (v) اس ریاست کا نام لکھیے، جہاں ممبئی سافٹ وریٹننا لوجی پارک واقع ہے۔ 1
- (vi) اس ریاست کا نام لکھیے، جہاں ہلدیا بحری بندرگاہ واقع ہے۔ 1





نقشہ سوال نمبر 37 کے لیے

یہاں سے کاٹیں
Cut Here
یہاں سے کاٹیں
Cut Here

